



ESCOLA MUNICIPAL LAURO LUIZ
Ensino Fundamental - Anos Iniciais
RUA 13 de Maio, Nº 311 Fone: (45) 3233-1222
CAMPO BONITO CEP: 85.450-000 PARANÁ

TURMA 1º ANO A - ATIVIDADES REMOTAS DE 16/08 A 20/08

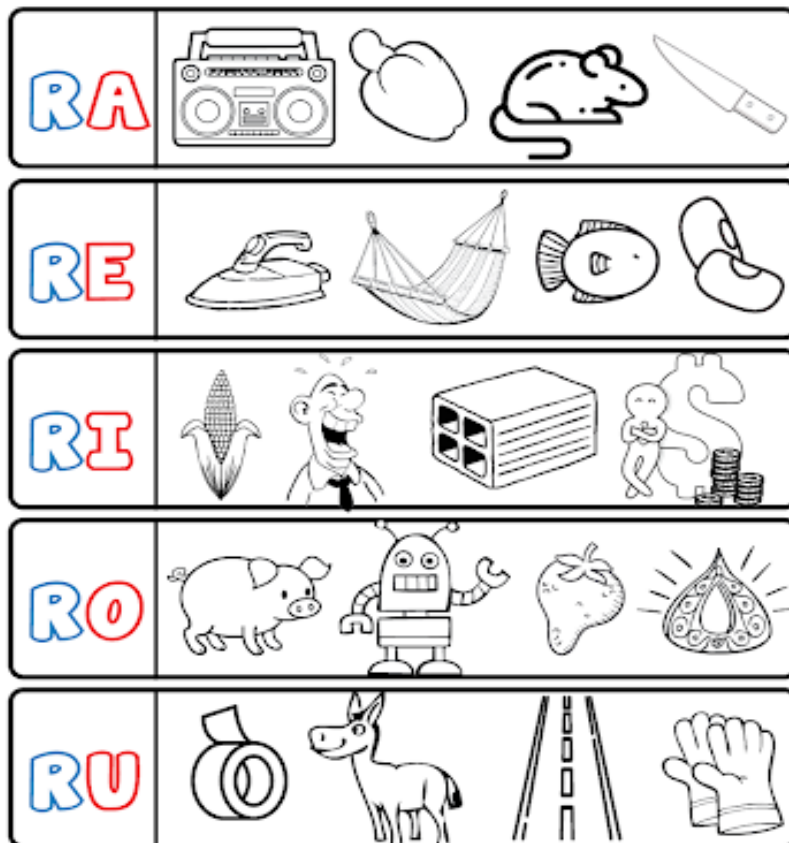
ALUNO (A): _____
PROFESSORA: CLAUDIA ROSA ROCHA
DISCIPLINA: PORTUGUÊS

VAMOS LER COM A NOSSA CRIANÇA O TRAVA-LÍNGUA DO RATO.

ATIVIDADE 01: PINTE NO TRAVA-LÍNGUA AS PALAVRAS QUE COMEÇAM COM R:




ATIVIDADE 02: PINTE OS DESENHOS QUE COMEÇAM COM RA, RE, RI, RO, RU:



ATIVIDADE 03: FORME AS PALAVRAS E DEPOIS LEIA:

<p>RE → DE <input type="text"/></p> <p>RE → MÉDIO <input type="text"/></p> <p>RE → MO <input type="text"/></p>	<p>RÁ → PIDO <input type="text"/></p> <p>RÁ → DIO <input type="text"/></p>
<p>RO → DA <input type="text"/></p> <p>RO → DO <input type="text"/></p> <p>RO → BÔ <input type="text"/></p>	<p>RI → TA <input type="text"/></p> <p>RI → VELINO <input type="text"/></p>
<p>RA → BO <input type="text"/></p> <p>RA → TO <input type="text"/></p> <p>RA → LO <input type="text"/></p>	<p>RU → A <input type="text"/></p> <p>RU → MO <input type="text"/></p>

ATIVIDADE 04: PINTE OS DESENHOS, RECORTE E COLE NO SEU NOME:



RATO

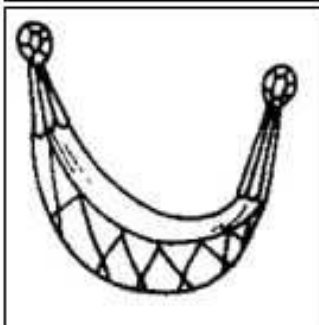




REDE

ROBÔ

RIO

RINOCERONTE

RUA



ATIVIDADE 05: LEIA AS PALAVRAS E CIRCULE O NOME DE CADA FIGURA:

	<p>RAMO RATO RALO</p>		<p>RIO RIPA RIFA</p>
	<p>RIO RETA REMO</p>		<p>RAPA RALO RAMO</p>
	<p>RÁDIO RALO RABO</p>		<p>REMO REI REDE</p>
	<p>REDE REI RÉGUA</p>		<p>RATO RODA REI</p>
	<p>RIO RODA ROLO</p>		<p>RUA RUGA RUTE</p>

ATIVIDADE 06: AGORA COPIE AQUI, AS PALAVRAS QUE VOCÊ CIRCULOU:



ESCOLA MUNICIPAL LAURO LUIZ

Ensino Fundamental - Anos Iniciais

RUA 13 de Maio, Nº 311 Fone: (45) 3233-1222
CAMPO BONITO CEP: 85.450-000 PARANÁ

TURMA 1º ANO A - ATIVIDADES REMOTAS DE 16/08 A 20/08

ALUNO (A): _____

PROFESSORA: CLAUDIA ROSA ROCHA

DISCIPLINA: MATEMÁTICA

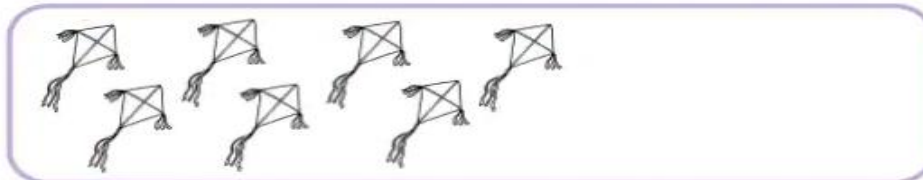

ATIVIDADE 01: VAMOS RETOMAR OS CONTEÚDOS DE DEZENA E DÚZIA, RESOLVENDO AS ATIVIDADES:

	QUANTOS CARRINHOS TEM JOÃO OCTÁVIO?
	QUANTAS BOLAS TEM A ESTHER?

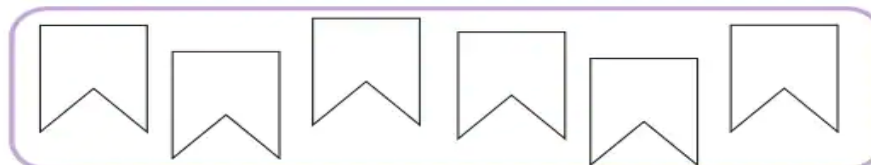
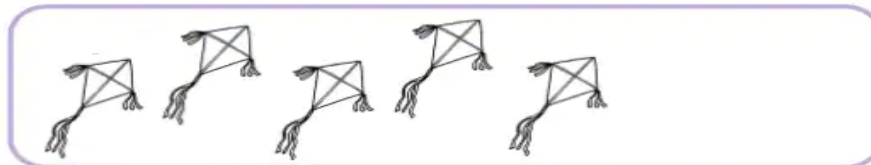

ATIVIDADE 02: PINTE:

<p>1 DÚZIA DE BANANAS = 12</p>	<p>MEIA DÚZIA DE OVOS = 6</p>
--------------------------------	-------------------------------

ATIVIDADE 03: DESENHE OS OBJETOS QUE FALTAM PARA FORMAR UMA DÚZIA:



ATIVIDADE 04: DESENHE OS OBJETOS QUE FALTAM PARA FORMAR MEIA DÚZIA:



ATIVIDADE 05: DUMBO PRECISA DE UMA DEZENA DE SABÕES PARA O SEU BANHO. VOCÊ PODE PINTAR A QUANTIDADE DE SABÕES QUE ELE PRECISA?



ATIVIDADE 05: CONTE E SOME AS PINTINHAS DAS JOANINHAS:

	+		=	
	+		=	
	+		=	
	+		=	
	+		=	



ESCOLA MUNICIPAL LAURO LUIZ
Ensino Fundamental - Anos Iniciais
RUA 13 de Maio, Nº 311 Fone: (45) 3233-1222
CAMPO BONITO CEP: 85.450-000 PARANÁ

TURMA 1º ANO A - ATIVIDADES REMOTAS DE 16/08 A 20/08

ALUNO (A): _____

PROFESSORA: CLAUDIA ROSA ROCHA

DISCIPLINA: HISTÓRIA E GEOGRAFIA

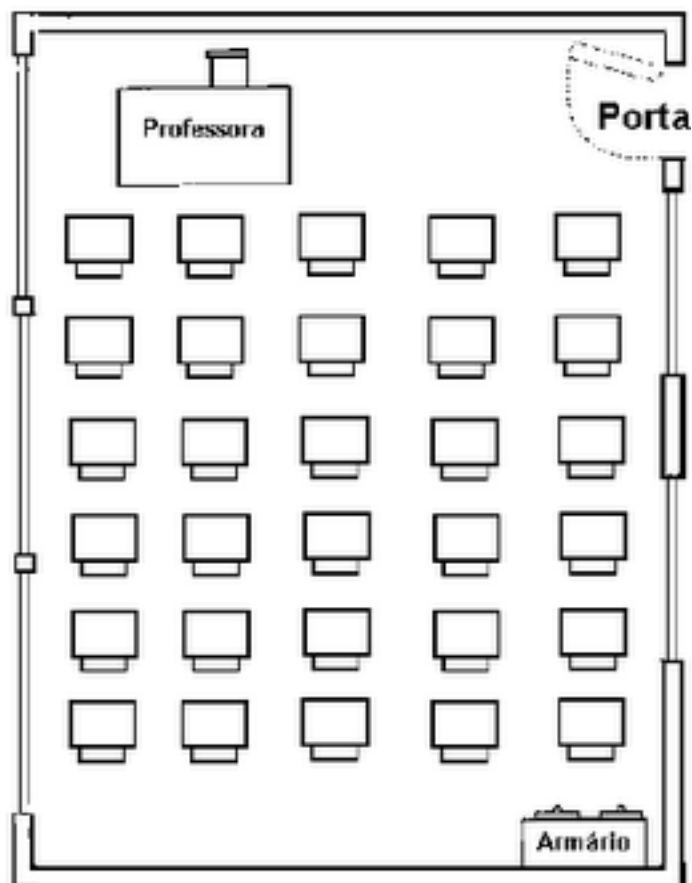
A SALA DE AULA

A SALA DE AULA É O LUGAR DA ESCOLA ONDE OS ALUNOS ESTUDAM. NA SALA DE AULA HÁ: CARTEIRAS, CADEIRAS, MESA DA PROFESSORA, ARMÁRIO, QUADRO, CESTO DE LIXO.

É IMPORTANTE LEMBRAR QUE:

- A SALA DE AULA DEVE ESTAR SEMPRE LIMPA E ORGANIZADA;
- CADA ALUNO DEVE CUIDAR DO SEU MATERIAL ESCOLAR E CONSERVAR O MATERIAL DA SALA, QUE PERTENCE A TODOS OS ALUNOS;

ESSA É UMA MAQUETE DE UMA SALA DE AULA VISTA DE CIMA:



ATIVIDADES:

1. ESCOLHA UMA CARTEIRA NO DESENHO AO LADO, ONDE VOCÊ IRIA SENTAR NA SALA DE AULA E PINTE DE VERMELHO;
2. A CARTEIRA DO SEU LADO DIREITO PINTE DE AMARELO;
3. A CARTEIRA DO SEU LADO ESQUERDO PINTE DE AZUL;
4. A CARTEIRA DA FRENTE E DE TRÁS, PINTE DE LARANJA;



ESCOLA MUNICIPAL LAURO LUIZ
Ensino Fundamental - Anos Iniciais
RUA 13 de Maio, Nº 311 Fone: (45) 3233-1222
CAMPO BONITO CEP: 85.450-000 PARANÁ

TURMA 1º ANO A - ATIVIDADES REMOTAS DE 16/08 A 20/08

ALUNO(A): _____

PROFESSORA: JOCELI SILVEIRA
DISCIPLINA: CIÊNCIAS

SERES VIVOS E A RELAÇÃO COM MEIO AMBIENTE


1- OBSERVE A ATIVIDADE ABAIXO, E COMPLETE DE ACORDO COM O QUE PEDE;

QUESTÃO 1

NUMERE DE ACORDO COM A LEGENDA.

(1) SERES VIVOS.

(2) SERES NÃO VIVOS.



()




()



()




()



()



()



()

QUESTÃO 2

DESENHE SERES VIVOS QUE VIVEM NA :

TERRA



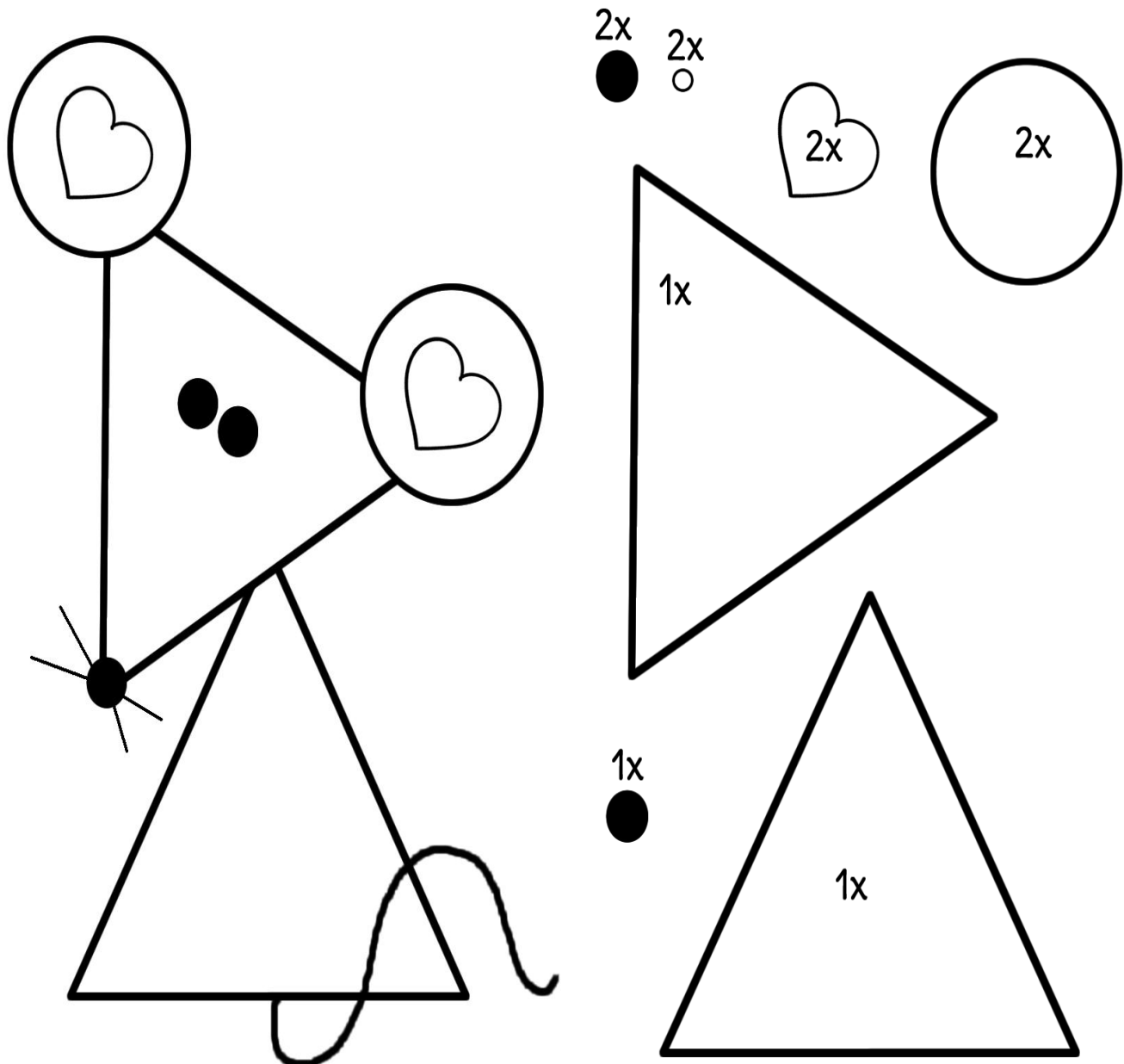


ESCOLA MUNICIPAL LAURO LUIZ
Ensino Fundamental - Anos Iniciais
RUA 13 de Maio, Nº 311 Fone: (45) 3233-1222
CAMPO BONITO CEP: 85.450-000 PARANÁ

TURMA 1º ANO A - ATIVIDADES REMOTAS DE 16/08 A 20/08

ALUNO (A): _____
PROFESSORA: ELIANE DOMINIAK
DISCIPLINA: ARTE

RECORTE AS FORMAS GEOMÉTRICAS AO LADO E MONTE O RATINHO CONFORME O DESENHO:





ESCOLA MUNICIPAL LAURO LUIZ
Ensino Fundamental - Anos Iniciais
RUA 13 de Maio, N° 311 Fone: (45) 3233-1222
CAMPO BONITO CEP: 85.450-000 PARANÁ

ALUNO(A): _____
PROFESSOR: RAFAEL MIORANZA
DISCIPLINA: EDUCAÇÃO FÍSICA

VÔLEI CEGO

DESCRIÇÃO: ATIVIDADE QUE EXIGE DO ALUNO ATENÇÃO COORDENAÇÃO MOTORA AMPLA, ATENÇÃO, AGILIDADE COM RAPIDEZ E NOS MOVIMENTOS, ATENÇÃO COM A COORDENAÇÃO DE ÓCULO-MANUAL.

O JOGO: JOGO DE VOLEIBOL PARA CEGO. SENTADOS DE FRENTE PARA A (REDE) IMPROVISADA COM CADEIRAS, CABO DE VASSOURA E UMA COBERTA OU MATERIAIS SIMILARES PARA REALIZAÇÃO DA ATIVIDADE. JOGO PODERÁ O ALUNO DAR NO MÁXIMO 3 (TRÊS) TOQUES “BOLA” (SACOLA PLÁSTICA) EXEMPLO, E PASSAR DO OUTRO LADO DA REDE FEITA POR UM COBERTOR. AO CAIR NO CHÃO OU NÃO CONSEGUIR PASSAR A BOLA PARA O OUTRO LADO, O ADVERSÁRIO PONTUA. OBSERVE NO VÍDEO QUE NÃO PODE DAR MAIS QUE 3 TOQUES NA BOLA.

