



ESCOLA MUNICIPAL LAURO LUIZ
Ensino Fundamental - Anos Iniciais
RUA 13 de Maio, Nº 311 Fone:(45) 3233-1222
CAMPO BONITO CEP: 85.450-000 PARANÁ

TURMA 1º ANO "B" - ATIVIDADES REMOTAS DE 14/06 A 25/06/2021

ALUNO(A): _____

PROFESSORA: CLAUDIA ROSA ROCHA
DISCIPLINA: PORTUGUÊS

SENHORES PAIS: VAMOS TRABALHAR COM A LETRA "D", PARA ISSO VAMOS LER COM A NOSSA CRIANÇA O TRAVA-LÍNGUA "O DOCE" E RESPONDER AS QUESTÕES ABAIXO:

TRAVA-LÍNGUA



O DOCE



O DOCE PERGUNTOU PRO DOCE
QUAL ERA O DOCE MAIS DOCE.
O DOCE RESPONDEU PRO DOCE
QUE O DOCE MAIS DOCE
ERA O DOCE DE BATATA DOCE



Pequenos Grandes Pensantes



ATIVIDADE 1:

A) CIRCULE A PALAVRA **DOCE** NO TRAVA-LÍNGUA ACIMA:

B) PINTE UM QUADRINHO PARA CADA VEZ QUE A PALAVRA DOCE APARECEU NO TRAVA-LÍNGUA:

--	--	--	--	--	--	--	--	--	--

C) AGORA REGISTRE COM O NUMERAL A QUANTIDADE DE QUADRINHOS QUE VOCÊ PINTOU:

--

D) ESCREVA A PALAVRA **DOCE** USANDO UM QUADRINHO PARA CADA LETRA:

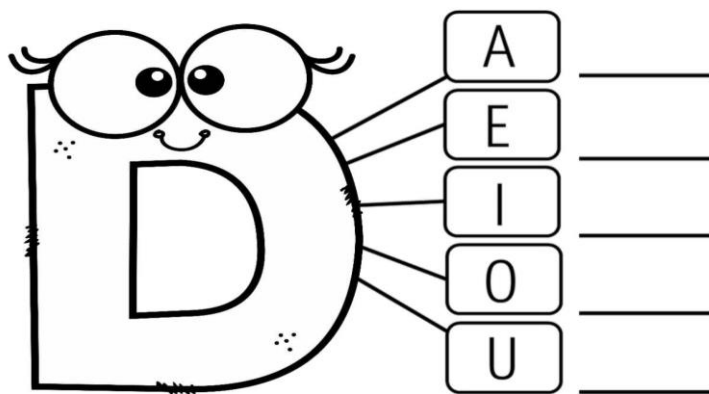
--	--	--	--

E) PINTE A QUANTIDADE DE QUADRINHOS QUE VOCÊ USOU:

--	--	--	--	--	--	--	--	--	--


ATIVIDADE 2:

EU SOU A LETRA D, PARA VOCÊ PEQUENININHO VOU ENSINAR MEUS PEDACINHOS.




COMPLETE AS PALAVRAS ABAIXO COM AS SÍLABAS:

DA – DE – DI – DO – DU – DÃO




ATIVIDADE 3: MARQUE COM UM X TODAS AS FIGURAS QUE INICIAM COM A LETRA D, DEPOIS ESCREVA O NOME DAS FIGURAS NO QUADRO AO LADO:




ATIVIDADE 4: RECORTE E COLE NO RETÂNGULO 10 PALAVRAS QUE TENHAM A LETRA D:



ATIVIDADE 5:



CEBOLINHA ESTÁ BRINCANDO DE DETETIVE.
DETETIVE COMEÇA COM A LETRA "D".
VAMOS PINTAR OS DESENHOS QUE INICIAM COM A MESMA LETRA DE
DETETIVE.

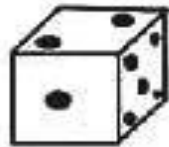


ATIVIDADE 6:

COMPLETE AS PALAVRAS COM AS SÍLABAS
DA - DE - DI - DO OU DU




___ DO



___ DO



___ CE




___ MA




___ NHEIRO



___ DAL



___ MINÓ



___ NOSSAURO



___ SCO

AGORA LEIA E COPIE AS PALAVRAS QUE VOCÊ COMPLETOU NOS QUADROS ABAIXO:

ATIVIDADE 7: VAMOS PRATICAR A LETRA "D", CUBRINDO COM A COR DE SUA PREFERÊNCIA, SEGUINDO CONFORME AS SETAS:



DENTE



DAMA



DADO



2

DOIS



ATIVIDADE 8: LIGUE AS FIGURAS DE ACORDO COM A SÍLABA INICIAL:



DA



DE



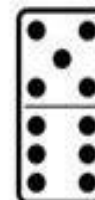
DI



DO



DU



AGORA LEIA AS PALAVRAS ABAIXO:

DETETIVE

DINOSSAURO

DADO

DÁLMATA

DEDO

DUENDE

DOCE

DIAMANTE

DOMINÓ

DUREX



ESCOLA MUNICIPAL LAURO LUIZ
Ensino Fundamental - Anos Iniciais
RUA 13 de Maio, Nº 311 Fone: (45) 3233-1222
CAMPO BONITO CEP: 85.450-000 PARANÁ













TURMA 1º ANO "B" - ATIVIDADES REMOTAS DE 14/05 A 25/06/2021

ALUNO(A): _____

PROFESSORA: CLAUDIA ROSA ROCHA




DISCIPLINA: MATEMÁTICA

NUMERAÇÃO: NÚMEROS, QUANTIDADE E ESCRITA.

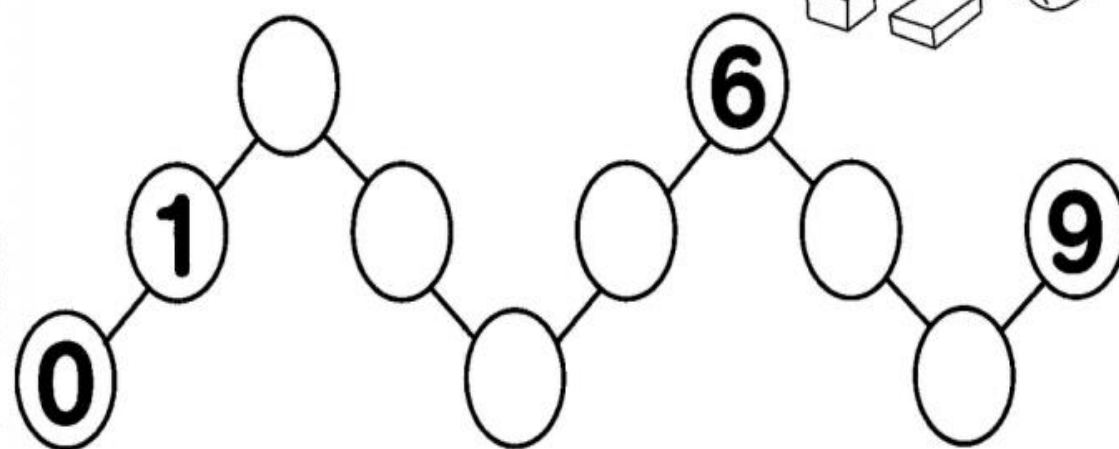
	1	UM
	1	UMA
	2	DOIS
	2	DUAS
	3	TRÊS
	4	QUATRO
	5	CINCO
	6	SEIS
	7	SETE
	8	OITO
	9	NOVE
	10	DEZ

MATEMÁTICA: JÁ TRABALHAMOS ATÉ O NÚMERO 10(DEZ), AGORA VAMOS RETOMAR OS NÚMEROS REALIZANDO ALGUMAS ATIVIDADES DIFERENCIADAS, ENTRE ADIÇÃO, SEQUÊNCIA DOS NÚMEROS,

ATIVIDADE 1: EU COMEÇO E VOCÊ CONTINUA COMPLETANDO OS NÚMEROS DAS CASINHAS:


















➡ 2) COMPLETE:



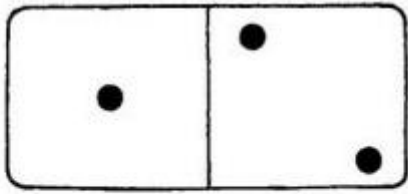
ATIVIDADE 2: CONTE E PINTE A QUANTIDADE DE QUADRADINHOS REFERENTE A IDADE DE CADA CRIANÇA:

					
<input type="checkbox"/> <input type="checkbox"/> <input type="checkbox"/> <input type="checkbox"/> <input type="checkbox"/> <input type="checkbox"/> <input type="checkbox"/> <input type="checkbox"/> <input type="checkbox"/> <input type="checkbox"/>	<input type="checkbox"/> <input type="checkbox"/> <input type="checkbox"/> <input type="checkbox"/> <input type="checkbox"/> <input type="checkbox"/> <input type="checkbox"/> <input type="checkbox"/> <input type="checkbox"/> <input type="checkbox"/>	<input type="checkbox"/> <input type="checkbox"/> <input type="checkbox"/> <input type="checkbox"/> <input type="checkbox"/> <input type="checkbox"/> <input type="checkbox"/> <input type="checkbox"/> <input type="checkbox"/> <input type="checkbox"/>	<input type="checkbox"/> <input type="checkbox"/> <input type="checkbox"/> <input type="checkbox"/> <input type="checkbox"/> <input type="checkbox"/> <input type="checkbox"/> <input type="checkbox"/> <input type="checkbox"/> <input type="checkbox"/>	<input type="checkbox"/> <input type="checkbox"/> <input type="checkbox"/> <input type="checkbox"/> <input type="checkbox"/> <input type="checkbox"/> <input type="checkbox"/> <input type="checkbox"/> <input type="checkbox"/> <input type="checkbox"/>	<input type="checkbox"/> <input type="checkbox"/> <input type="checkbox"/> <input type="checkbox"/> <input type="checkbox"/> <input type="checkbox"/> <input type="checkbox"/> <input type="checkbox"/> <input type="checkbox"/> <input type="checkbox"/>
CAROL	BETO	FABI	TIAGO	NINA	LUCA
8	10	7	9	6	5

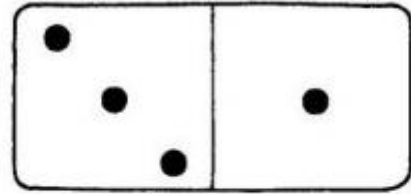
ATIVIDADE 3: JOGANDO DADO: CALCULE QUANTOS PONTOS VOCÊ FEZ EM CADA JOGADA DO DADO, ESCRIVENDO OS PONTOS E O TOTAL:

 +	<input type="checkbox"/>		 +	<input type="checkbox"/>
 =	<input type="checkbox"/>		 =	<input type="checkbox"/>
<input type="checkbox"/>	<input type="checkbox"/>		<input type="checkbox"/>	
<hr/>				
 +	<input type="checkbox"/>		 +	<input type="checkbox"/>
 =	<input type="checkbox"/>		 =	<input type="checkbox"/>
<input type="checkbox"/>	<input type="checkbox"/>		<input type="checkbox"/>	
<hr/>				
 +	<input type="checkbox"/>		 +	<input type="checkbox"/>
 =	<input type="checkbox"/>		 =	<input type="checkbox"/>
<input type="checkbox"/>	<input type="checkbox"/>		<input type="checkbox"/>	

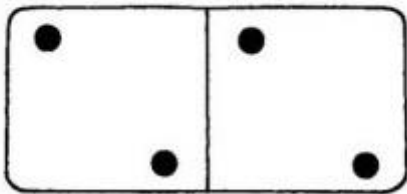
ATIVIDADE 4: VAMOS JUNTAR OS ELEMENTOS E SOMAR O TOTAL DE CADA DADO:




$$\boxed{1} + \boxed{2} = \boxed{3}$$




$$\boxed{\quad} + \boxed{\quad} = \boxed{\quad}$$



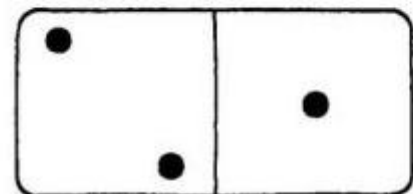
$$\boxed{\quad} + \boxed{\quad} = \boxed{\quad}$$




$$\boxed{\quad} + \boxed{\quad} = \boxed{\quad}$$




$$\boxed{\quad} + \boxed{\quad} = \boxed{\quad}$$



$$\boxed{\quad} + \boxed{\quad} = \boxed{\quad}$$



$$\boxed{\quad} + \boxed{\quad} = \boxed{\quad}$$



$$\boxed{\quad} + \boxed{\quad} = \boxed{\quad}$$

ATIVIDADE 5: VAMOS SOMAR OS NÚMEROS? EU JÁ DESENHEI A QUANTIDADE DO PRIMEIRO NÚMERO, AGORA É SUA VEZ: VOCÊ VAI DESENHAR AS BOLINHAS PARA O SEGUNDO NÚMERO, CONTAR TODAS AS BOLINHAS E COLOCAR O RESULTADO NO QUADRADINHO:

$3 + 5 = \square$

●	●	●		

$7 + 2 = \square$

●	●	●	●	●
●	●			

$4 + 1 = \square$

●	●	●	●	

$2 + 4 = \square$

●	●			


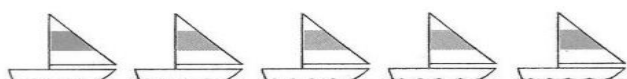
$1 + 6 = \square$

●				

$1 + 3 = \square$

●				

ATIVIDADE 6: LIGUE OS CONJUNTOS AOS NÚMEROS CORRESPONDENTES:



9

2

6

1

8

5

10



ESCOLA MUNICIPAL LAURO LUIZ
Ensino Fundamental - Anos Iniciais
RUA 13 de Maio, Nº 311 Fone:(45) 3233-1222
CAMPO BONITO CEP: 85.450-000 PARANÁ

TURMA 1º ANO "B" - ATIVIDADES REMOTAS DE 14/06 A 25/06/2021

ALUNO(A): _____

PROFESSORA: CLAUDIA ROSA ROCHA
DISCIPLINA: HISTÓRIA E GEOGRAFIA

O TEMPO

GERALMENTE USAMOS AS ROUPAS CONFORME AS ESTAÇÕES DO ANO. ÀS VEZES USAMOS ROUPAS GROSSAS PORQUE ESTÁ MUITO FRIO. QUANDO HÁ MUITO SOL E FAZ CALOR, USAMOS ROUPAS LEVES.

AS ESTAÇÕES DO ANO

O TEMPO MUDA DE ACORDO COM AS ESTAÇÕES DO ANO: PRIMAVERA, VERÃO, OUTONO E INVERNO.


PRIMAVERA

É A ESTAÇÃO DAS FLORES




VERÃO

É A ESTAÇÃO MAIS QUENTE DO ANO.



OUTONO

É A ESTAÇÃO DAS FRUTAS!!







INVERNO

É A ESTAÇÃO MAIS FRIA DO ANO, MUITO FRIO, GEADAS.



ATIVIDADE 1:

PRIMAVERA, VERÃO, OUTONO E INVERNO SÃO AS QUATRO ESTAÇÕES:
OBSERVE COMO FICA A PAISAGEM EM CADA ESTAÇÃO, RECORTE OS NOMES,
COLE NOS LUGARES CORRETOS E DEPOIS PINTE BEM BONITO:



PRIMAVERA

VERÃO

OUTONO

INVERNO



ESCOLA MUNICIPAL LAURO LUIZ
Ensino Fundamental - Anos Iniciais
RUA 13 de Maio, Nº 311 Fone: (45) 3233-1222
CAMPO BONITO CEP: 85.450-000 PARANÁ

TURMA 1º ANO "B" - ATIVIDADES REMOTAS DE 14/06 A 25/06/2021

ALUNO(A): _____


PROFESSORA: NADIR DE FÁTIMA DOMINIAC
DISCIPLINA: CIÊNCIAS

DIA E NOITE

Regina C. Villaça Lima





**QUANDO ACORDO BEM CEDINHO
VEJO QUE É UM LINDO DIA,
POIS O SOL ESTÁ A BRILHAR
TRAZENDO LUZ, CALOR E ALEGRIA.**



**CHEGANDO A NOITE DEVAGARINHO
VEJO NO CÉU A BRILHAR
A LUA E LINDAS ESTRELINHAS
ENFEITANDO ATÉ O DIA RAIAR!**



ATIVIDADE 01: PINTE A CENA QUE REPRESENTA O DIA.



ATIVIDADE 02: REPRESENTE ATRAVÉS DE DESENHOS O QUE VOCÊ FAZ:

DURANTE O DIA	DURANTE A NOITE

ATIVIDADE 03: RECORTE AS FIGURAS ABAIXO E COLE NOS QUADROS DE ACORDO COM AS ATIVIDADES QUE FAZEMOS DURANTE O DIA E A NOITE.





ESCOLA MUNICIPAL LAURO LUIZ

Ensino Fundamental - Anos Iniciais

RUA 13 de Maio, Nº 311 Fone:(45) 3233-1222
CAMPO BONITO CEP: 85.450-000 PARANÁ

TURMA 1º ANO "B" - ATIVIDADES REMOTAS DE 14/06 A 25/06/2021



ALUNO(A): _____

PROFESSORA: MARGARETE CHAVES

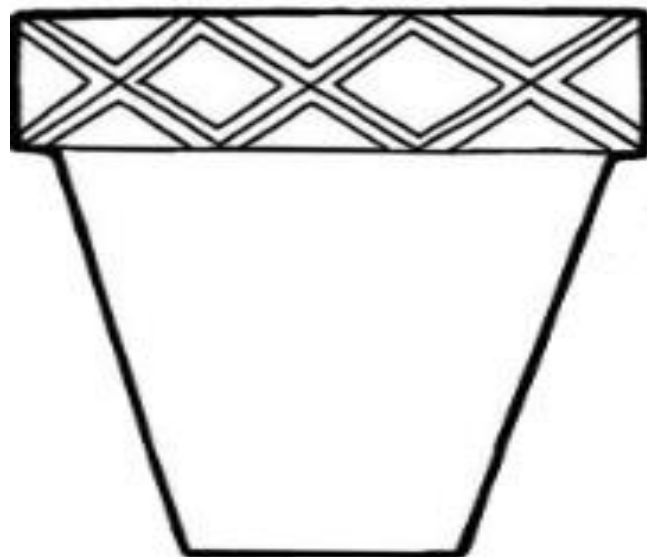
DISCIPLINA: ARTE

RECORTE E COLAGEM

VAMOS RECORTAR NOSSAS BOLAS DE SORVETE E MONTÁ-LO NA FOLHA ABAIXO. TENDE RECORTÁ-LO SEGUINDO O CONTORNO DO DESENHO.



MONTE AQUI, O SEU SORVETE!!!!





ESCOLA MUNICIPAL LAURO LUIZ

Ensino Fundamental - Anos Iniciais

RUA 13 de Maio, Nº 311 Fone:(45) 3233-1222

CAMPO BONITO CEP: 85.450-000 PARANÁ

TURMA 1º ANO "B" - ATIVIDADES REMOTAS DE 14/06 A 25/06/2021

ALUNO(A): _____


PROFESSORA: RAFAEL MIORANZA

DISCIPLINA: EDUCAÇÃO FÍSICA

OLÁ ALUNO, ESSA É A AULA DE **EDUCAÇÃO FÍSICA** DESSA SEMANA.

AGUARDAREI O COMPLEMENTO DAS ATIVIDADES EM FORMA DE FOTO, VÍDEO OU DESCRITA NO VERSO DESTA FOLHA, OK. ABRAÇO.

VOA BALÃO: INFLE UM BALÃO COLORIDO, OS JOGADORES TERÃO QUE ATINGI-LO JOGANDO-O NO AR COMO SE ESTIVESSE JOGANDO TÊNIS, MAS SEM JOGÁ-LO NO CHÃO. VOCÊ PODE CONTAR EM VOZ ALTA QUANTAS VEZES O BALÃO É ATINGIDO E TENTAR QUEBRAR O RECORDE."



A DANÇA DO TRAVESSEIRO: COLOQUE UM TRAVESSEIRO NO CHÃO, COLOQUE UMA MÚSICA RÍTMICA E COMECE A DANÇAR, UM DOS JOGADORES DIZ "TRAVESSEIRO". QUEM CONSEGUIR SE SENTAR PRIMEIRO NO TRAVESSEIRO, GANHA.