



ESCOLA MUNICIPAL LAURO LUIZ
Ensino Fundamental - Anos Iniciais
RUA 13 de Maio, Nº 311 Fone:(45) 3233-1222
CAMPO BONITO CEP: 85.450-000 PARANÁ

TURMA 1º ANO C - ATIVIDADES REMOTAS DE 09/08 A 13/08

ALUNO (A): _____
PROFESSORA: MARIA JOSÉ VIEIRA DA ROCHA
DISCIPLINA: PORTUGUÊS

ATIVIDADE 01: LEIA O TEXTO DA LETRA L COM SEU FILHO; PINTE DE **AMARELO** AS PALAVRAS QUE COMEÇAM COM L:



















L



**TEM NA LATA, TEM NO LAGO,
NA LARANJA E NO LIMÃO.
TEM NOS LÁBIOS DA LUCINHA,
NO LAGATO E NO LEITÃO.**

ATIVIDADE 02: AGORA COPIE AQUI AS PALAVRAS QUE VOCÊ PINTOU:

ATIVIDADE 03: VAMOS TREINAR A LETRA "L"

 LEÃO			
 LUVA			
 LIXO			
 LIMÃO			

ATIVIDADE 04: UMA A LETRA L COM CADA VOGAL E FORME SÍLABAS:

 L 	A → <input type="text"/>
	E → <input type="text"/>
	I → <input type="text"/>
	O → <input type="text"/>
	U → <input type="text"/>

ESCREVA A FAMÍLIA SILÁBICA DA LETRA L:

ATIVIDADE 05: LIGUE O NOME AO DESENHO:

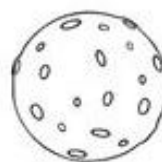
LAÇO

LEÃO

LIXO

LOBO

LUA



ATIVIDADE 07: PINTA A PALAVRA DE ACORDO COM O NOME DE CADA FIGURA:

	<p>LEÃO</p> <p>LIMÃO</p> <p>LEITÃO</p>		<p>LUTA</p> <p>LAVA</p> <p>LUVA</p>
	<p>LIMA</p> <p>LAVA</p> <p>LATA</p>		<p>LÁPIS</p> <p>LARANJA</p> <p>LINHA</p>
	<p>LARANJA</p> <p>LAVANDA</p> <p>LAMA</p>		<p>LUXO</p> <p>LUVA</p> <p>LUA</p>
	<p>LEITE</p> <p>LEITÃO</p> <p>LEÃO</p>		<p>LEÃO</p> <p>LEITE</p> <p>LEVE</p>
	<p>LANTERNA</p> <p>LÂMPADA</p> <p>LARANJA</p>		<p>LIXEIRA</p> <p>LIXA</p> <p>LATA</p>



DITADO RECORTADO

VAMOS RECORTAR AS PALAVRAS CORRESPONDENTES AOS DESENHOS E COLAR.



LATA

LIXO

LUVA

LUA

LEÃO

LÁPIS

LEITE

LIMÃO

LIVRO



ESCOLA MUNICIPAL LAURO LUIZ
Ensino Fundamental - Anos Iniciais
RUA 13 de Maio, Nº 311 Fone: (45) 3233-1222
CAMPO BONITO CEP: 85.450-000 PARANÁ

TURMA 1º ANO C - ATIVIDADES REMOTAS DE 09/08 A 13/08

ALUNO (A): _____
PROFESSORA: MARIA JOSÉ VIEIRA DA ROCHA
DISCIPLINA: MATEMÁTICA

UMA **DÚZIA** É O MESMO QUE **12 UNIDADES**.

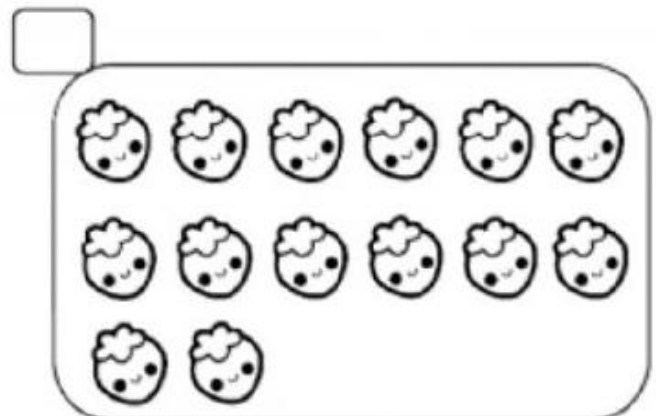
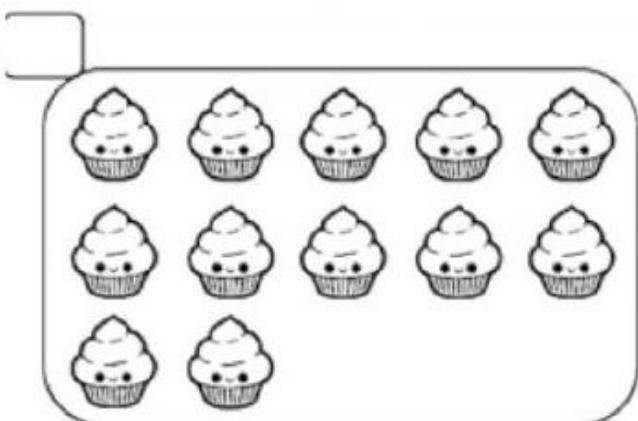


MEIA **DÚZIA** É O MESMO QUE **6 UNIDADES**.



ATIVIDADE 1: FAÇA UMA LISTA DE PRODUTOS QUE COMPRAMOS POR DÚZIA:


ATIVIDADE 2: MARQUE O CONJUNTO QUE TEM UMA DÚZIA:



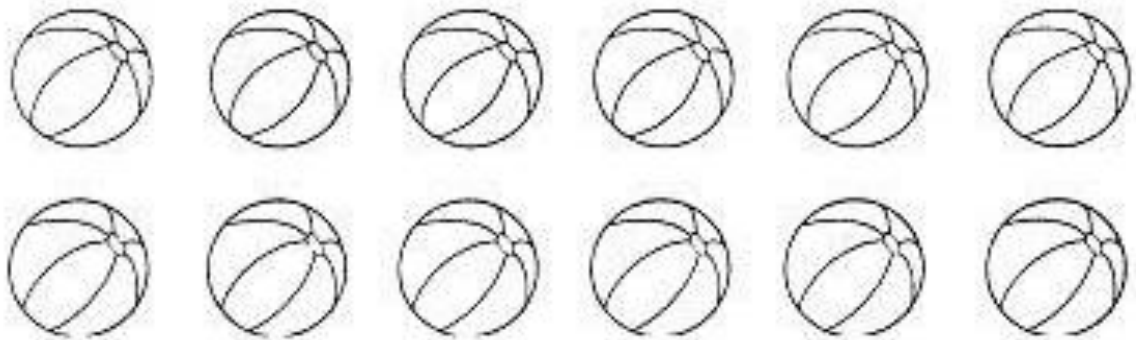
ATIVIDADE 03: EXERCÍCIOS COM DÚZIA E MEIA DÚZIA:

PINTE:

A) 1 DÚZIA DE CATA-VENTOS:



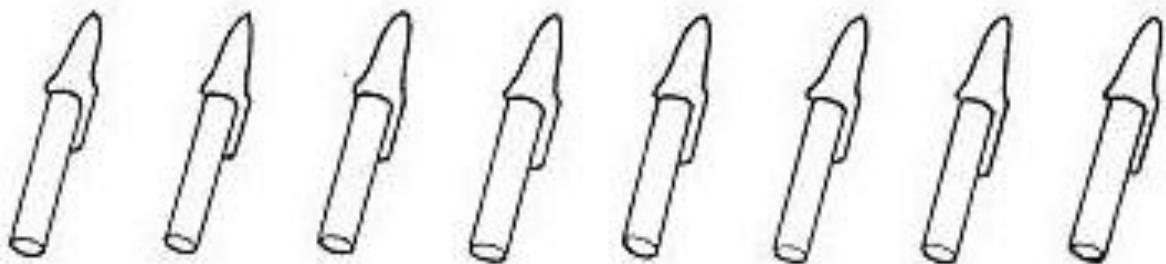
B) MEIA DÚZIA DE BOLAS:



C) 1 DÚZIA DE LARANJAS:



D) MEIA DÚZIA DE CANETAS:



ATIVIDADE 04: VAMOS RESOLVER A SITUAÇÃO-PROBLEMA:

ANA COMPROU 1 DÚZIA DE OVOS. QUANTOS OVOS ELA COMPROU? VAMOS CONTAR!



ANA COMPROU OVOS.

11

6

12

MARIA GASTOU MEIA DÚZIA DE OVOS PARA FAZER UM BOLO. QUANTOS OVOS MARIA GASTOU?



MARIA GASTOU OVOS.

10

12


6

1- VEJA! TODOS OS PINTINHOS JÁ NASCERAM. CONTINUE NUMERANDO OS OVOS E DESCUBRA:

*A GALINHA BOTOU UMA DÚZIA DE OVOS
QUANTOS OVOS A GALINHA BOTOU?

*PINTE UMA DEZENA DE OVOS DE AMARELO.
UMA DEZENA É?

*QUANTOS OVOS FICARAM SEM PINTAR?





ESCOLA MUNICIPAL LAURO LUIZ
Ensino Fundamental - Anos Iniciais
RUA 13 de Maio, Nº 311 Fone:(45) 3233-1222
CAMPO BONITO CEP: 85.450-000 PARANÁ

TURMA 1º ANO A - ATIVIDADES REMOTAS DE 09/08 A 13/08

ALUNO (A): _____
PROFESSORA: MARIA JOSÉ VIEIRA DA ROCHA
DISCIPLINA: HISTÓRIA E GEOGRAFIA

QUEM TRABALHA NA ESCOLA

VÁRIAS PESSOAS TRABALHAM NA ESCOLA: PROFESSORES, SERVENTE, DIRETORA, ORIENTADORA, MERENDEIRA, INSPETOR DE ALUNOS, BIBLIOTECÁRIA, SECRETÁRIA E MUITAS OUTRAS. TODAS TRABALHAM PARA O BOM FUNCIONAMENTO DA ESCOLA. SENDO QUE CADA FUNCIONÁRIO TEM UMA FUNÇÃO ESPECÍFICA PARA FAZER E ASSIM, A ESCOLA FUNCIONAR MUITO BEM. TEMOS:

A DIRETORA: SOLANGE CRISTINA DA CRUZ SLOMPO.

A COORDENADORA: ROSANGELA TESTONI

ATIVIDADE 1: ESCREVA SOBRE A SUA ESCOLA E QUEM FAZ PARTE DELA:

A) NOME DA MINHA ESCOLA: _____

B) NOME DA PROFESSORA DE HISTÓRIA E GEOGRAFIA:

C) NOME DA PROFESSORA DE ARTE:

D) NOME DA PROFESSOR DE EDUCAÇÃO FÍSICA:

ATIVIDADE 02: COMPLETE A CRUZADINHA COM OS FUNCIONÁRIOS DA ESCOLA:

CRUZA FUNCIONÁRIOS

✏️ Cruze de acordo com os desenhos.

The crossword puzzle grid consists of 10 rows and 10 columns of empty circles. The grid is surrounded by illustrations of school staff:

- Top Left:** A man in a suit sitting at a desk with a sign that says "DIRETORIA". An arrow points from the desk to the top-left corner of the grid.
- Top Right:** A woman standing at a blackboard. An arrow points from the blackboard to the top-right corner of the grid.
- Middle Left:** A woman sitting at a desk with a typewriter. A large curved arrow points from the typewriter to the middle-left side of the grid.
- Middle Right:** Two children's heads. An arrow points from the children to the middle-right side of the grid.
- Bottom Left:** A woman holding a broom and a dustpan. An arrow points from the broom to the bottom-left side of the grid.
- Bottom Center:** A woman holding a key. An arrow points from the key to the bottom-center side of the grid.



ESCOLA MUNICIPAL LAURO LUIZ
Ensino Fundamental - Anos Iniciais
RUA 13 de Maio, Nº 311 Fone:(45) 3233-1222
CAMPO BONITO CEP: 85.450-000 PARANÁ

TURMA 1º ANO C - ATIVIDADES REMOTAS DE 09/08 A 13/08

ALUNO (A): _____
PROFESSORA: VANESSA CASSOL
DISCIPLINA: CIÊNCIAS



SERES VIVOS E A RELAÇÃO COM MEIO AMBIENTE





QUAL A RELAÇÃO DOS SERES VIVOS COM O MEIO AMBIENTE?



OS SERES VIVOS ESTÃO EM ÍNTIMO RELACIONAMENTO COM O AMBIENTE QUE VIVEM. PORTANTO, O MEIO AMBIENTE INFLUENCIA OS SERES VIVOS E ELES INFLUENCIAM O MEIO AMBIENTE E OUTROS SERES VIVOS. PLANTAS E ANIMAIS DEPENDEM DOS COMPONENTES E CARACTERÍSTICAS DO MEIO PARA CRESCER E SE REPRODUZIR.

**ANIMAIS DOMÉSTICOS
E SELVAGENS**

OBSERVE OS ANIMAIS ABAIXO E, DEPOIS, ESCREVA O NOME DE CADA UM NA LISTA CORRESPONDENTE, DE ACORDO COM A LEGENDA.

	ANIMAIS DOMÉSTICOS
	ANIMAIS SELVAGENS

			
GATO	TIGRE	COBRA	CACHORRO



ESCOLA MUNICIPAL LAURO LUIZ
Ensino Fundamental - Anos Iniciais
RUA 13 de Maio, Nº 311 Fone:(45) 3233-1222
CAMPO BONITO CEP: 85.450-000 PARANÁ

TURMA 1º ANO C - ATIVIDADES REMOTAS DE 09/08 A 13/08

ALUNO (A): _____
PROFESSORA: MARGARETE CHAVES
DISCIPLINA: ARTE

VAMOS BRINCAR DE FAZER BOLHAS DE SABÃO?

TRANSFORME ESSA BRINCADEIRA EM UM INTERESSANTE EXPERIMENTO!

NESTE EXATO MOMENTO, AO SEU REDOR, DEVE HAVER MUITOS OBJETOS PARA FAZER BOLHA DE SABÃO! VAMOS BRINCAR DE ENCONTRÁ-LOS NOS CÔMODOS DA SUA CASA? ESTÁ LANÇADO O DESAFIO!

INGREDIENTES:

- 4 XÍCARAS DE ÁGUA
- ½ XÍCARA DE AÇÚCAR
- ½ XÍCARA DE DETERGENTE LÍQUIDO

COMO PREPARAR: DESPEJE O AÇÚCAR EM ÁGUA E MEXA ATÉ DERRETER. ADICIONE O DETERGENTE E MEXA NOVAMENTE. MISTURE BEM OS INGREDIENTES E COMECE A FAZER AS BOLHAS DE SABÃO!




QUE BOM TE ENCONTRAR AQUI DE NOVO!

PEDRO SEMPRE USA SABÃO PARA LAVAR AS MÃOS E ESPANTAR O CORONAVÍRUS...

NA HORA DA BRINCADEIRA ELE ADORA FAZER BOLHAS DE SABÃO!
É DIVERTIDO! VOCÊ JÁ FEZ BOLHAS DE SABÃO?

🌈 COMPLETE AS BOLHAS COM OS NÚMEROS QUE ESTÃO FALTANDO EM SEQUÊNCIA.





ESCOLA MUNICIPAL LAURO LUIZ
Ensino Fundamental - Anos Iniciais
RUA 13 de Maio, Nº 311 Fone:(45) 3233-1222
CAMPO BONITO CEP: 85.450-000 PARANÁ

TURMA 1º ANO C - ATIVIDADES REMOTAS DE 09/08 A 13/08

ALUNO (A): _____

PROFESSORA: RAFAEL MIORANZA

DISCIPLINA: EDUCAÇÃO FÍSICA

ATIVIDADE – COPOS AO ALVO

Descrição: Numere os copos de 1 (um) a 5 (cinco) e coloque-os da maneira que preferir, um do lado do outro, afastados, diagonais, vai da imaginação. Com tampinha de garrafa pet ou bolinha de papel ou material similar. O aluno ficará a certa distancia para executar o movimento de lançamento com 1 (um) único dedo, caso o aluno tenha dificuldade para executar o movimento com 1 (um) dedo, poderá lançar o material que foi escolhido.



FONTE: https://youtu.be/ct5P6-R_NyY Segue o link para auxiliar na atividade.

OBSERVAÇÃO: Todos os materiais citados podem ser trocados por outros similares.