



**ESCOLA MUNICIPAL LAURO LUIZ**  
*Ensino Fundamental - Anos Iniciais*  
RUA 13 de Maio, Nº 311 Fone:(45) 3233-1222  
CAMPO BONITO CEP: 85.450-000 PARANÁ

**TURMA 2º ANO \_\_\_ - ATIVIDADES REMOTAS DE 28/06 A 09/07**

ALUNO (A): \_\_\_\_\_

PROFESSORA: \_\_\_\_\_

DISCIPLINA: LÍNGUA PORTUGUESA (10 AULAS)

1- LEIA O POEMA E COMPLETE DE ACORDO COM AS RIMAS E FIGURAS UTILIZANDO O BANCO DE PALAVRAS NO QUADRO AO LADO.

**FESTA JUNINA**

NOITE DE JUNHO

NOITE DE SÃO JOÃO

PRA ESQUENTAR DO FRIO

VAMOS TOMAR \_\_\_\_\_.

QUANTA ALEGRIA

NA NOITE DE SÃO JOÃO

VAMOS PULAR \_\_\_\_\_.

E SOLTAR MUITO \_\_\_\_\_.

BALÃO  
FOGUEIRA  
QUENTÃO  
ROJÃO

O \_\_\_\_\_ É PERIGOSO


CRIANÇA, NÃO SOLTE NÃO.

INVENTE OUTRA BRINCADEIRA

PRA NOITE DE SÃO JOÃO.

GERUSA RODRIGUES PINTO

2- PINTE AS IMAGENS QUE TERMINAM COM O SOM **ÃO**. DEPOIS ESCREVA O NOME DELAS NAS LINHAS AO LADO.



---

---

---

---

---

---

---

---

3- COMPLETE AS FRASES ESCRREVENDO O QUE SE PEDE SOBRE OS DESENHOS.

**UMA**  **GRANDE É UM** \_\_\_\_\_.

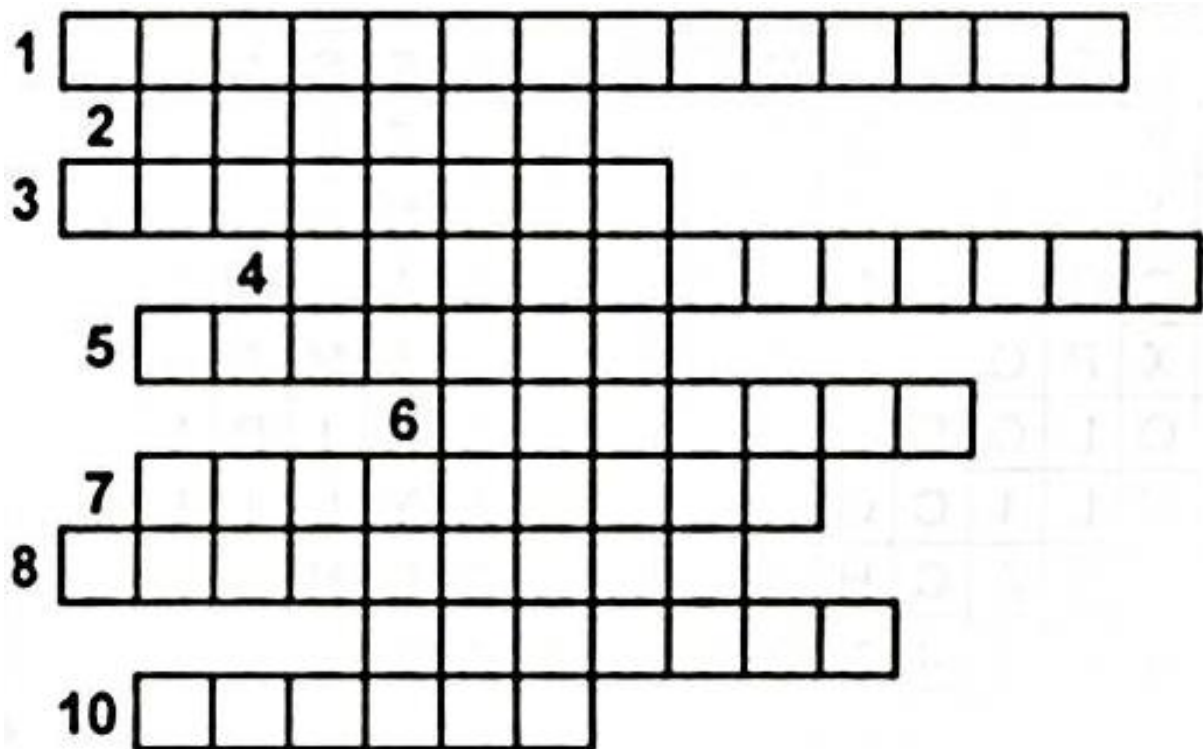
**UM**  **GRANDE É UM** \_\_\_\_\_.

**UM**  **GRANDE É UM** \_\_\_\_\_.

4- COM AS PALAVRAS DO QUADRO RESOLVA A CRUZADINHA.

PIPOCA – CHAPÉU – FOGUEIRA – PAU- DE-SEBO – FOGUEIRA – VESTIDO DE CHITA - BANDEIRINHA – CANJICA – QUADRILHA – SANFONA.

- 1- ROUPA USADA PELAS MULHERES NA FESTA JUNINA.
- 2 - OS HOMENS USAM NA CABEÇA.
- 3 - COLOCAMOS FOGO PARA ESQUENTAR A NOITE FRIA.
- 4 - ENFEITE USADO NO SALÃO DA FESTA JUNINA.
- 5 - COMIDA FEITA COM GRÃOS E LEITE.
- 6 - INSTRUMENTO MUSICAL MUITO USADO NA FESTA.
- 7- DANÇA QUE PREDOMINA.
- 8 - BRINCADEIRA ONDE TODOS ESCORREGAM.
- 9 - BEBIDA FEITA COM GENGIBRE E VINHO.
- 10 - É BRANQUINHA E GOSTOSA. PODE SER DOCE OU SALGADA.



5- ENCONTRE AS PALAVRAS NO CAÇA PALAVRAS.

AMENDOIM - ARGOLA - BANDEIRINHAS - BARRACAS - CAIPIRA -  
 CANJICA - CHAPÉU - CHURRASCO - FOGUEIRA - MILHO - PESCARIA  
 PIPOCA - QUADRILHA - SANFONA - SANTOS

B	A	R	R	A	C	A	S	V	T	R	G	A	S	A	N	F	O
Q	A	M	E	N	D	O	I	M	A	P	C	N	P	A	M	L	M
S	D	N	C	X	E	S	M	H	M	I	H	O	F	O	G	U	N
Q	U	A	D	R	I	L	H	A	E	P	U	F	D	R	S	B	A
U	H	J	V	E	M	I	K	L	N	O	T	N	H	J	L	M	C
A	C	O	H	L	I	M	V	B	T	C	R	A	X	R	A	S	I
S	G	U	E	I	A	R	G	O	L	A	A	S	F	G	I	Y	A
O	B	R	A	R	F	G	I	U	O	J	S	E	C	L	R	U	C
T	J	K	L	N	M	B	V	N	L	R	C	L	H	Ç	A	J	I
N	C	H	Á	P	I	L	D	C	H	U	R	R	A	S	C	O	J
A	R	I	E	U	G	O	F	B	Ç	A	O	F	P	N	S	L	N
S	M	N	H	A	S	D	U	I	É	G	S	U	É	J	E	Ç	A
N	H	N	G	I	C	A	R	F	U	G	L	H	U	K	P	N	C



**ESCOLA MUNICIPAL LAURO LUIZ**

*Ensino Fundamental - Anos Iniciais*

RUA 13 de Maio, Nº 311 Fone: (45) 3233-1222  
CAMPO BONITO CEP: 85.450-000 PARANÁ





**TURMA 2º ANO \_\_\_ - ATIVIDADES REMOTAS DE 28/06 A 09/07**

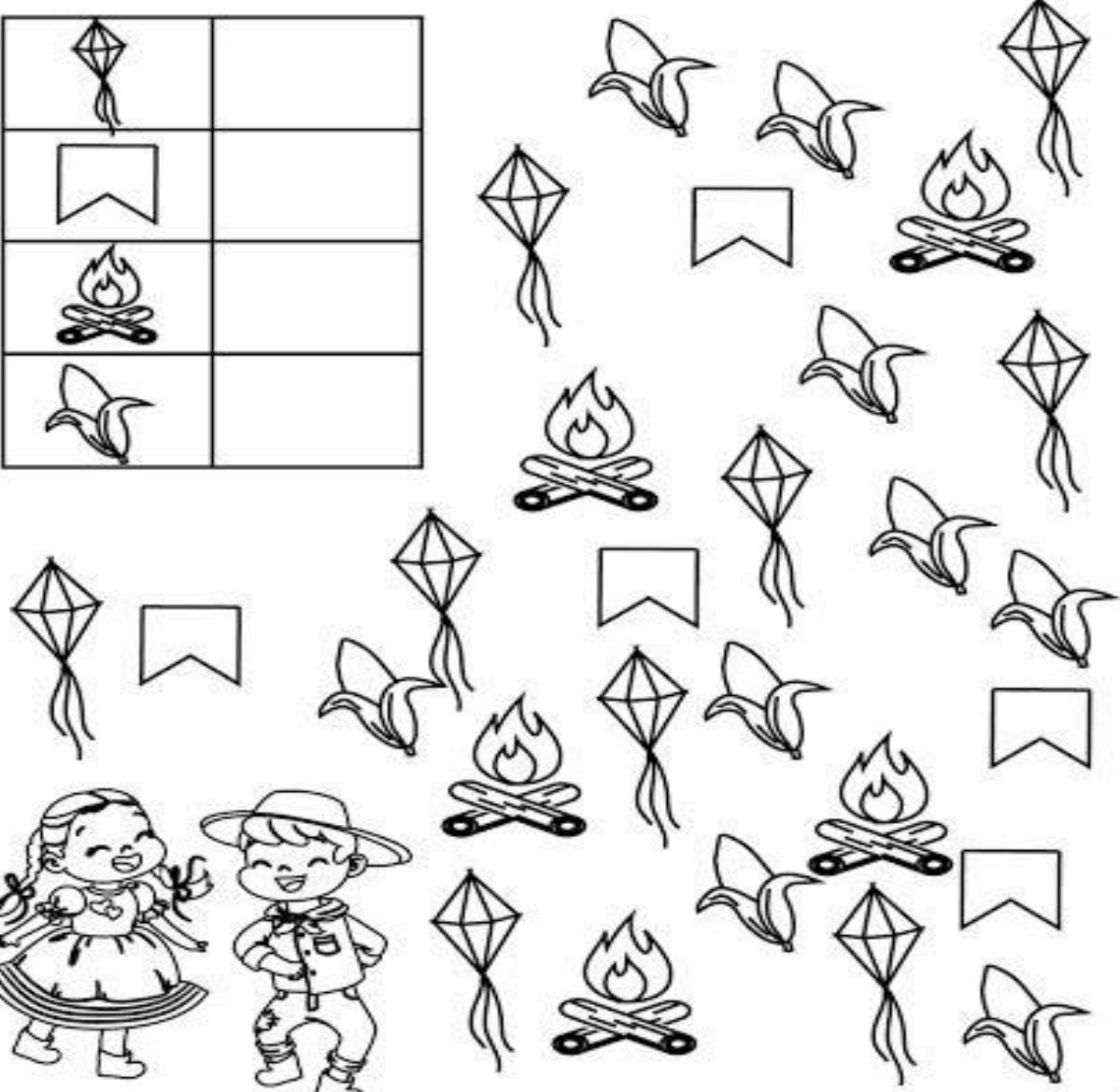
ALUNO (A): \_\_\_\_\_

PROFESSORA: \_\_\_\_\_

DISCIPLINA: MATEMÁTICA (10 AULAS)

1) PINTE E CONTE QUANTOS ELEMENTOS TÊM DE CADA ITEM, DEPOIS COLOQUE O NÚMERO CORRESPONDENTE NO QUADRO ABAIXO.



2) QUAIS ELEMENTOS TÊM A MESMA QUANTIDADE?

R: \_\_\_\_\_

---

3) QUANTAS BANDEIRAS FALTAM PARA SE IGUALAR COM A QUANTIDADE DAS PIPAS?

R: \_\_\_\_\_

4) PRECISO TIRAR QUANTOS MILHOS PARA FICAR COM A MESMA QUANTIDADE DAS FOGUEIRAS?

R: \_\_\_\_\_

5) QUANTAS FOGUEIRAS FALTAM PARA COMPLETAR UMA DEZENA (10 UNIDADES) DELAS?

R: \_\_\_\_\_

6) PRECISA-SE DE MAIS QUANTAS PIPAS PARA COMPLETAR UMA DÚZIA (12 UNIDADES)?

R: \_\_\_\_\_

7) QUAL A QUANTIDADE DE PIPAS E FOGUEIRAS JUNTAS?

R: \_\_\_\_\_

8) QUAL A QUANTIDADE DE ELEMENTOS QUE ESTÃO NO QUADRO QUE VOCÊ COMPLETOU?

R: \_\_\_\_\_

9) A MENINA E O MENINO VÃO DIVIDIR IGUALMENTE OS ELEMENTOS. COM QUANTOS CADA UM FICARÁ?

R: \_\_\_\_\_

10) ESCREVA POR EXTENSO OS NÚMEROS:

5= \_\_\_\_\_

9= \_\_\_\_\_

10= \_\_\_\_\_

18= \_\_\_\_\_

28= \_\_\_\_\_

14= \_\_\_\_\_

11) RESOLVA AS ADIÇÕES:

$5 + 9 =$  \_\_\_\_\_

$5 + 5 =$  \_\_\_\_\_

$9 + 9 =$  \_\_\_\_\_

$10 + 5 =$  \_\_\_\_\_

$9 + 5 =$  \_\_\_\_\_

$10 + 18 =$  \_\_\_\_\_

12) RESOLVA AS SUBTRAÇÕES:

$28 - 18 =$  \_\_\_\_\_

$28 - 10 =$  \_\_\_\_\_

$14 - 9 =$  \_\_\_\_\_

$14 - 5 =$  \_\_\_\_\_

$10 - 9 =$  \_\_\_\_\_

$10 - 5 =$  \_\_\_\_\_



**ESCOLA MUNICIPAL LAURO LUIZ**  
*Ensino Fundamental - Anos Iniciais*  
RUA 13 de Maio, Nº 311 Fone:(45) 3233-1222  
CAMPO BONITO CEP: 85.450-000 PARANÁ

**TURMA 2º ANO \_\_\_ - ATIVIDADES REMOTAS DE 28/06 A 09/07**

ALUNO (A): \_\_\_\_\_

PROFESSORA: \_\_\_\_\_

DISCIPLINA: HISTÓRIA (4 AULAS)

VAMOS CONHECER UM POUCO SOBRE A HISTÓRIA DAS FESTAS JUNINAS NO BRASIL.

A FESTA JUNINA É UMA TRADICIONAL FESTA POPULAR QUE ACONTECE DURANTE O MÊS DE JUNHO. ESSA COMEMORAÇÃO É COMUM EM TODAS AS REGIÕES DO BRASIL, ESPECIALMENTE NO NORDESTE.

AS FESTAS JUNINAS FORAM TRAZIDAS AO BRASIL PELOS PORTUGUESES, QUE FESTAVAM NA EUROPA, A PROXIMIDADE DAS COLHEITAS. ERA TRADIÇÃO ACENDER FOGUEIRAS, DANÇAR AO REDOR DO FOGO E PULAR SOBRE AS CHAMAS.

FOGUEIRAS, BANDEIROLAS, QUADRILHA, FOGOS DE ARTÍFÍCIOS, DANÇAS, COMIDAS TIPÍCAS SÃO ALGUNS SÍMBOLOS DAS FESTAS JUNINAS.

NO BRASIL, ESSAS FESTAS CARACTERIZAM-SE PELA ALEGRIA, HOMENAGEM AOS SANTOS PADROEIROS, PARTICIPAÇÃO COLETIVA E A PRESERVAÇÃO DA TRADIÇÃO.

1- NAS FESTAS JUNINAS, SÃO TRADICIONAIS VÁRIAS BRINCADEIRAS E DANÇAS. QUAIS BRINCADEIRAS VOCÊ LEMBRA? ANOTE ALGUMAS DELAS.

R\_\_\_\_\_





**ESCOLA MUNICIPAL LAURO LUIZ**  
*Ensino Fundamental - Anos Iniciais*  
RUA 13 de Maio, Nº 311 Fone:(45) 3233-1222  
CAMPO BONITO CEP: 85.450-000 PARANÁ

**TURMA 2º ANO \_\_\_ - ATIVIDADES REMOTAS DE 28/06 A 09/07**

ALUNO (A): \_\_\_\_\_

PROFESSORA: \_\_\_\_\_

DISCIPLINA: GEOGRAFIA (4 AULAS)

VAMOS CONTINUAR ESTUDANDO AS DIFERENTES PAISAGENS.  
LEMBRANDO QUE:

- **PAISAGENS NATURAIS** APRESENTAM ELEMENTOS NATURAIS COMO MATAS, RIOS, MONTANHAS..., E NÃO SOFRERAM INTERFERÊNCIA HUMANA.

- **PAISAGEM MODIFICADA** É AQUELA EM QUE OCORREU INTERFERÊNCIA DOS SERES HUMANOS.

1- O QUE FAZ PARTE DA PAISAGEM DO LUGAR ONDE VOCÊ MORA?  
ASSINALE COM UM X:

- |                                   |                                  |                                    |
|-----------------------------------|----------------------------------|------------------------------------|
| <input type="checkbox"/> RUAS     | <input type="checkbox"/> PONTE   | <input type="checkbox"/> LOJAS     |
| <input type="checkbox"/> TÚNEL    | <input type="checkbox"/> RIO     | <input type="checkbox"/> ESTRADA   |
| <input type="checkbox"/> MONTANHA | <input type="checkbox"/> ANIMAIS | <input type="checkbox"/> EDIFÍCIOS |
| <input type="checkbox"/> CASAS    | <input type="checkbox"/> LAGO    | <input type="checkbox"/> ÁRVORES   |
| <input type="checkbox"/> MAR      | <input type="checkbox"/> PRAÇA   | <input type="checkbox"/> PASTO     |

2- O QUE TEM MAIS NO LUGAR ONDE VOCÊ MORA?

- ELEMENTOS DA PAISAGEM NATURAL  
 ELEMENTOS CONSTRUÍDOS PELO HOMEM

3- OBSERVE AS IMAGENS:

1-



2-



3-



4-



A) QUAL DAS IMAGENS REPRESENTA UMA PAISAGEM TOTALMENTE NATURAL? JUSTIFIQUE SUA RESPOSTA.

---

---

---

B) EM QUAL IMAGEM A PAISAGEM APARECE **MAIS** MODIFICADA? EXPLIQUE.

---

---

---



**ESCOLA MUNICIPAL LAURO LUIZ**  
*Ensino Fundamental - Anos Iniciais*  
RUA 13 de Maio, Nº 311 Fone:(45) 3233-1222  
CAMPO BONITO CEP: 85.450-000 PARANÁ

TURMA 2º ANO \_\_\_\_\_ ATIVIDADES REMOTAS – 28/06 A 09/07/2021


ALUNO (A): \_\_\_\_\_

PROFESSORA: \_\_\_\_\_

DISCIPLINA: CIÊNCIAS

### NATUREZA DISTRAÍDA

“COMO AS PLANTAS **SOMOS SERES VIVOS**,  
COMO AS PLANTAS TEMOS QUE CRESCER.  
COMO ELAS, **PRECISAMOS** DE MUITO CARINHO,  
DE SOL, DE AMOR, DE AR PRA SOBREVIVER.  
QUANDO A NATUREZA DISTRAÍDA  
FERE A FLOR OU UM EMBRIÃO,  
O SER HUMANO, MAIS QUE AS FLORES,  
PRECISA NA VIDA  
DE MUITO **AFETO** E TODA COMPREENSÃO”.




### NATUREZA DISTRAÍDA TOQUINHO

1 – DE ACORDO COM O TEXTO, DO QUE OS SERES VIVOS PRECISAM PARA SOBREVIVER?  
REPRESENTE ATRAVÉS DE UM DESENHO.


OS SERES VIVOS SÃO AQUELES QUE TÊM VIDA, COMO AS PLANTAS, OS ANIMAIS E AS PESSOAS. ELES NASCEM, CRESCEM, REPRODUZEM E MORREM.

OBSERVE AS FIGURAS ABAIXO E VEJA COMO ACONTECE O CICLO DE VIDA.

2 - ENUMERE AS CENAS DE ACORDO COM A SEQUÊNCIA DOS FATOS.



3 - PINTA A PRIMEIRA E A ÚLTIMA FASE DESTE CICLO DE VIDA DOS SERES VIVOS.



4 - AGORA FAÇA UM DESENHO QUE REPRESENTA VOCÊ HOJE.



**ESCOLA MUNICIPAL LAURO LUIZ**  
Ensino Fundamental - Anos Iniciais  
RUA 13 de Maio, Nº 311 Fone:(45) 3233-1222  
CAMPO BONITO CEP: 85.450-000 PARANÁ

**TURMA: 2º ANO - ATIVIDADES REMOTAS DE 28/06 A 09/07**

ALUNO (A): \_\_\_\_\_

PROFESSORA: MARGARETE CHAVES

DISCIPLINA: ARTE

**VAMOS CANTAR:** Rala o Côco, Mexe a Canjica ORIGINAL

<https://www.youtube.com/watch?v=ztmwUBRX90Q>

O CHICO BENTO É MESMO MUITO ROMÂNTICO. ENQUANTO ELE OFERECE UMA LINDA FLOR PARA A ROSINHA, QUE TAL VOCÊ ACHAR AS SETE DIFERENÇAS, FAZENDO UM X EM CIMA DE CADA DIFERENÇA. DEPOIS PINTE O DESENHO BEM BONITO.





**ESCOLA MUNICIPAL LAURO LUIZ**  
*Ensino Fundamental - Anos Iniciais*  
RUA 13 de Maio, Nº 311 Fone:(45) 3233-1222  
CAMPO BONITO CEP: 85.450-000 PARANÁ

## TURMA 2º ANO - ATIVIDADES REMOTAS

ALUNO(A): \_\_\_\_\_

PROFESSOR: **MAYCON**

DISCIPLINA: **EDUCAÇÃO FÍSICA**

### **ATIVIDADE – PIÃO**

PARA ESSA ATIVIDADE VAMOS CONSTRUIR UM PIÃO. PRECISAREMOS DE UMA TAMPA DE GARRAFA PET, QUE DEVERÁ SER FURADA BEM NO CENTRO, E UM PALITO DE CHURRASCO. DEPOIS DE FURAR A TAMPINHA DEVERÁ SER COLOCADO O PALITO DE CHURRASCO CONFORME A IMAGEM ABAIXO. TAMBÉM DEVERÁ SER CORTADO O PALITO DE CHURRASCO PARA FACILITAR O MANUSEIO.

DEPOIS DE PRONTO O PIÃO É HORA DE BRINCAR. O ALUNO DEVERÁ SEGURAR O PIÃO PELO PALITO COM OS DEDOS INDICADOR E POLEGAR E TENTAR GIRÁ-LO. NÃO ESQUEÇA DE FAZER UM VÍDEO E POSTAR NO GRUPO DA TURMA.



**OBSERVAÇÃO:** TODOS OS MATERIAIS CITADOS PODEM SER TROCADOS POR OUTROS SIMILARES.