



**ESCOLA MUNICIPAL LAURO LUIZ**

*Ensino Fundamental - Anos Iniciais*

RUA 13 de Maio, Nº 311 Fone: (45) 3233-1222  
CAMPO BONITO CEP: 85.450-000 PARANÁ

**TURMA 2º ANO \_\_\_ - ATIVIDADES REMOTAS DE 14/06 A 25/06**

ALUNO (A): \_\_\_\_\_

PROFESSORA: \_\_\_\_\_

DISCIPLINA: LÍNGUA PORTUGUESA (10)

LEIA O POEMA E RESPONDA AS QUESTÕES:

**GISELE É UMA MENINA  
QUE AMA TOMAR GEMADA  
TAMBÉM GOSTA DE GELÉIA  
DE MORANGO NA TORRADA**

**HOJE ELA RESOLVEU  
MONTAR UMA BARRAQUINHA  
E VENDER PARA VOCÊ  
LIMONADA GELADINHA.**

**GEMADA E TORRADA QUENTE  
TUDO QUE MAIS ADORA  
COMPRE LOGO ALGUMA COISA  
SENÃO TUDO ELA DEVORA.**



GI BARBOSA

1) RETIRE DO POEMA TODAS AS PALAVRAS COM (G).

R: \_\_\_\_\_

\_\_\_\_\_

\_\_\_\_\_

2) O QUE GISELE TOMA?

R: \_\_\_\_\_

\_\_\_\_\_

3) O QUE ELA RESOLVEU FAZER?

R: \_\_\_\_\_

4) O QUE GISELE VAI VENDER NA BARRAQUINHA?

R: \_\_\_\_\_

5) PESQUISE NO QUADRO ABAIXO, RESPONDA AS PERGUNTAS E COMPLETE A CRUZADINHA.

PREGUIÇA – AÇOUGUE - AMIGO – PAPAGAIO -GOIABA - GATA

1 - A FÊMEA DO GATO.


2 - FRUTA DA GOIABEIRA.

3 - PÁSSARO QUE APRENDE A IMITAR A VOZ.

4 - O CONTRÁRIO DE INIMIGO.

5 - FALTA DE ÂNIMO.

6 - COMÉRCIO QUE VENDE CARNES.



6) LEIA AS FRASES E COMPLETE AS PALAVRAS COM **GE, GO, GA, GU** OU **GI**.

A) NÃO \_\_\_\_ STAVA DE COMER \_\_\_\_ IABA, A \_\_\_\_ RA \_\_\_\_ STO.

B) COLOQUEI A TORTA NA \_\_\_\_ LADEIRA.

C) O DENTISTA DISSE QUE MINHA \_\_\_\_ N \_\_\_\_ VA ESTÁ MACHUCADA.

D) QUANDO CHOVE USO \_\_\_\_ ARDA-CHUVA.

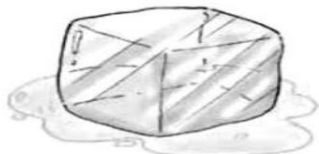
E) QUAL É O PREÇO DA MASSA \_\_\_\_ M RELAXANTE?

F) O \_\_\_\_ TO DA VIZINHA MORREU.


7) ESCREVA O NOME DAS FIGURAS.



|  |  |  |  |
|--|--|--|--|
|  |  |  |  |
|--|--|--|--|



|  |  |  |  |
|--|--|--|--|
|  |  |  |  |
|--|--|--|--|



|  |  |  |  |  |  |
|--|--|--|--|--|--|
|  |  |  |  |  |  |
|--|--|--|--|--|--|



|  |  |  |  |  |  |
|--|--|--|--|--|--|
|  |  |  |  |  |  |
|--|--|--|--|--|--|

|  |  |  |  |
|--|--|--|--|
|  |  |  |  |
|--|--|--|--|



|  |  |  |  |
|--|--|--|--|
|  |  |  |  |
|--|--|--|--|

8) TROQUE AS LETRAS INICIAIS DAS PALAVRAS PELA CONSOANTE **G**:

DADO \_\_\_\_\_

CORDA \_\_\_\_\_

MULA \_\_\_\_\_

FORRO \_\_\_\_\_

TOMA \_\_\_\_\_

TOMA \_\_\_\_\_

BOTA \_\_\_\_\_

MELO \_\_\_\_\_

MATO \_\_\_\_\_

MALINHA \_\_\_\_\_

BANHO \_\_\_\_\_

PENTE \_\_\_\_\_

COLA \_\_\_\_\_

TALO \_\_\_\_\_

PASTO \_\_\_\_\_

DRAMA \_\_\_\_\_

9) COMPLETE AS PALAVRAS COM **GE** OU **GI**.

VI\_\_\_LANTE

\_\_\_LATINA

\_\_\_MADA

PÁ\_\_\_NA

PEDÁ\_\_\_O

GEN\_\_\_VA

\_\_\_GANTE

\_\_\_NGIVA

\_\_\_NERAL

COLÉ\_\_\_O

EXA\_\_\_RO

LON\_\_\_

10) ESCREVA AS PALAVRAS NO LOCAL ADEQUADO.

| GE | GI |
|----|----|
|    |    |
|    |    |
|    |    |
|    |    |
|    |    |
|    |    |
|    |    |



**ESCOLA MUNICIPAL LAURO LUIZ**  
*Ensino Fundamental - Anos Iniciais*  
RUA 13 de Maio, Nº 311 Fone:(45) 3233-1222  
CAMPO BONITO CEP: 85.450-000 PARANÁ

**TURMA 2º ANO \_\_\_ - ATIVIDADES REMOTAS DE 14/06 A 25/06**

ALUNO (A): \_\_\_\_\_

PROFESSORA: \_\_\_\_\_

DISCIPLINA: MATEMÁTICA (10)

1) PESQUISE NO CALENDÁRIO DESSE ANO E DESCUBRA QUE MÊS É ESSE?

R: \_\_\_\_\_

2) QUANTOS SÁBADOS TEM ESSE MÊS?

R: \_\_\_\_\_

3) E QUANTOS DOMINGOS?

R: \_\_\_\_\_

4) QUE DIA DA SEMANA INICIOU ESSE MÊS?

R: \_\_\_\_\_

5) QUE DIA DA SEMANA TERMINOU ESSE MÊS?

R: \_\_\_\_\_

6) ESSE MÊS TEREMOS FÉRIAS DO DIA 12 ATÉ DIA 20. QUANTOS DIAS DARÁ?

R: \_\_\_\_\_

| DOM | SEG | TER | QUA | QUI | SEX | SÁB |
|-----|-----|-----|-----|-----|-----|-----|
|     |     |     |     | 01  | 02  | 03  |
| 04  | 05  | 06  | 07  | 08  | 09  | 10  |
| 11  | 12  | 13  | 14  | 15  | 16  | 17  |
| 18  | 19  | 20  | 21  | 22  | 23  | 24  |
| 25  | 26  | 27  | 28  | 29  | 30  | 31  |

7) ESSE MÊS É O SÉTIMO MÊS. QUAL É O OITAVO MÊS?

R: \_\_\_\_\_

8) ESCREVA OS MESES DO ANO.

1º: \_\_\_\_\_ 7º: \_\_\_\_\_

2º: \_\_\_\_\_ 8º: \_\_\_\_\_

3º: \_\_\_\_\_ 9º: \_\_\_\_\_

4º: \_\_\_\_\_ 10º: \_\_\_\_\_

5º: \_\_\_\_\_ 11º: \_\_\_\_\_

6º: \_\_\_\_\_ 12º: \_\_\_\_\_

9) ESCREVA OS SETE DIAS DA SEMANA.

1º: \_\_\_\_\_

2º: \_\_\_\_\_

3º: \_\_\_\_\_

4º: \_\_\_\_\_

5º: \_\_\_\_\_

6º: \_\_\_\_\_

7º: \_\_\_\_\_

10) QUAL MÊS VEM ANTES DE MARÇO?

R: \_\_\_\_\_

11) QUAL MÊS COMEMORAMOS O MÊS DAS MÃES?

R: \_\_\_\_\_

12) QUAL MÊS COMEMORAMOS O MÊS DAS PAIS?

R: \_\_\_\_\_  
\_\_\_\_\_

13) RESOLVA OS FATOS E PINTE DA MESMA COR, NO BALÃO, OS RESULTADOS CORRESPONDENTES. SE CUIDE COM OS SINAIS.

The illustration features a hot air balloon with a basket containing two children. A third child is on the ground. The balloon's envelope is filled with numbers: 2, 3, 4, 5, 6, 4, 3, 1, 6, 3, 6. A smiling sun is at the top. Two trees are on either side of the balloon. Math problems are presented in ovals around the scene.

Math problems in ovals:

- Top left:  $4 + 2 = \dots$
- Top right:  $1 + 3 = \dots$
- Second row left:  $6 - 2 = \dots$
- Second row right:  $4 - 1 = \dots$
- Third row left:  $5 + 1 = \dots$
- Third row right:  $5 - 2 = \dots$
- Fourth row left:  $5 - 3 = \dots$
- Fourth row right:  $2 + 4 = \dots$
- Bottom left tree:  $2 + 2 = \dots$
- Bottom right tree:  $4 - 3 = \dots$
- Bottom left oval:  $6 - 3 = \dots$
- Bottom right oval:  $3 + 2 = \dots$



**ESCOLA MUNICIPAL LAURO LUIZ**  
*Ensino Fundamental - Anos Iniciais*  
RUA 13 de Maio, Nº 311 Fone:(45) 3233-1222  
CAMPO BONITO CEP: 85.450-000 PARANÁ

## **TURMA 2º ANO \_\_\_ - ATIVIDADES REMOTAS DE 14/06 A 25/06**

ALUNO (A): \_\_\_\_\_

PROFESSORA: \_\_\_\_\_

DISCIPLINA: GEOGRAFIA (4)

### **PAISAGEM GEOGRÁFICA**

O NOSSO PLANETA TERRA É A NOSSA GRANDE CASA. O LUGAR ONDE TODOS NÓS MORAMOS. NELE EXISTEM DIFERENTES TIPOS DE PAISAGENS.

AS PAISAGENS FORMADAS PELA NATUREZA, COMO AS ÁRVORES, OS RIOS, AS SERRAS E AS MONTANHAS, SÃO NATURAIS, POIS, NÃO HÁ INTERFERÊNCIA DO HOMEM.

AS PAISAGENS ESTÃO SEMPRE SE MODIFICANDO. ISSO É O RESULTADO DE DIVERSAS MUDANÇAS OCORRIDAS DURANTE OS ANOS E QUE SÃO CAUSADAS PELA AÇÃO DA PRÓPRIA NATUREZA OU PELOS SERES HUMANOS, DE VÁRIAS MANEIRAS.

AS PAISAGENS QUE SOFREM INTERFERÊNCIA DOS HOMENS SÃO CHAMADAS DE PAISAGENS MODIFICADAS OU ARTIFICIAIS.


1) RELACIONE A PRIMEIRA COLUNA COM A SEGUNDA:

(1) PAISAGEM NATURAL ( ) É A PAISAGEM QUE PASSA A EXISTIR DEPOIS DA INTERFERÊNCIA DO HOMEM.

(2) PAISAGEM MODIFICADA ( ) É A PAISAGEM EXISTENTE SEM A INTERFERÊNCIA DO HOMEM.



1) PINTE A PAISAGEM NATURAL.



2) OBSERVE , PINTE A PAISAGEM E FAÇA O QUE SE PEDE:



A) ESCREVA OS ELEMENTOS MODIFICADOS PELO HOMEM.

R: \_\_\_\_\_  
\_\_\_\_\_  
\_\_\_\_\_

B) CITE 4 ELEMENTOS DA PAISAGEM NATURAL.

R: \_\_\_\_\_  
\_\_\_\_\_



**ESCOLA MUNICIPAL LAURO LUIZ**  
*Ensino Fundamental - Anos Iniciais*  
RUA 13 de Maio, Nº 311 Fone:(45) 3233-1222  
CAMPO BONITO CEP: 85.450-000 PARANÁ

## TURMA 2º ANO \_\_\_ - ATIVIDADES REMOTAS DE 14/06 A 25/06

ALUNO (A): \_\_\_\_\_

PROFESSORA: \_\_\_\_\_

DISCIPLINA: HISTÓRIA (4)

### A COMUNIDADE EM QUE VIVEMOS

AS PESSOAS VIVEM EM GRUPOS E GOSTAM DA COMPANHIA DOS FAMILIARES E DOS AMIGOS. COMUNIDADE É O UM GRUPO DE PESSOAS QUE VIVEM OU TRABALHAM EM UM MESMO LOCAL, DIVERTEM-SE OU REALIZAM ATIVIDADES JUNTAS.

EM UMA COMUNIDADE, UNS DEPENDEM DOS OUTROS. OS MORADORES DEVEM PARTICIPAR DO DESENVOLVIMENTO DO BAIRRO PARA MELHORAR A VIDA DA COMUNIDADE.

1- AS COMUNIDADES NÃO SÃO IGUAIS. RELACIONE OS DIFERENTES GRUPOS QUE FORMAM UMA COMUNIDADE.


OS MORADORES DE UMA RUA,  
UM BAIRRO OU UMA CIDADE.



PESSOAS QUE FREQUENTAM  
UMA IGREJA.



A FAMÍLIA.





**ESCOLA MUNICIPAL LAURO LUIZ**  
*Ensino Fundamental - Anos Iniciais*  
RUA 13 de Maio, Nº 311 Fone:(45) 3233-1222  
CAMPO BONITO CEP: 85.450-000 PARANÁ

## **TURMA 2º ANO - ATIVIDADES REMOTAS**


ALUNO(A): \_\_\_\_\_

PROFESSOR: **MAYCON**

DISCIPLINA: **EDUCAÇÃO FÍSICA**

### **ATIVIDADE – BILBOQUÊ**

PARA ESSA ATIVIDADE VAMOS CONSTRUIR UM BILBOQUÊ. PRECISAREMOS DE UMA GARRAFA PET, QUE DEVERÁ SER CORTADA CONFORME A IMAGEM ABAIXO, UMA BOLINHA DE PAPEL E UM PEDAÇO DE BARBANTE (ESSE ÚLTIMO FOI ENVIADO JUNTO COM AS ATIVIDADES). AMARRE A BOLINHA DE PAPEL NUMA DAS PONTAS DO BARBANTE E A OUTRA PONTA PRÓXIMA A TAMPA DA GARRAFA PET. O ALUNO DEVERÁ BALANÇAR A PARTE DA GARRAFA PET E TENTAR ACERTAR A BOLINHA DENTRO DELA. O ALUNO PODERÁ DECORAR SEU BILBOQUÊ, USE A CRIATIVIDADE.



**OBSERVAÇÃO:** TODOS OS MATERIAIS CITADOS PODEM SER TROCADOS POR OUTROS SIMILARES.



**ESCOLA MUNICIPAL LAURO LUIZ**  
Ensino Fundamental - Anos Iniciais  
RUA 13 de Maio, Nº 311 Fone:(45) 3233-1222  
CAMPO BONITO CEP: 85.450-000 PARANÁ

**TURMA 2º ANO \_\_\_\_\_ ATIVIDADES REMOTAS – 14/06 A 25/06/2021**



ALUNO(A): \_\_\_\_\_

PROFESSORA: \_\_\_\_\_

DISCIPLINA: CIÊNCIAS

## OS AMBIENTES DAS PLANTAS

AS PLANTAS VIVEM EM DIFERENTES AMBIENTES.



AS PLANTAS QUE VIVEM NA TERRA SÃO CHAMADAS DE TERRESTRES.

AS PLANTAS QUE VIVEM NA ÁGUA SÃO CHAMADAS DE AQUÁTICAS.

AS PLANTAS TERRESTRES, QUE SE DESENVOLVEM ACIMA DO SOLO E CUJA AS RAÍZES SE PRENDEM NO CAULE DE OUTRAS PLANTAS, SÃO CHAMADAS DE AÉREAS.

1 – FAÇA O DESENHO DE UMA PLANTA E ESCREVA O NOME DO AMBIENTE EM QUE ELA VIVE.

2- O QUE SÃO PLANTAS TERRESTRES?

---

---


---

3- O QUE SÃO PLANTAS AQUÁTICAS?

---

---

**OBSERVE AS FASES DE GERMINAÇÃO DO FEIJÃO:**



**VAMOS PLANTAR UM FEIJÃO. AGORA VAMOS REGISTRAR O QUE ACONTECEU DURANTE O CRESCIMENTO DO SEU FEIJÃO.**

|        |        |        |
|--------|--------|--------|
| 1º DIA | 2º DIA | 3º DIA |
| 4º DIA | 5º DIA | 6º DIA |



**FAÇA A  
ATIVIDADE COM  
CARINHO!**



**ESCOLA MUNICIPAL LAURO LUIZ**  
*Ensino Fundamental - Anos Iniciais*  
RUA 13 de Maio, N° 311 Fone:(45) 3233-1222  
CAMPO BONITO CEP: 85.450-000 PARANÁ

ALUNO (A): \_\_\_\_\_

PROFESSORA: MARGARETE CHAVES

DISCIPLINA: ARTE

[https://www.youtube.com/watch?v=FG0cAS02dKo&ab\\_channel=Caixinhadel](https://www.youtube.com/watch?v=FG0cAS02dKo&ab_channel=Caixinhadel)

[deias](#) - Festa Junina - Arraiá na Floresta Vem Cá - História Infantil

CHEGOU O MÊS DE JUNHO, VAMOS COLORIR.

