



ESCOLA MUNICIPAL LAURO LUIZ
Ensino Fundamental - Anos Iniciais
RUA 13 de Maio, Nº 311 Fone:(45) 3233-1222
CAMPO BONITO CEP: 85.450-000 PARANÁ

TURMA 2º ANO “ ___ ” - ATIVIDADES REMOTAS DE 19/04 A 30/04

ALUNO (A): _____

PROFESSORA: _____

DISCIPLINA: MATEMÁTICA (10 AULAS)

UTILIZANDO O RESTANTE DO DINHEIRO QUE FOI RECORTADO NA QUINZENA PASSADA RESPONDA AS QUESTÕES:

1. CLEISSON, NAÍS E EDUARDO FORAM NA FEIRA. OBSERVE A QUANTIA DE REAIS QUE CADA UM LEVOU E RESPONDA:



A) QUANTOS REAIS TEM EDUARDO?

R: _____

B) QUANTOS REAIS TEM NAÍS?

R: _____

C) QUANTOS REAIS TEM CLEISSON?

R: _____

D) QUEM LEVOU MAIS DINHEIRO PARA A FEIRA? QUANTO ESSA PESSOA LEVOU?

R: _____

E) COLE A QUANTIDADE DE DINHEIRO QUE AS TRÊS PESSOAS LEVARAM JUNTAS.

2- OBSERVANDO O CALENDÁRIO QUE VOCÊS ESTÃO PREENCHENDO, RESPONDA AS QUESTÕES:

A) EM QUAL MÊS DO ANO ESTAMOS? _____

B) EM QUE DIA DA SEMANA INICIOU ESSE MÊS? _____

C) QUANTOS DIAS TEM ESSE MÊS? _____

D) TEM ALGUM FERIADO NESSE MÊS? QUAIS?

E) QUANTOS SÁBADOS TEM ESSE MÊS? _____

3- LIGUE OS NOMES AOS NÚMEROS CORRESPONDENTES:

DEZOITO	89
CINQUENTA E TRÊS	22
NOVENTA E DOIS	97
OITENTA E NOVE	92
VINTE E DOIS	18
NOVENTA E SETE	53
TRINTA E UM	45
SESSENTA E OITO	31
QUARENTA E CINCO	68
DOZE	12



TURMA 2º ANO “ ___ ” - ATIVIDADES REMOTAS DE 19/04 A 30/04

ALUNO (A): _____

PROFESSORA: _____

DISCIPLINA: LÍNGUA PORTUGUESA (10 AULAS)

1) LEIA O TEXTO:

PARLENDA DO MACACO
FOLCLORE

MEIO-DIA
MACACO ASSOBIÁ
PANELA NO FOGO
BARRIGA VAZIA.



MEIO-DIA
MACACA SOFIA
FAZENDO CARETA
PRA DONA MARIA.

2) RESPONDA DE ACORDO COM O TEXTO:

A) COMO SE CHAMA A MACACA?

B) PARA QUEM A MACACA FAZ CARETA?

C) O QUE O MACACO FAZ?

D) QUE HORAS SÃO NO TEXTO?

E) ONDE A PANELA ESTÁ?

NESTA QUINZENA VOCÊS ESTÃO RECEBENDO O SILABÁRIO (NÃO PRECISA DEVOLVER). **LEIA AS SÍLABAS COM ATENÇÃO** E DEPOIS FAÇA AS ATIVIDADES.

1- ESCREVA TRÊS PALAVRAS QUE VOCÊ CONHECE COM:

A) UMA SÍLABA:

--	--	--

B) DUAS SÍLABAS:

--	--	--

C) TRÊS SÍLABAS:

--	--	--

D) QUATRO SÍLABAS:

--	--	--

2- OBSERVE NO QUADRO ABAIXO, QUE CADA SÍLABA TEM UM NÚMERO:

1- BA	5- NA	9- LA	13- BO	17- DO	22- PA
2- CA	6- NE	10- SA	14- TO	18- PI	24- CI
3- JA	7- CO	11- TE	15- TA	19- DA	25- NI
4- MA	8- ME	12- PE	16- NO	20- VA	26- GE

FORME PALAVRAS COPIANDO AS SÍLABAS DE ACORDO COM O NÚMERO E DEPOIS LEIA AS PALAVRAS QUE FORMOU:

A) 1-5-5: BANANA

B) 1-9: _____

C) 13-9: _____

D) 13-2: _____

E) 3-6-9: _____

F) 10-9-19: _____

G) 10-7-9: _____

H) 26-9-17: _____

I) 4-2-7: _____

J) 8-9-17: _____

K) 10-22-14: _____

L) 22-11-15: _____

M) 12-18-16: _____

N) 20-24-5: _____

O) 8-25-16: _____

P) 13-6-2: _____



ESCOLA MUNICIPAL LAURO LUIZ
Ensino Fundamental - Anos Iniciais
RUA 13 de Maio, Nº 311 Fone:(45) 3233-1222
CAMPO BONITO CEP: 85.450-000 PARANÁ

TURMA 2º ANO “ ___ ” - ATIVIDADES REMOTAS DE 19/04 A 30/04

ALUNO (A): _____

PROFESSORA: _____

DISCIPLINA: HISTÓRIA (4 AULAS)

DATA COMEMORATIVA DIA DO ÍNDIO – 19 DE ABRIL

OS POVOS INDÍGENAS FORAM OS PRIMEIROS HABITANTES DO BRASIL. ELES VIVIAM EM GRUPOS CHAMADOS TRIBOS.

MORAVAM EM CABANAS CHAMADAS OCAS. VÁRIAS OCAS FORMAM UMA ALDEIA CHAMADA TABA.

OS ÍNDIOS ALIMENTAVAM-SE DE PRODUTOS QUE CULTIVAVAM, DE FRUTOS COLHIDOS NA MATA E DE ANIMAIS QUE CAÇAVAM E PESCAVAM. PARA CAÇAR E PESCAR, USAVAM ARCOS, FLECHAS E LANÇAS, FEITOS POR ELES MESMOS.

OS POVOS INDÍGENAS POSSUEM VÁRIOS COSTUMES DIFERENTES DOS NOSSOS. PINTAM O CORPO E SE ENFEITAM COM COLARES E PENAS COLORIDAS. SUAS FESTAS SÃO ALEGRES, COM MUITA MÚSICA E DANÇA.

HOJE EXISTEM POUCAS TRIBOS INDÍGENAS NO BRASIL.

A FUNAI É UM ÓRGÃO CRIADO PELO GOVERNO PARA PROTEGER E VALORIZAR O ÍNDIO. FUNAI SIGNIFICA: FUNDAÇÃO NACIONAL DO ÍNDIO.

RESPONDA SEGUNDO O TEXTO:

1- EM QUE DIA SE COMEMORA O DIA DO ÍNDIO?

() 19 DE ABRIL () 21 DE ABRIL () 22 DE ABRIL

2- DE QUE OS ÍNDIOS SE ALIMENTAVAM?

3- O QUE OS ÍNDIOS USAVAM PARA CAÇAR E PESCAR?



ESCOLA MUNICIPAL LAURO LUIZ
Ensino Fundamental - Anos Iniciais
RUA 13 de Maio, Nº 311 Fone: (45) 3233-1222
CAMPO BONITO CEP: 85.450-000 PARANÁ

TURMA 2º ANO “__” - ATIVIDADES REMOTAS DE 19/04 A 30/04

ALUNO (A): _____

PROFESSORA: _____

DISCIPLINA: GEOGRAFIA (4 AULAS)

SINALIZAÇÃO NAS RUAS

NA MAIORIA DAS RUAS, EXISTEM PLACAS DE SINALIZAÇÃO E SEMÁFOROS QUE ORIENTAM MOTORISTAS, PEDESTRES, CICLISTAS E MOTOCICLISTAS E AJUDAM A EVITAR ACIDENTES DE TRÂNSITO.

LEIA O POEMA:

RESPEITEM OS SINAIS DE TRÂNSITO

A TODOS OS ALUNOS
AQUI EU QUERO AVISAR
QUE INDO OU VINDO DA ESCOLA
É BOM TOMAR MEU CONSELHO
SE VEEM O SINAL VERMELHO
NUNCA DEVEM ATRAVESSAR

SEM ARRANHÃO E SEM CORTE

RESPEITEM O SINAL VERMELHO
E QUANDO O SINAL MUDAR
PARA O VERDE, PODE PASSAR
O SINAL VERDE DÁ SORTE.

QUEM ESPERA O SINAL VERDE
TEM SEGURANÇA E TEM SORTE
E, CHEGA EM CASA TRANQUILO

*JOSÉ COSTA LEITE, CORDEL PARA O
TRÂNSITO*

1- O QUE SIGNIFICAM AS CORES DO SEMÁFORO DE PEDESTRES?

VERMELHO: _____

VERDE: _____

2- QUAIS AS PLACAS DE SINALIZAÇÃO EXISTEM NA RUA/ESTRADA QUE VOCE MORA?



ESCOLA MUNICIPAL LAURO LUIZ

Ensino Fundamental - Anos Iniciais

RUA 13 de Maio, Nº 311 Fone: (45) 3233-1222

CAMPO BONITO CEP: 85.450-000 PARANÁ

TURMA 2º ANO “ ____ ” - ATIVIDADES REMOTAS - 19/04 A 30/04

ALUNO(A): _____

PROFESSOR: **MAYCON**

DISCIPLINA: **EDUCAÇÃO FÍSICA**

ATIVIDADE – SALTOS AGACHADOS PARA FRENTE

VAMOS CONTINUAR COM AS ATIVIDADES DE SALTO, DESSA VEZ FAREMOS A ATIVIDADES DE SALTOS AGACHADOS PARA FRENTE. PRIMEIRAMENTE DEVERÁ SER FEITA UMA MARCAÇÃO NO CHÃO, UMA LINHA, DE ONDE O ALUNO PULARÁ PARA FRENTE. PARA FAZER ISSO O ALUNO DEVERÁ FICAR COM AS PONTAS DOS DEDOS DOS PÉS EM CIMA LINHA, JOELHOS FLEXIONADOS, BALANÇAR OS BRAÇOS PARA FRENTE E PARA TRÁS, EM SEGUIDA SALTAR COM OS DOIS PÉS JUNTOS. QUANDO ATERRISSAR NÃO PODERÁ MEXER OS PÉS ATÉ QUE UM MEMBRO DA FAMÍLIA FAÇA UMA MARCA NO CHÃO ONDE OS CALCANHARES DA CRIANÇA ESTIVEREM. FEITA A MARCA NO CHÃO AGORA É A HORA DE MEDIR COM UMA RÉGUA OU FITA MÉTRICA A DISTÂNCIA DO SALTO DO ALUNO. DEVERÃO SER FEITAS TRÊS TENTATIVAS E OS RESULTADOS MARCADOS NA FICHA ABAIXO:

PRIMEIRA TENTATIVA	SEGUNDA TENTATIVA	TERCEIRA TENTATIVA

NÃO ESQUEÇA DE FAZER UM VÍDEO DA ATIVIDADE E MANDAR NO GRUPO DA TURMA.



ESCOLA MUNICIPAL LAURO LUIZ

Ensino Fundamental - Anos Iniciais

RUA 13 de Maio, Nº 311 Fone:(45) 3233-1222
CAMPO BONITO CEP: 85.450-000 PARANÁ

TURMA 2º ANO “ ___ ” - ATIVIDADES REMOTAS DE 19/04 A 30/04/2021

ALUNO (A): _____

PROFESSORA: _____

DISCIPLINA: CIÊNCIAS

QUEM SOU EU?

O MEU NOME É

TENHO _____ ANOS.


MEUS CABELOS SÃO _____

MEUS OLHOS SÃO _____

MEU CORPO É ASSIM! EU SOU ASSIM!

NOSSO CORPO

O NOSSO CORPO É FORMADO POR TRÊS PARTES: CABEÇA, TRONCO E MEMBROS.

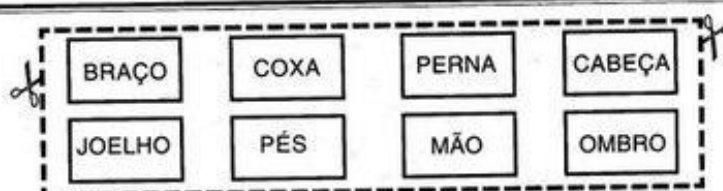



O CÉREBRO FICA NA CABEÇA, E É ELE QUE COMANDA O CORPO.



O TRONCO É FORMADO PELO PESCOÇO, PEITO E BARRIGA. OS MEMBROS SUPERIORES SÃO OS BRAÇOS E OS MEMBROS INFERIORES, AS PERNAS.

RECORTE AS FICHAS CONTENDO OS NOMES DAS PARTES DO CORPO HUMANO E COLE-AS NO LOCAL PONTILHADO, NA FIGURA ABAIXO.





ESCOLA MUNICIPAL LAURO LUIZ

Ensino Fundamental - Anos Iniciais

RUA 13 de Maio, Nº 311 Fone:(45) 3233-1222
CAMPO BONITO CEP: 85.450-000 PARANÁ

TURMA 2º ANO “ ___ ” - ATIVIDADES DE REVISÃO

ALUNO (A): _____

PROFESSORA: _____

DISCIPLINA: CIÊNCIAS

HIGIENE BUCAL

CUIDANDO DOS DENTES



VAMOS RECITAR?

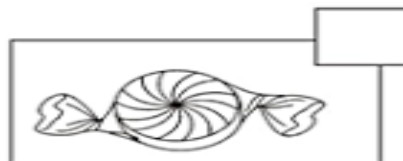
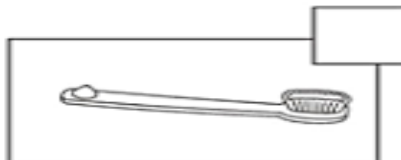
ESCOVE OS DENTES COM CUIDADO
APÓS CADA REFEIÇÃO.
NÃO ABUSE DE BALAS E DE DOCES,
COMA-OS COM MODERAÇÃO.

Rogéria Araújo



DEVEMOS ESCOVAR OS DENTES NO MÍNIMO 3 VEZES AO DIA.

PINTE O INIMIGO DOS DENTES:



PARA MANTER NOSSOS DENTES SAUDÁVEIS DEVEMOS IR REGULARMENTE
AO _____.



Médico



Dentista



ESCOLA MUNICIPAL LAURO LUIZ

Ensino Fundamental - Anos Iniciais

RUA 13 de Maio, Nº 311 Fone:(45) 3233-1222

CAMPO BONITO CEP: 85.450-000 PARANÁ

TURMA 2º ANO “ ___ ” - ATIVIDADES REMOTAS DE 19/04 A 30/04.

ALUNO (A): _____

PROFESSORA: MARGARETE CHAVES

DISCIPLINA: ARTE

COCAR INDÍGENA



O COCAR É UM SÍMBOLO DE NOBREZA PARA OS ÍNDIOS.

CADA TRIBO TEM O SEU SIGNIFICADO ESPECIAL, MAS UMA REGRA É GERAL: OS MAIORES E MAIS VISTOSOS DEVEM ENFEITAR AS CABEÇAS DE CURANDEIROS E CACIQUES.

AS CORES DAS PENAS DO COCAR REPRESENTAM:

O VERDE AS MATAS E FLORESTAS.

O VERMELHO, SIMBOLIZA A CASA DOS HOMENS.

O AMARELO REPRESENTA AS CASAS E AS ROÇAS, ÁREAS DOMINADAS POR MULHERES.

ASSISTA NO YOUTUBE: POVOS INDÍGENAS – CRIANÇAS INTELIGENTES – JOVEM PANKIDS

[https://www.youtube.com/watch?v=Du](https://www.youtube.com/watch?v=Du5DR2wUq1o)

[5DR2wUq1o](https://www.youtube.com/watch?v=Du5DR2wUq1o)

1-PINTE OS COCARES SEGUINDO A SEQUÊNCIA DE CORES INDICADA ABAIXO DE CADA UM.

