



**ESCOLA MUNICIPAL LAURO LUIZ**  
*Ensino Fundamental - Anos Iniciais*  
RUA 13 de Maio, Nº 311 Fone:(45) 3233-1222  
CAMPO BONITO CEP: 85.450-000 PARANÁ

## **TURMA 2º ANO “B” - ATIVIDADES REMOTAS DE 15/03 A 01/04**

ALUNO(A): \_\_\_\_\_

PROFESSORA: MARIA JOSÉ VIEIRA DA ROCHA

DISCIPLINA: LÍNGUA PORTUGUESA

1-OLÁ CRIANÇAS, JUNTO COM UM ADULTO VAMOS FAZER A LEITURA DA MÚSICA:  
2-PINTE OS ESPAÇOS ENTRE AS PALAVRAS DA MÚSICA UTILIZANDO LÁPIS DE COR.

### **O ALFABETO ( CIRANDA CIRANDINHA)**


ISABEL CRISTINA SILVEIRA SOARES

VINTE E SEIS LETRINHAS  
TEM O NOSSO ALFABETO  
EM BRINCADEIRAS DE RODINHAS  
O APRENDO POR COMPLETO!

CADA UMA TEM UM NOME  
CADA UMA TEM UM SOM  
VOU BRINCANDO E APRENDENDO  
VOU MOSTRANDO QUE ISSO É BOM!




1- COMPLETE A SEQUÊNCIA DO ALFABETO E PINTE O DESENHO:



ESCREVA TRÊS PALAVRAS QUE INICIAM COM CADA LETRA DO ALFABETO:

**A**



ÁRVORE

1.
2.
3.

**B**



BURRO

1.
2.
3.

**C**



COMPUTADOR

1.
2.
3.

**D**



DETETIVE

1.
2.
3.

**E**



ESPANTALHO

1.
2.
3.

**F**



FUTEBOL

1.
2.
3.

**G**



GELADEIRA

1.
2.
3.

**H**



HIDRANTE

1.
2.
3.



1.
2.
3.



1.
2.
3.



1.
2.
3.



1.
2.
3.



1.
2.
3.



1.
2.
3.



1.
2.
3.



1.
2.
3.



1.
2.
3.




1.
2.
3.




1.
2.
3.



1.
2.
3.




1.
2.
3.



1.
2.
3.



1.
2.
3.



1.
2.
3.



1.
2.
3.



1.
2.
3.

ESCREVA EM ORDEM ALFABÉTICA, NOMES DE OBJETOS QUE VOCÊ TEM EM SUA CASA:

---

---

---

---

---




ESCOLA MUNICIPAL LAURO LUIZ  
Ensino Fundamental - Anos Iniciais  
RUA 13 de Maio, Nº 311 Fone: (45) 3233-1222  
CAMPO BONITO CEP: 85.450-000 PARANÁ

## TURMA 2º ANO "B" ATIVIDADES REMOTAS DE 15/03 À 01/04

ALUNO(A): \_\_\_\_\_  
PROFESSORA: MARIA JOSÉ VIEIRA DA ROCHA  
DISCIPLINA: MATEMÁTICA

# QUANTOS SÃO?



1 - CONTE OS DESENHOS IGUAIS E ESCREVA O NUMERAL CORRESPONDENTE:























# AMARRADINHO DAS DEZENAS

SEPAREI UMA DEZENA E  
SOBRARAM 4 UNIDADES.

UMA DEZENA E 4  
UNIDADES SÃO 14.

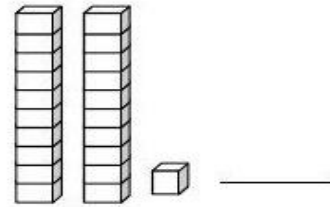
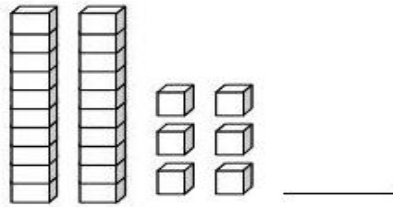
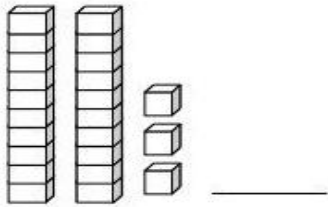
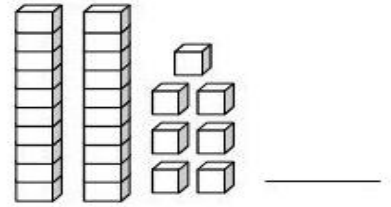
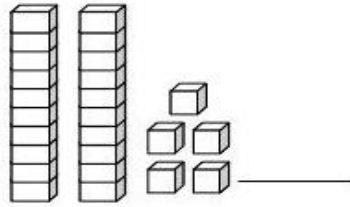
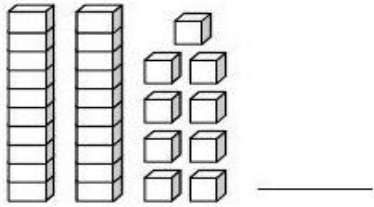
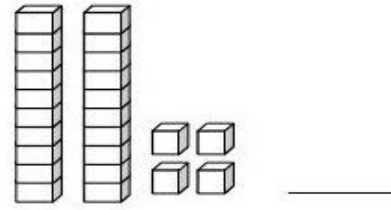
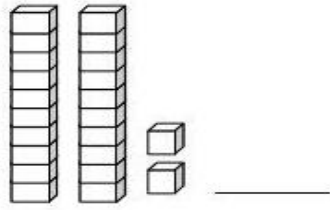
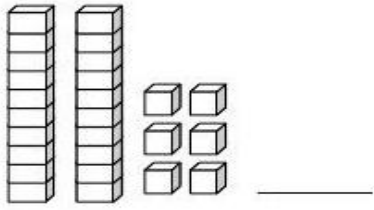
① Continue:

	<b>1</b>		<b>11</b>
			
			
			
			
			
			
			
			
			

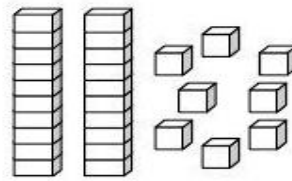
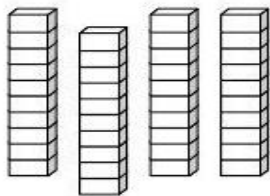
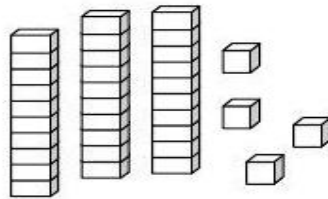
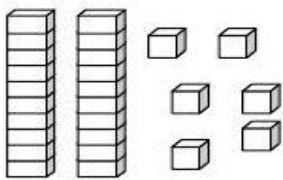
OBSERVAÇÃO: CADA CUBINHO VALE 1 UNIDADE E CADA BARRA VALE 10 UNIDADES.

COM BASE NESSA EXPLICAÇÃO RESOLVA OS EXERCÍCIOS.

1- ESCREVA O NÚMERO CORRESPONDENTE AO MATERIAL DOURADO:



2- PINTE DE AZUL ONDE TEM 34 UNIDADES E DE VERMELHO ONDE TEM 28 UNIDADES.



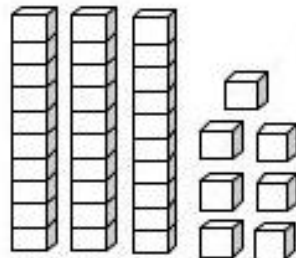
3-REPRESENTE COM MATERIAL DOURADO:

A) 22 UNIDADES

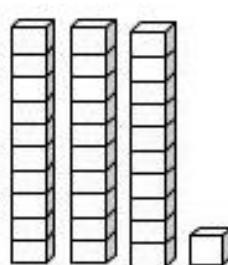
B) 31 UNIDADES



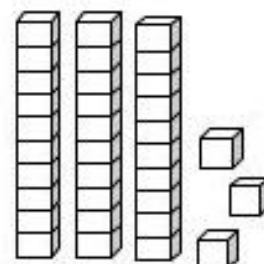
1 - PINTE O NÚMERO CORRESPONDENTE AO MATERIAL DOURADO.



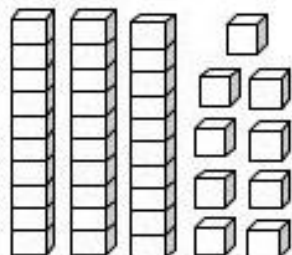
	30	
31	32	33
34	35	36
37	38	39



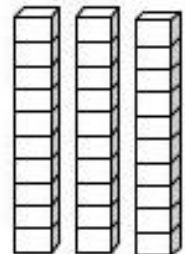
	30	
31	32	33
34	35	36
37	38	39



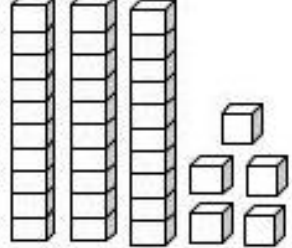
	30	
31	32	33
34	35	36
37	38	39



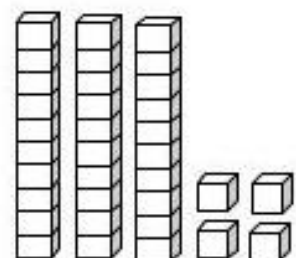
	30	
31	32	33
34	35	36
37	38	39



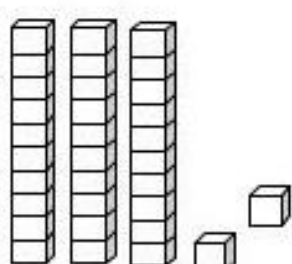
	30	
31	32	33
34	35	36
37	38	39



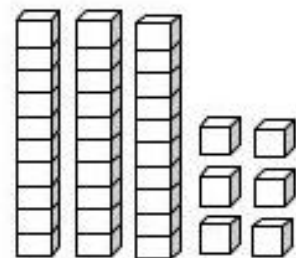
	30	
31	32	33
34	35	36
37	38	39



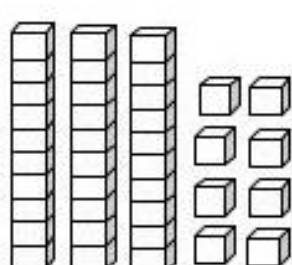
	30	
31	32	33
34	35	36
37	38	39



	30	
31	32	33
34	35	36
37	38	39



	30	
31	32	33
34	35	36
37	38	39



	30	
31	32	33
34	35	36
37	38	39

COMPLETE COM OS NÚMEROS QUE FALTAM:

1			4				9	
	12				16			20
		23		25			28	
31			34			37		
	42				46			50
		53					59	
			64					
71					76			
	82							
				95			99	

EM CADA QUADRO, PINTE O NÚMERO MAIOR:

35	53
----	----

60	42
----	----

12	21
----	----

16	10
----	----

85	99
----	----

45	54
----	----

PINTE OS NÚMEROS QUE TEM:

3 DEZENAS: 36 13 30 73 35 31

1 DEZENA: 10 21 15 51 84 26



**ESCOLA MUNICIPAL LAURO LUIZ**  
*Ensino Fundamental - Anos Iniciais*  
RUA 13 de Maio, Nº 311 Fone:(45) 3233-1222  
CAMPO BONITO CEP: 85.450-000 PARANÁ

## **TURMA 2º ANO "B" ATIVIDADES REMOTAS DE 15/03 A 01/04**

ALUNO(A): \_\_\_\_\_  
PROFESSORA: MARIA JOSÉ VIEIRA DA ROCHA  
DISCIPLINA: HISTÓRIA

NA ATIVIDADE DA SEMANA PASSADA VOCE VIU A HISTÓRIA DA FAMÍLIA DO LOLO BARNABÉ. ASSISTA A HISTÓRIA DE NOVO E COM AJUDA DE SEU RESPONSÁVEL RESPONDA AS QUESTÕES:

1- QUAL ERA O PAPEL DA BRISA NA FAMÍLIA? O QUE ELA FAZIA?

---

---

TEM ALGUÉM NA SUA FAMÍLIA QUE DESEMPENHA ESSE PAPEL? QUEM?

---

---

2- QUAL ERA O PAPEL DO LOLO NA FAMÍLIA? O QUE ELE FAZIA?

---

---

TEM ALGUÉM NA SUA FAMÍLIA QUE DESEMPENHA ESSE PAPEL?

---

---

3- QUAL ERA O PAPEL DO FINFO NA FAMÍLIA? O QUE ELE FAZIA? QUAIS SUAS RESPONSABILIDADES?

---

---

VOCÊ TEM UM PAPEL PARECIDO COM O DO FINFO? POR QUÊ?

---

---

4- SE FINFO TIVESSE IRMÃOS E ELES APARECESSEM NA HISTÓRIA, O QUE SERÁ QUE ELES FARIAM? QUAIS SERIAM SUAS ATITUDES E RESPONSABILIDADES?

---

---

---

**COM ESTÁ ATIVIDADE PERCEBEMOS QUE TODAS AS PESSOAS TÊM UM PAPEL OU FUNÇÃO DENTRO DAS FAMÍLIAS OU GRUPOS QUE FAZEM PARTE.**

**CADA INDIVÍDUO POSSUÍ UM PAPEL IMPORTANTE PARA A PRESERVAÇÃO E GARANTIA DO BEM-ESTAR DENTRO DO ÂMBITO FAMILIAR.**

**É IMPORTANTE QUE TODOS OS MEMBROS TENHAM RESPONSABILIDADE COM ESTA INSTITUIÇÃO, DESDE OS RESPONSÁVEIS ATÉ À CRIANÇA. POR ISSO, É INTERESSANTE INCUTIR DESDE CEDO A IMPORTÂNCIA DA VALORIZAÇÃO E DO RESPEITO PELAS PESSOAS QUE CONVIVEM CONOSCO, E A MELHOR FORMA DE FAZER ISSO É DANDO O EXEMPLO.**

#### ATIVIDADE

- AGORA VAMOS PENSAR, NAS PESSOAS QUE VOCÊ GOSTA DE CONVIVER NO AMBIENTE FAMILIAR E PRODUZIR UM DESENHO.
- VOCÊ IRÁ DESENHAR QUATRO PESSOAS DA FAMÍLIA (SE ALGUÉM NÃO TIVER QUATRO FAMILIARES PARA DESENHAR, SUGIRO QUE COMPLETE COM ALGUNS AMIGOS).
- EMBAIXO DO DESENHO, DEVERÁ ESCREVER ALGO SOBRE ESSA PESSOA, POR EXEMPLO:
  - "MEU TIO JOÃO FAZ O ALMOÇO NO DOMINGO";
  - "MINHA VÓ MARIA CONTA HISTÓRIAS";
  - "MEU IRMÃO AJUDA NA LIÇÃO DE CASA".

FAMÍLIA: \_\_\_\_\_




**ESCOLA MUNICIPAL LAURO LUIZ**  
Ensino Fundamental - Anos Iniciais  
RUA 13 de Maio, Nº 311 Fone: (45) 3233-1222  
CAMPO BONITO CEP: 85.450-000 PARANÁ

## TURMA 2º ANO "B" ATIVIDADES REMOTAS DE 15/03 A 01/04

ALUNO(A): \_\_\_\_\_  
PROFESSORA: MARIA JOSÉ VIEIRA DA ROCHA  
DISCIPLINA: GEOGRAFIA

### REPRESENTAÇÕES NO DIA A DIA




OS MÓVEIS E OBJETOS QUE EXISTEM EM NOSSAS MORADIAS PODEM SER REPRESENTADOS DE DIVERSAS MANEIRAS. ELES PODEM SER DESENHADOS OU REPRESENTADOS DE DIFERENTES PONTOS DE VISTA: DE FRENTE, DO ALTO E DE LADO, DO ALTO EXATAMENTE DE CIMA PARA BAIXO.

### ATIVIDADE

VAMOS TRABALHAR COM OS DIFERENTES PONTOS DE VISTA E COM FIGURAS GEOMÉTRICAS. VAMOS TAMBÉM MODELAR ESSAS FIGURAS! OBSERVE AS FOTOGRAFIAS ABAIXO E VEJA SE VOCÊ CONSEGUE IDENTIFICAR CADA UM DOS OBJETOS EM DIFERENTES PONTOS DE VISTA.



- COM AJUDA DA FAMÍLIA, ENCONTRE OS OBJETOS DA PÁGINA ANTERIOR NOS DIFERENTES PONTOS DE VISTA E ESCREVA SUA IDENTIFICAÇÃO NO LOCAL CORRETO. OBSERVE O EXEMPLO:

DIFERENTES VISÕES OBJETO	 VISÃO DE FRENTE	 VISÃO DO ALTO E DE LADO	 VISÃO DO ALTO, EXATAMENTE DE CIMA PARA BAIXO
COPO	A	3	b
BANQUETA			
GAVETEIRO			
VASO DE FLOR			
DADO			

- ESCOLHA UM OBJETO DA SUA CASA E DESENHE , DOS TRÊS PONTOS DE VISTA:

DE FRENTE	DE LADO	DO ALTO



**ESCOLA MUNICIPAL LAURO LUIZ**  
Ensino Fundamental - Anos Iniciais  
RUA 13 de Maio, Nº 311 Fone:(45) 3233-1222  
CAMPO BONITO CEP: 85.450-000 PARANÁ

## TURMA 2º ANO "B" ATIVIDADES REMOTAS DE 15/03 A 01/04

ALUNO(A): \_\_\_\_\_  
PROFESSORA: NADIR DOMINIAK  
DISCIPLINA: CIÊNCIAS

### TER BONS DENTES



#### VAMOS CANTAR?

TER BONS DENTES É IMPORTANTE  
PARA UMA BOA MASTIGAÇÃO.  
PREVINA-SE INDO AO DENTISTA  
E TENHA SAÚDE, CAMPEÃO!

(Música: *Capelinha de melão* – Faixa 60 do CD)

Rogéria Araújo



#### AS CÁRIES

QUANDO APÓS AS REFEIÇÕES NÃO ESCOVAMOS OS DENTES, BACTÉRIAS SE APROVEITAM DOS RESTOS DE ALIMENTOS PARA SE MULTIPLICAR. ELAS PRODUZEM UM ÁCIDO QUE ESTRAGA OS DENTES ABRINDO CAMINHO PARA A FORMAÇÃO DAS CÁRIES.

O ATO DE ESCOVAR OS DENTES ELIMINA OS RESTOS DE COMIDA E AS BACTÉRIAS, CUIDANDO DA SAÚDE DOS DENTES. A ORGANIZAÇÃO MUNDIAL DA SAÚDE DIZ QUE AOS 12 ANO UMA CRIANÇA DEVERIA TER NO MÁXIMO 3 DENTES CARIADOS. POREM NO BRASIL NESTA IDADE, AS CRIANÇAS TEM MAIS DE 6 CÁRIES.

AS PRINCIPAIS MANEIRAS DE EVITAR AS CÁRIES SÃO:

- FAZER A HIGIENE BUCAL DEPOIS DE COMER, USANDO ESCOVA E PASTA DE DENTE, E TAMBÉM O FIO DENTAL.
- NÃO COMER MUITOS DOCES;
- IR AO DENTISTA REGULARMENTE.

DEVEMOS ESCOVAR E CUIDAR TANTO DOS DENTES PERMANENTES QUANTO DOS DENTES DE LEITE.






O CREME DENTAL AJUDA A MANTER OS DENTES BRANCOS E LIMPOS.

PEÇA AO PESSOAL DE CASA PARA LER AS FRASES E, DEPOIS, PINTE OS QUADRINHOS COM AS CORES INDICADAS NA LEGENDA:

CERTO: VERDE    ERRADO: VERMELHO

- DEVEMOS ESCOVAR OS DENTES SOMENTE ANTES DE DORMIR.
- RESTOS DE ALIMENTOS ACUMULADOS NA BOCA CAUSAM MAU HÁLITO.
- DEVEMOS IR AO DENTISTA REGULARMENTE.
- COMER BALAS E DOCES E NÃO ESCOVAR OS DENTES PROVOCA CÁRIES.
- SÓ DEVEMOS IR AO DENTISTA QUANDO OS DENTES ESTIVEREM DOENDO.
- É IMPORTANTE PASSAR O FIO DENTAL DEPOIS DAS REFEIÇÕES.



		1 -						
		2 -						
3 -								
4 -								
		5 -						

VOCÊ SABIA!  
 SERES HUMANOS ADULTOS GERALMENTE TÊM 32 DENTES PERMANENTES!  
 AS CRIANÇAS TÊM 20 DENTES QUE COMEÇAM A SER TROCADOS POR VOLTA DOS SETE ANOS.



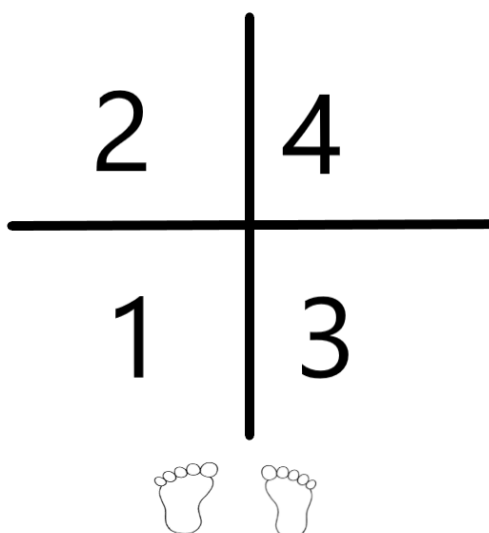
**ESCOLA MUNICIPAL LAURO LUIZ**  
*Ensino Fundamental - Anos Iniciais*  
RUA 13 de Maio, Nº 311 Fone:(45) 3233-1222  
CAMPO BONITO CEP: 85.450-000 PARANÁ

## **TURMA 2º ANO “B” ATIVIDADES REMOTAS DE 15/03 A 01/04**

ALUNO(A): \_\_\_\_\_  
PROFESSOR: MAYCON LUIZ DE ALMEIDA  
DISCIPLINA: EDUCAÇÃO FÍSICA

### **ATIVIDADE – SALTOS NUMERADOS**

PARA ESSA ATIVIDADE VAMOS PRECISAR MARCAR NO CHÃO DUAS LINHAS PERPENDICULARES, OU SEJA, UMA PASSANDO POR CIMA DA OUTRA, CONFORME O DESENHO ABAIXO. E TAMBÉM PRECISAREMOS NUMERAR OS ESPAÇOS DESSA “CRUZ” QUE SE FORMOU. O ALUNO DEVERÁ FICAR EM PÉ NO LOCAL INDICADO PELO DESENHO DOS PÉS E SALTAR COM OS DOIS PÉS JUNTOS RESPEITANDO A SEQUÊNCIA DOS NÚMEROS DE 1 A 4 E RETORNAR PARA O PONTO INICIAL. DEPOIS DE ALGUMAS REPETIÇÕES PODERÃO SER TROCADOS OS LOCAIS DOS NÚMEROS.





ESCOLA MUNICIPAL LAURO LUIZ  
Ensino Fundamental - Anos Iniciais  
RUA 13 de Maio, Nº 311 Fone: (45) 3233-1222  
CAMPO BONITO CEP: 85.450-000 PARANÁ

## TURMA 2º ANO "B" ATIVIDADES REMOTAS

ALUNO(A) \_\_\_\_\_

PROFESSOR: MARGARETE CHAVES

DISCIPLINA: ARTE

OBJETOS DE CONHECIMENTOS: **GÊNEROS**  
**ARTÍSTICOS** E **CONTEXTOS HISTÓRICOS: RETRATO**  
E **AUTORRETRATO**

# RETRATO, AUTORRETRATO



## VOCÊ SABE O QUE É UM RETRATO?

CHAMAMOS DE **RETRATO** IMAGENS QUE REPRESENTAM UMA OU MAIS PESSOAS POR INTERMÉDIO DE: FOTOGRAFIA, PINTURA, DESENHO, ESCULTURA OU GRAVURA.

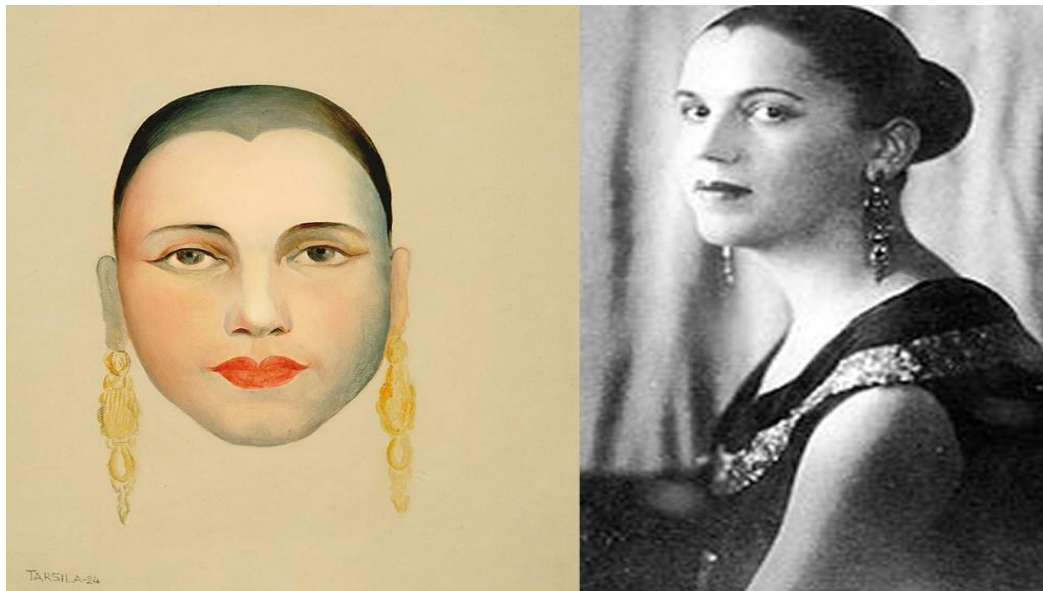
## VOCÊ SABE O QUE É UM AUTORRETRATO?

**AUTORRETRATO** É A IMAGEM QUE CADA UM FAZ DE SI PRÓPRIO, É O ESPELHO DO ARTISTA. NELE, O ARTISTA REFLETE SUA IMAGEM, SUA PERSONALIDADE, SEUS VALORES, SUA ÉPOCA, SUA MANEIRA DE VER A ARTE E O MUNDO. MUITOS PINTORES FIZERAM AUTORRETRATO EM DIVERSAS FASES DE SUA CARREIRA.



**EXEMPLOS DE RETRATO E AUTORRETRATO:**

**TARSILO DO AMARAL**



**ROMERO BRITTO**



**ATIVIDADES:**

**1 – PINTE ESTA IMAGEM DE TARSILO. CAPRICHE NOS DETALHES.**



**TARSILO DO AMARAL**

**2- DESENHE E PINTE UM RETRATO DE SUA FAMÍLIA: PENSE NA POSE DE CADA UM, IMAGINE O CENÁRIO DE FUNDO. CAPRICHE NA PINTURA.**



**3 – UTILIZANDO UMA FOTO SUA FAÇA SEU AUTORRETRATO. CASO NÃO TENHA UMA FOTO PODE PENSAR EM VOCÊ, NAS SUAS CARACTERÍSTICAS PESSOAIS. CAPRICHE NO DESENHO E PINTE BEM BONITO.**

