



**ESCOLA MUNICIPAL LAURO LUIZ**  
*Ensino Fundamental - Anos Iniciais*  
RUA 13 de Maio, Nº 311 Fone:(45) 3233-1222  
CAMPO BONITO CEP: 85.450-000 PARANÁ

## TURMA 3º ANO - ATIVIDADES REMOTAS DE 01/03 A 12/03/2021

ALUNO(A): \_\_\_\_\_  
PROFESSORA: \_\_\_\_\_  
DISCIPLINA: PORTUGUÊS

### LÍNGUA PORTUGUESA

#### ATIVIDADE 01

#### LEITURA E ORTOGRAFIA

PALAVRAS COM **QU**.

A LETRA **Q** SEMPRE É ACOMPANHADA DA VOGAL **U**, MAS, ALGUMAS VEZES, QUANDO PRONUCIAMOS A PALAVRA, O SOM DO **U** NÃO APARECE.

PRONUCIAMOS O **U** DO **QU** QUANDO A VOGAL SEGUINTE É **A** OU **O**:

EXEMPLO: AQUÁRIO, AQUOSO.

O **U** PODE OU NÃO SER PRONUCIADO QUANDO A VOGAL SEGUINTE É **E** OU **I**:

EXEMPLO: TRANQUILO, QUILO, CINQUENTA, QUEIJO.

#### 1- COMPLETE COM **QUA**, **QUE** OU **QUI**:

\_\_\_\_\_BE          \_\_\_\_\_LO          LE\_\_\_\_\_

\_\_\_\_\_DA          \_\_\_\_\_TANDA          \_\_\_\_\_DRA

\_\_\_\_\_ABO          A\_\_\_\_\_RIO          BAS\_\_\_\_\_TE

\_\_\_\_\_RIDO          PE\_\_\_\_\_NO          \_\_\_\_\_RO

TO\_\_\_\_\_          MOLE\_\_\_\_\_          \_\_\_\_\_DRO

MA\_\_\_\_\_NA          \_\_\_\_\_TUTE          \_\_\_\_\_DRADO

2- ESCOLHA QUATRO PALAVRAS DE ATIVIDADES ACIMA E FORME FRASES:

---



---



---


3-OBSERVE OS DESENHOS E REALIZE O CAÇA PALAVRAS DIVERTIDO COM ORTOGRAFIA **C** e **Q**:

**C**

**CAÇA-PALAVRAS DIVERTIDO**

**Q**

C	O	R	D	Ã	O	X	C	U	E	C	A
M	V	T	A	Q	U	A	R	A	Q	O	I
A	A	Q	U	I	A	B	O	C	U	Q	S
N	Q	U	A	T	I	I	R	A	E	U	Q
D	U	I	M	C	U	B	O	N	I	E	U
I	E	L	S	P	L	R	S	I	J	I	E
O	I	O	P	A	E	M	G	V	O	R	I
C	R	M	I	N	Q	S	P	E	M	O	R
A	O	T	O	C	U	I	A	T	I	N	O
Y	X	C	A	M	E	L	O	E	C	A	S
C	A	Q	U	I	T	R	I	O	C	A	S
O	C	A	C	A	U	K	Q	U	A	T	I
L	C	C	A	V	A	L	O	S	A	T	O
A	A	B	C	R	U	C	O	L	A	R	S
R	E	S	Q	U	E	L	E	T	O	A	B
B	I	L	B	O	Q	U	Ê	I	W	E	J





**ESCOLA MUNICIPAL LAURO LUIZ**

*Ensino Fundamental - Anos Iniciais*

RUA 13 de Maio, Nº 311 Fone: (45) 3233-1222  
CAMPO BONITO CEP: 85.450-000 PARANÁ

**TURMA 3º ANO - ATIVIDADES REMOTAS DE 01/03 A 12/03/2021**

ALUNO(A): \_\_\_\_\_  
PROFESSORA: \_\_\_\_\_  
DISCIPLINA: MATEMÁTICA

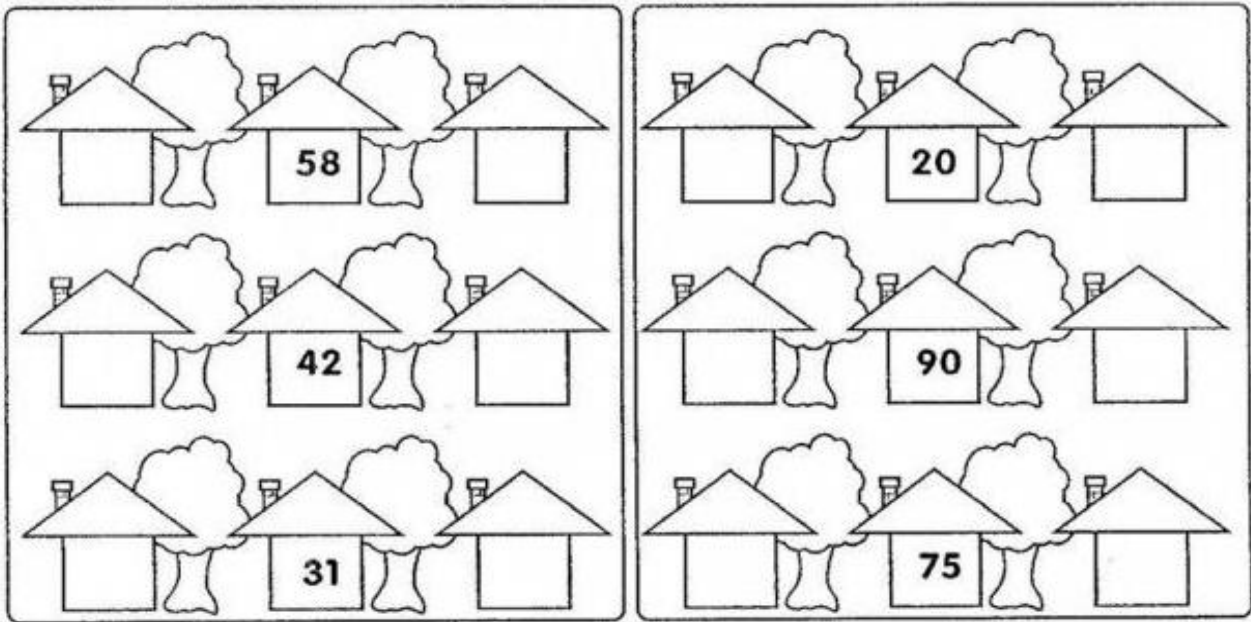
**NÚMEROS E QUANTIDADES**

1- PINTE AS PEÇAS DO MATERIAL DOURADO DE ACORDO COM OS NÚMEROS INDICADOS:

33	
29	
46	
34	
21	
48	
32	

## NÚMEROS VIZINHOS.

2- COMPLETE OS NÚMEROS VIZINHOS ABAIXO:



### ADIVINHE QUEM SOU EU?

FICO ENTRE O 13 E O 15 \_\_\_\_\_

FICO ENTRE O 35 E O 37 \_\_\_\_\_

FICO ATRÁS DO 52 \_\_\_\_\_

FICO A FRENTE DO 67 \_\_\_\_\_

FICO ENTRE O 74 E O 76 \_\_\_\_\_

FICO ENTRE O 45 E O 47 \_\_\_\_\_

FICO ENTRE O 27 E O 29 \_\_\_\_\_

### 3-RESPONDA:

QUE NÚMERO ESTÁ ENTRE O 20 E 22 ? \_\_\_\_\_

QUE NÚMERO VEM ANTES DO 60 ? \_\_\_\_\_

QUE NÚMERO VEM APÓS O 79 ? \_\_\_\_\_

QUE NÚMERO VEM ANTES DO 55 ? \_\_\_\_\_

QUE NÚMERO VEM APÓS O 90 ? \_\_\_\_\_

QUE NÚMERO VEM ANTES DO 100 ? \_\_\_\_\_

#### 4-RESOLVA OS CÁLCULOS DE ADIÇÃO.

$$\begin{array}{r} 10 \\ + 25 \\ \hline \end{array} \quad \begin{array}{r} 54 \\ + 12 \\ \hline \end{array} \quad \begin{array}{r} 26 \\ + 22 \\ \hline \end{array} \quad \begin{array}{r} 53 \\ + 12 \\ \hline \end{array} \quad \begin{array}{r} 32 \\ + 31 \\ \hline \end{array}$$

$$\begin{array}{r} 40 \\ 16 \\ + 42 \\ \hline \end{array} \quad \begin{array}{r} 12 \\ 33 \\ + 13 \\ \hline \end{array} \quad \begin{array}{r} 18 \\ 1 \\ + 40 \\ \hline \end{array} \quad \begin{array}{r} 25 \\ 13 \\ + 21 \\ \hline \end{array} \quad \begin{array}{r} 14 \\ 14 \\ + 60 \\ \hline \end{array}$$

$$\begin{array}{r} 23 \\ 21 \\ + 3 \\ \hline \end{array} \quad \begin{array}{r} 21 \\ 60 \\ + 18 \\ \hline \end{array} \quad \begin{array}{r} 53 \\ 24 \\ + 11 \\ \hline \end{array} \quad \begin{array}{r} 20 \\ 26 \\ + 51 \\ \hline \end{array} \quad \begin{array}{r} 14 \\ 23 \\ + 51 \\ \hline \end{array}$$

$$\begin{array}{r} 4 \\ 35 \\ + 20 \\ \hline \end{array} \quad \begin{array}{r} 36 \\ 21 \\ + 31 \\ \hline \end{array} \quad \begin{array}{r} 22 \\ 5 \\ + 60 \\ \hline \end{array} \quad \begin{array}{r} 36 \\ 10 \\ + 43 \\ \hline \end{array} \quad \begin{array}{r} 22 \\ 40 \\ + 27 \\ \hline \end{array}$$

#### 5-SITUAÇÕES PROBLEMAS:

- a) LUIZ TEM 14 SELOS E SEU AMIGO JOÃO TEM 23 SELOS. QUANTOS SELOS TÊM LUIZ E JOÃO JUNTOS?

OPERAÇÃO

RESPOSTA

- b) CARLA COLHEU 43 LARANJAS E ANA 22. QUANTAS LARANJAS AS DUAS IRMÃS COLHERAM JUNTAS?

OPERAÇÃO

RESPOSTA



**ESCOLA MUNICIPAL LAURO LUIZ**

*Ensino Fundamental - Anos Iniciais*

RUA 13 de Maio, Nº 311 Fone:(45) 3233-1222  
CAMPO BONITO CEP: 85.450-000 PARANÁ

**TURMA 3º ANO - ATIVIDADES REMOTAS DE 01/03 A 12/03/2021**

ALUNO(A): \_\_\_\_\_  
PROFESSORA: \_\_\_\_\_  
DISCIPLINA: HISTÓRIA

VAMOS FALAR UM POUCO SOBRE SUA FAMÍLIA, CONFORME A NOSSA ATIVIDADE ANTERIOR PEDIMOS PARA FAZER A SUA DESCRIÇÃO PARA EU CONHECER VOCÊ MELHOR.

1) AGORA QUERO QUE VOCÊ ESCREVA UMA FRASE PARA:

A) PAI:.....

.....

B) MÃE:.....

.....

C) IRMÃO/IRMÃ(PARA QUEM TEM).....

.....

.....

2) MOSTE-ME ATRAVÉS DE DESENHOS SUA FAMÍLIA.

PINTE OS FANTOCHES, RECORTE-OS E COLE-OS EM PALITOSQUE VOCÊ TEM EM CASA. JUNTAMENTE COM SUA FAMÍLIA VOCÊ PODE DRAMATIZAR(BRINCAR) UM MOMENTO FELIZ.





**ESCOLA MUNICIPAL LAURO LUIZ**

*Ensino Fundamental - Anos Iniciais*

RUA 13 de Maio, Nº 311 Fone:(45) 3233-1222  
CAMPO BONITO CEP: 85.450-000 PARANÁ

**TURMA 3º ANO - ATIVIDADES REMOTAS DE 01/03 A 12/03/2021**

ALUNO(A): \_\_\_\_\_  
PROFESSORA: \_\_\_\_\_  
DISCIPLINA: GEOGRAFIA

**OS DIFERENTES LUGARES DO NOSSO DIA A DIA**

DESDE O MOMENTO EM QUE NASCEMOS, PASSAMOS A FREQUENTAR DIERENTES LUGARES COMO NOSSA CASA, A RUA E O BAIRRO (OU LOCALIDADE), ONDE MORAMOS A ESCOLA, OUTROS BAIROS DA CIDADE, OS LUGARES DE LAZER, COMO PRAÇAS, PARQUES, CINEMAS E CLUBES. EM CADA UM DESSES LUGARES APRENDEMOS COISAS NOVAS SEJA BRINCANDO, ESTUDANDO, APRENDENDO A PARTIR DE TAREFAS DOMÉSTICAS OU APRENDENDO COM PESSOAS A NOSSA VOLTA. É DESSE MODO QUE APRENDEMOS NOVOS CONHECIMENTOS E NOVAS EXPERIÊNCIAS EM NOSSO DIA A DIA.

SAIBA QUE EXISTEM MUITOS LUGARES NO MUNDO TODO...

RESPONDA:

1-QUAL O LUGAR MAIS LONGE DE SUA CASA QUE VOCÊ JÁ FOI?

.....

2-QUAL MEIO DE TRANSPORTE QUE VOCÊ UTILIZOU?

.....

3-QUANTO TEMPO VOCÊ LEVOU PARA CHEGAR LÁ?

.....

4-VOCÊ COSTUMA FAZER PASSEIOS COM SUA FAMÍLIA, PODE ESCREVER QUAIS LUGARES?

.....



5- QUANDO VOCÊ VEM ESTUDAR, PASSA POR DIFERENTES LUGARES, ATÉ CHEGAR NA ESCOLA. **DESENHE** O CAMINHO QUE VOCÊ FAZ DA SUA CASA PARA A ESCOLA SEJA NA CIDADE, SEJA NO CAMPO.



2- ESCREVA NOMES DE DOIS ANIMAIS QUE NASCEM DE OVOS.


**VIVÍPAROS:** SÃO ANIMAIS QUE DESENVOLVEM E NASCEM DE DENTRO DA BARRIGA DA MÃE.




ESCREVA NOMES DE OUTROS ANIMAIS QUE NASCEM DA BARRIGA DA MÃE:

FAÇA UM LINDO COLORIDO NO ANIMAL QUE MAMA QUANDO PEQUENO:



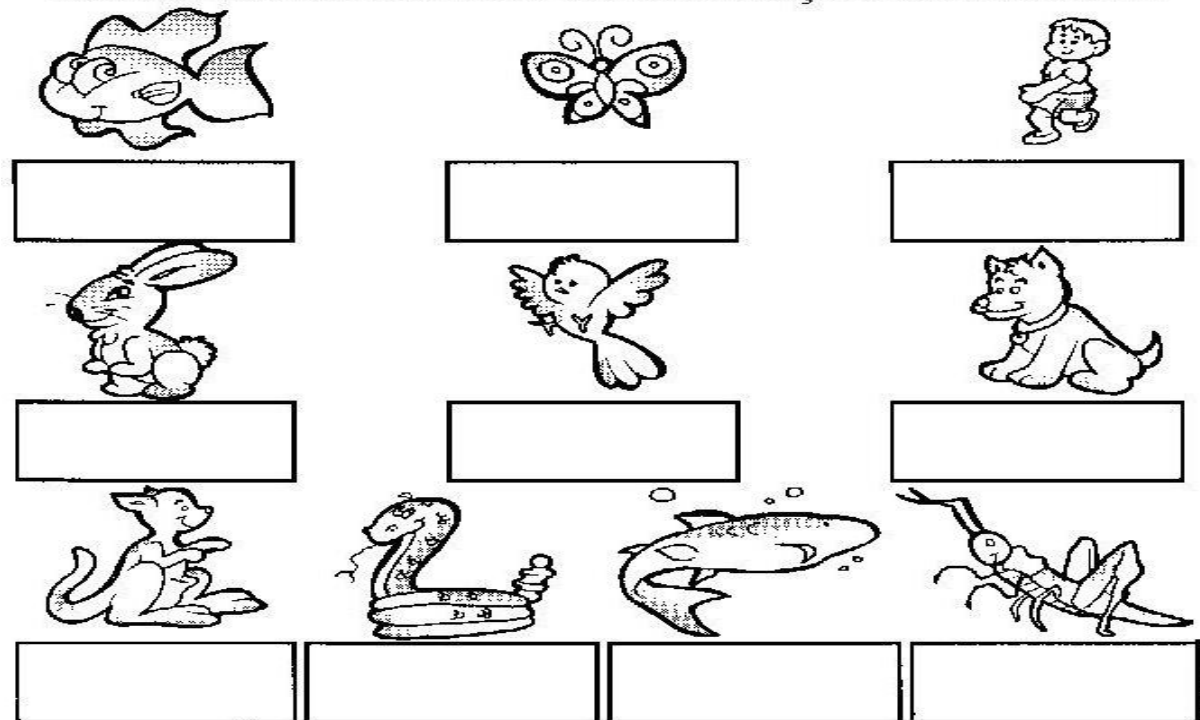
CIRCULE O ANIMAL QUE PÕE OVOS:



❖ Todos os animais se locomovem, mas de forma diferente.



✂ Recorte as fichas e cole abaixo de cada desenho, de acordo com a maneira de locomoção de cada um.



NADA	VOA	PULA	ANDA
RASTEJA	SALTA	NADA	
ANDA	VOA	SALTA	



**ESCOLA MUNICIPAL LAURO LUIZ**  
*Ensino Fundamental - Anos Iniciais*  
RUA 13 de Maio, Nº 311 Fone:(45) 3233-1222  
CAMPO BONITO CEP: 85.450-000 PARANÁ

### TURMA 3º ANO - ATIVIDADES REMOTAS DE 01/03 A 12/03/2021

ALUNO(A): \_\_\_\_\_  
PROFESSOR: \_\_\_\_\_  
DISCIPLINA: EDUCAÇÃO FÍSICA

OLÁ ALUNO, ESSA É A AULA DE **EDUCAÇÃO FÍSICA** DESSA QUINZENA.

**CORRIDA COM BALÃO:** DISPONIBILIZE UM CERTO NÚMERO DE BALÕES PARA CADA JOGADOR, CADA UM DEVE COLOCAR O BALÃO ENTRE OS JOELHOS E CORRER EM DIREÇÃO A UMA META E DEIXÁ-LA CAIR EM UMA TIGELA OU CESTA. SE O BALÃO CAIR NO CAMINHO, VOCÊ PRECISA VOLTAR AO INÍCIO E TENTAR NOVAMENTE. O VENCEDOR É AQUELE QUE FICAR SEM BALÕES PRIMEIRO.



**CORRIDA DE BATATA:**BATATA DOCE OU A NORMAL - 1 POR JOGADOR, COLHERES DE PAU OU METAL - 1 POR JOGADOR, FITA ADESIVA. CADA EQUIPE FARÁ UMA LINHA RETA COM SUA FITA ADESIVA DE MAIS OU MENOS 3 METROS DE COMPRIMENTO. OS JOGADORES DEVEM '**ROLAR LENTAMENTE**' AS BATATAS-DOCES AO LONGO DA LINHA SE A BATATA-DOCE ROLAR PARA FORA DA LINHA, O JOGADOR TEM QUE ROLAR DE ***VOLTA PARA ONDE SAIU DA LINHA*** E CONTINUAR E NÃO PODE DESLIZAR A BATATA-DOCE COM A COLHER TEM QUE EMPURRÁ-LA.



**REGISTRO DAS ATIVIDADES:** DEVE SER FEITA PELOS PAIS OU RESPONSÁVEIS DO ALUNO E COMPARTILHADO NO GRUPO DA SALA. PODERÁ SER POR MEIO DE FOTOS, VÍDEOS OU ÁUDIOS. DÚVIDAS MANDEM NO PARTICULAR.

**OBSERVAÇÃO:**

TODOS OS MATERIAIS CITADOS PODEM SER TROCADOS POR OUTROS SIMILARES (PARECIDOS). DESENVOLVER ATIVIDADE JUNTO AO GRUPO FAMILIAR.



**ESCOLA MUNICIPAL LAURO LUIZ**  
*Ensino Fundamental - Anos Iniciais*  
RUA 13 de Maio, Nº 311 Fone: (45) 3233-1222  
CAMPO BONITO CEP: 85.450-000 PARANÁ

## TURMA 3º ANO - ATIVIDADES REMOTAS DE 01/03 A 12/03/2021

ALUNO(A): \_\_\_\_\_  
PROFESSORA: \_\_\_\_\_  
DISCIPLINA: ARTE

QUERIDO(A) ALUNO(A)  
SEM VOCÊ A ESCOLA NÃO TEM O MESMO BRILHO!  
ESTOU COM MUITAS SAUDADES...  
MAS TENHO CERTEZA QUE TUDO ISSO IRÁ PASSAR E LOGO  
ESTAREMOS JUNTOS NOVAMENTE!  
VAI FICAR TUDO BEM!

HOJE IREMOS FALAR UM POUQUINHO SOBRE AS CORES! ELAS QUE SÃO TÃO IMPORTANTES PARA A ARTE, SÃO DIVIDIDAS INICIALMENTE EM DOIS GRUPOS: CORES PRIMÁRIAS E CORES SECUNDÁRIAS.

MAS PARA ENTENDER CERTINHO TUDO ISSO, VOU DEIXAR ABAIXO UM VÍDEO COM UMA HISTÓRIA BEM LEGAL PARA VOCÊS ENTENDEREM:

<https://www.youtube.com/watch?v=8hhhg0v8SY>

“AS CORES PRIMÁRIAS E SECUNDÁRIAS ENSINO FUNDAMENTAL I”

ENTÃO DEPOIS DO VÍDEO JÁ DESCOBRIMOS QUE AS CORES PRIMÁRIAS SÃO CHAMADAS ASSIM PORQUE SÃO AS PRIMEIRAS CORES, NÃO SÃO RESULTADO DE NENHUMA MISTURA, ESTÃO PRESENTES DA NATUREZA DE FORMA PURA!

**AS CORES PRIMÁRIAS SÃO VERMELHO, VERDE E AZUL.**

JÁ AS CORES SECUNDÁRIAS TÊM ESSE NOME POR SURTIRAM DA MISTURA DAS CORES PRIMÁRIAS.

OBSERVE O QUADRO:







AGORA QUE JÁ SABEMOS UM POUQUINHO MAIS SOBRE AS CORES, VAMOS PARA A TAREFA DO DIA!!!

ATIVIDADE: FAÇA UM RISCO NO MEIO DA FOLHA.

(UMA DICA: PARA ENCONTRAR O MEIO DA FOLHA SEM USAR A RÉGUA, VOCÊ PODE DOBRAR ELA QUE DEIXARÁ MARCADO O RISCO BEM NOMEIO !)



EM SEGUIDA FAÇA UM DESENHO. PODE SER UM OBJETO, O RETRATO DE UMA PESSOA, UMA LINDA PAISAGEM, OU MESMO ALGUMA IMAGEM ABSTRATA!





DE UM LADO VOCÊ TERÁ QUE PINTAR APENAS COM AS CORES PRIMÁRIAS (AZUL, VERMELHO, AMARELO). DE OUTRO LADO VOCÊ TERÁ QUE COLORIR USANDO APENAS AS CORES SECUNDÁRIAS (VERDE, LARANJA E AZUL)

VEJA COMO FICOU O EXEMPLO:

CORES PRIMÁRIAS

CORES SECUNDÁRIAS

