



ESCOLA MUNICIPAL LAURO LUIZ
Ensino Fundamental - Anos Iniciais
RUA 13 de Maio, Nº 311 Fone:(45) 3233-1222
CAMPO BONITO CEP: 85.450-000 PARANÁ

TURMA 3º ANO – 4º QUINZENA, ATIVIDADES REMOTAS DE 05/04 a 16/04/2021

ALUNO(A): _____
PROFESSORA: _____
DISCIPLINA: LÍNGUA PORTUGUESA

ORTOGRAFIA M e N

1) LEIA E COMPLETE A CANTIGA COM **M** OU **N**:

A CANOA VIROU

A CA...OA VIROU
QUE... DEIXOU ELA VIRAR
FOI POR CAUSA DA A...ITA
QUE ...ÃO SOUBE RE...AR
SE EU FOSSE U... PEIXINHO
E SOUBESSE ...ADAR
EU TIRAVA A A...ITA
DO FU...DO DO ...AR.



(CANTIGA POPULAR)

2) COMPLETE AS PALAVRAS ABAIXO COM **M** OU **N**:



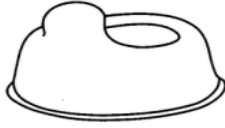
CA ___ PINA
CI ___ TURA
TA ___ BORETE
VALE ___ TE
LI ___ PEZA
SEME ___ TE
E ___ BLEMA
MORA ___ GO
PIME ___ TA
TE ___ PESTADE
MA ___ DIOCA

TRO ___ CO
MA ___ SO
PO ___ BA
I ___ POSTO
SEGU ___ DO
E ___ BRULHAR
CA ___ BALHOTA
PI ___ ÇAR
E ___ BAIXO



3)

M CAÇA-PALAVRAS DIVERTIDO N



P	H	U	B	A	N	A	N	A	E	O
A	U	T	C	C	A	M	E	L	O	P
N	A	V	E	S	P	F	F	C	R	A
E	E	N	G	K	Y	A	N	D	M	M
L	P	A	L	C	O	N	E	R	A	O
A	P	E	N	I	C	O	R	T	L	N
J	S	E	N	F	D	Y	N	I	A	H
T	S	J	A	N	E	L	A	O	R	A
M	A	R	T	E	L	O	C	U	R	T
S	N	I	N	H	O	R	J	K	N	E
E	T	M	A	I	O	N	E	S	E	S
M	V	Y	A	E	V	A	N	E	C	Y
I	C	A	N	Á	R	I	O	T	M	U
N	H	H	J	E	F	S	T	S	E	M
H	I	U	C	A	M	A	A	U	S	A
O	N	D	C	W	U	M	B	T	A	R
C	E	S	A	T	I	L	L	B	E	B
A	L	W	N	Q	M	I	L	H	O	O
O	O	A	O	N	Y	T	Y	K	T	N
M	T	N	V	N	A	V	I	O	K	E
O	A	D	E	T	R	U	B	L	I	C
E	B	S	L	W	I	N	D	N	O	A
D	L	T	O	J	A	N	W	I	N	A
A	N	I	N	G	O	N	A	T	U	N

ENCONTRE NO CAÇA-PALAVRAS AS SEGUINTE PALAVRAS CONFORME O SEU DESENHO.

- PENICO - CHINELO -
- NOVELO - MINHOCA -
- PAMONHA - JANELA -
- MARTELO - NAVE - MOEDA
- MALA - NAVIO - BONECA
- MILHO PANELA - CAMELO
- MAIONESE - BANANA -
- NINHO - CANÁRIO - CAMA
- MESA.

4) REESCREVA AS FRASES SUBSTITUINDO OS DESENHOS POR PALAVRAS:



FEZ



DE



A



DA



É COLORIDA .

O



DE



É GOSTOSO .

O



CHUPA



5) COMPLETE A CRUZADINHA COM M OU ÃO:

M CRUZADINHA LEGAL **ÃO**

1. mão
2. pavão
3. pão
4. cantaram
5. melão
6. limão
7. sabão
8. pularam
9. carvão

10. sorriram
11. latão
12. facão
13. tubarão
14. dormiram
15. pião
16. fogão
17. leão
18. beberão
19. anão

13 T U B A R Ã O

14

8

19

12

16

9

4

10

7

3

2

5

1

6

17

11

18



ESCOLA MUNICIPAL LAURO LUIZ

Ensino Fundamental - Anos Iniciais

RUA 13 de Maio, Nº 311 Fone:(45) 3233-1222
CAMPO BONITO CEP: 85.450-000 PARANÁ

TURMA 3º ANO - ATIVIDADES REMOTAS AVALIATIVAS DE 05/04 A 16/042021

ALUNO(A): _____
PROFESSORA: _____
DISCIPLINA: PORTUGUÊS

DE GOTINHA EM GOTINHA

ISABEL CRISTINA S. SOARES

DE GOTINHA EM GOTINHA

CAI A ÁGUA DA TORNEIRA

LAVA A MÃO DA CRIANCINHA

E PRO RALO VAI LIGEIRA!

LÁ NO SÍTIO DO "SEU" CHICO

TODA ÁGUA ELE APROVEITA

PARA O RALO ELA NÃO VAI

E ISTO AJUDA NA COLHEITA!

FAÇA TAMBÉM A SUA PARTE

REAPROVEITE O QUE PUDER

FECHE BEM TODA TORNEIRA

E PRESERVE O IGARAPÉ!



NOS POEMAS CADA LINHA É UM **VERSO**.

UM CONJUNTO DE **VERSOS** COM RIMAS, DENOMINAMOS (CHAMAMOS) DE **ESTROFES**.

INTERPRETAÇÃO DO POEMA

- 1) QUAL É O TÍTULO DO POEMA?.....
- 2) QUEM É O AUTOR(ESCREVEU) O POEMA?.....
- 3) QUANTOS VERSOS TEM ESSE POEMA?.....
- 4) QUANTAS ESTROFES HÁ NELE?.....
- 5) ENCONTRE DUAS RIMAS NA PRIMEIRA ESTROFE E ESCREVA-AS:.....

6)RETIRE DO TEXTO(POEMA) PALAVRAS QUE APARECEM A LETRA **G**:.....

7)COPIE DO POEMA O ÚLTIMO CONJUNTO DE VERSOS:

.....
.....
.....
.....



ESCOLA MUNICIPAL LAURO LUIZ

Ensino Fundamental - Anos Iniciais

RUA 13 de Maio, Nº 311 Fone: (45) 3233-1222
CAMPO BONITO CEP: 85.450-000 PARANÁ



TURMA 3º ANO – 4º QUINZENA ATIVIDADES REMOTAS DE 05/04 a 16/04/2021

ALUNO(A): _____
PROFESSORA: _____
DISCIPLINA: MATEMÁTICA

1) ESCREVA NÚMEROS DE 150 A 200.

.....
.....
.....
.....

2) ESCREVA O ANTECESSOR E SUCESSOR DE CADA NÚMERO ABAIXO:

					
69			49		
91			45		
61			52		
50			67		
90			10		
13			58		
92			11		
34			21		

3) ESCREVA O ANTECESSOR, NUMERAL QUE FICA ENTRE E O SUCESSOR:

___ 8	1 ___ 3	6 ___
___ 17	20 ___ 22	13 ___
___ 12	8 ___ 10	29 ___
___ 46	14 ___ 16	35 ___
___ 33	31 ___ 33	44 ___
___ 65	19 ___ 21	17 ___
___ 20	11 ___ 13	42 ___
___ 39	29 ___ 31	39 ___
___ 70	45 ___ 47	58 ___
___ 21	3 ___ 5	69 ___
___ 5	46 ___ 48	1 ___
___ 27	67 ___ 69	9 ___



4) SITUAÇÕES PROBLEMAS COM RESERVA:

A) MARIANA COMEU 17 BOMBONS E RENATA COMEU 15. QUANTOS BOMBONS ELES COMERAM JUNTOS?

OPERAÇÃO

RESPOSTA

B) UMA COSTUREIRA FEZ 54 CAMISAS PARA UMA ESCOLA DE SAMBA E DEPOIS FEZ MAIS 16 CAMISAS. QUANTAS ELA FEZ AO TODO?

OPERAÇÃO

RESPOSTA

C) PARA A FESTINHA DE ANIVERSÁRIO DO BETO, MAMÃE FEZ 23 SANDUÍCHES E 47 COXINHAS. QUANTOS SALGADINHOS ELA FEZ?

OPERAÇÃO

RESPOSTA

D) NA SALA DE AULA, HAVIA 26 ALUNOS. CHEGARAM MAIS 16. QUANTOS ALUNOS HÁ NA SALA DE AULA?

OPERAÇÃO

RESPOSTA

5) RESOLVA AS SUBTRAÇÕES (MENOS -)

$$\begin{array}{r} 76 \\ - 12 \\ \hline \end{array} \quad \begin{array}{r} 62 \\ - 60 \\ \hline \end{array} \quad \begin{array}{r} 39 \\ - 28 \\ \hline \end{array} \quad \begin{array}{r} 58 \\ - 45 \\ \hline \end{array} \quad \begin{array}{r} 65 \\ - 31 \\ \hline \end{array}$$

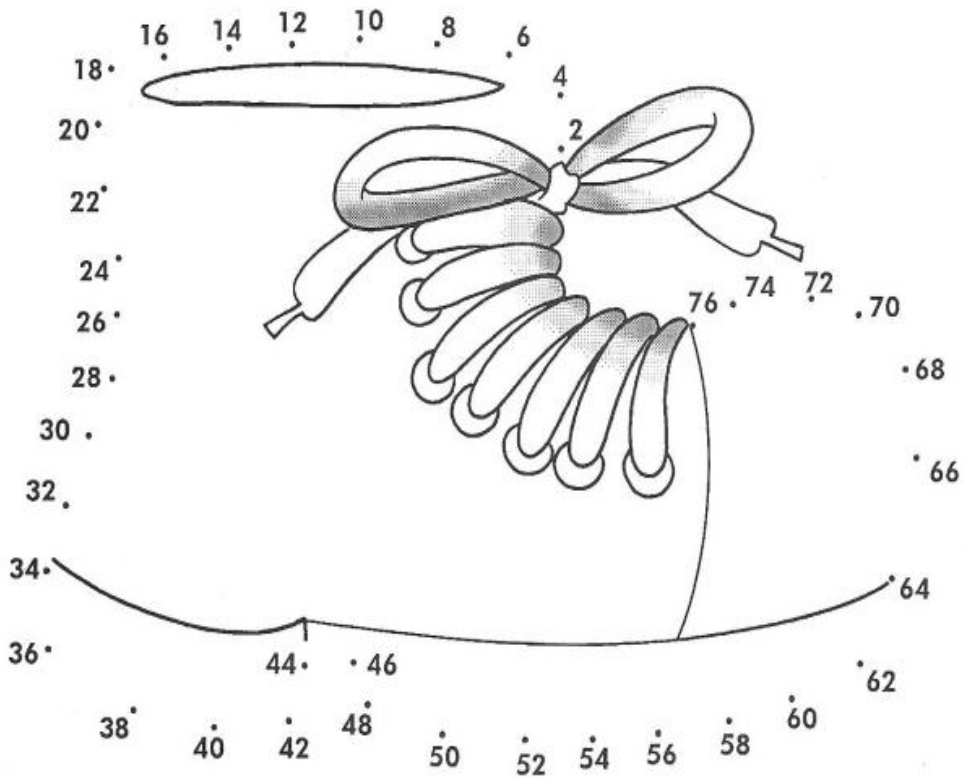
$$\begin{array}{r} 82 \\ - 71 \\ \hline \end{array} \quad \begin{array}{r} 22 \\ - 02 \\ \hline \end{array} \quad \begin{array}{r} 28 \\ - 24 \\ \hline \end{array} \quad \begin{array}{r} 58 \\ - 04 \\ \hline \end{array} \quad \begin{array}{r} 25 \\ - 12 \\ \hline \end{array}$$

$$\begin{array}{r} 58 \\ - 27 \\ \hline \end{array} \quad \begin{array}{r} 76 \\ - 11 \\ \hline \end{array} \quad \begin{array}{r} 37 \\ - 26 \\ \hline \end{array} \quad \begin{array}{r} 82 \\ - 02 \\ \hline \end{array} \quad \begin{array}{r} 78 \\ - 75 \\ \hline \end{array}$$

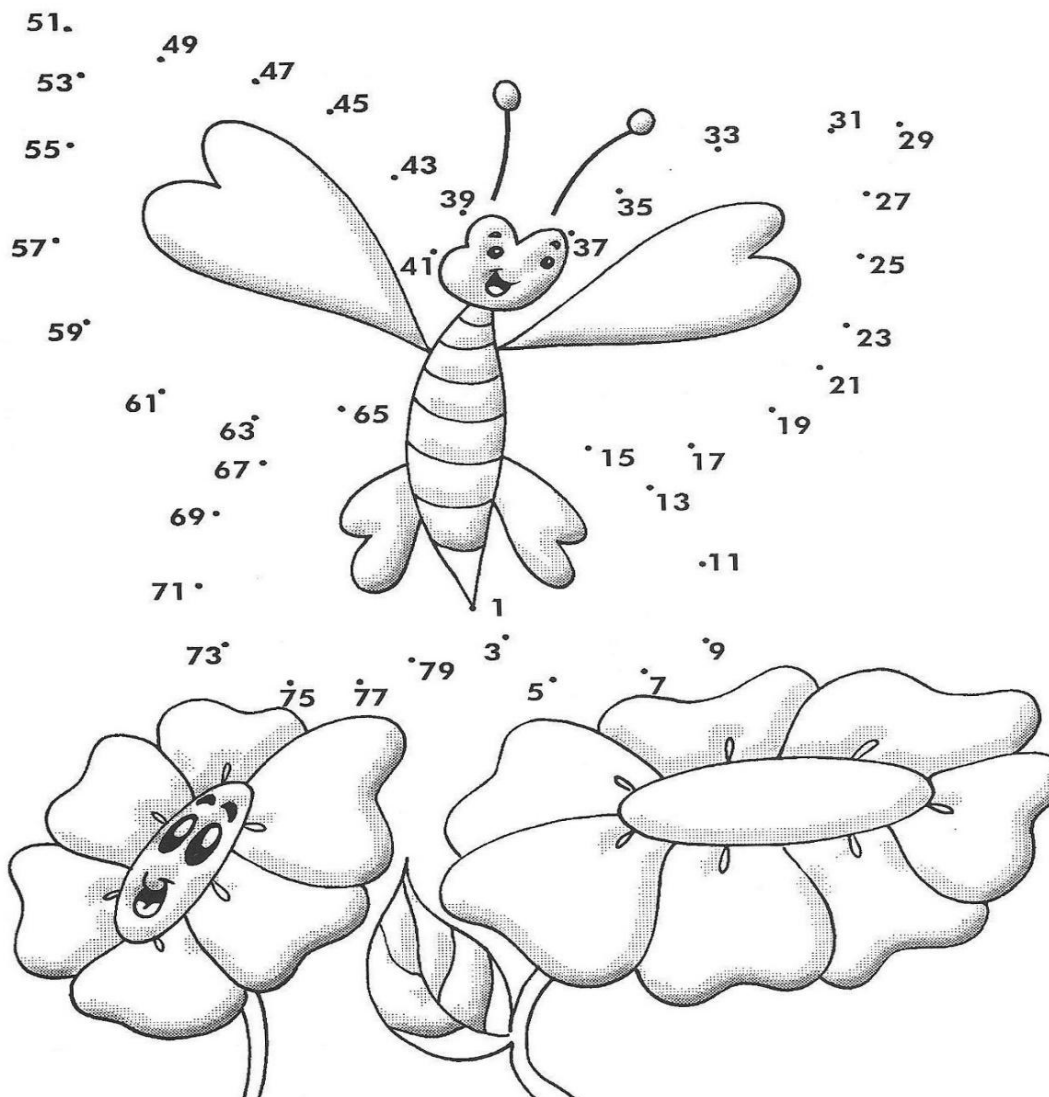
$$\begin{array}{r} 33 \\ - 23 \\ \hline \end{array} \quad \begin{array}{r} 66 \\ - 62 \\ \hline \end{array} \quad \begin{array}{r} 36 \\ - 03 \\ \hline \end{array} \quad \begin{array}{r} 25 \\ - 01 \\ \hline \end{array} \quad \begin{array}{r} 71 \\ - 31 \\ \hline \end{array}$$

PARA LIGAR E COLORIR

6) LIGUE OS NÚMEROS PARES E DESCUBRA QUAL FIGURA IRÁ FORMAR:



7) LIGUE A SEQUENCIA DOS NÚMEROS ÍMPARES:





TURMA 3º ANO - ATIVIDADES REMOTAS AVALIATIVAS DE 05/04 A 16/042021

ALUNO(A): _____
PROFESSORA: _____
DISCIPLINA: MATEMÁTICA


1) ESCREVA OS NÚMEROS ABAIXO, COMO VOCÊ FAZ A LEITURA DELES (POR EXTENSO):

12.....	21.....
25.....	52.....
33.....	13.....
05.....	10.....
66.....	78.....

2) RESOLVA AS OPERAÇÕES DE ADIÇÃO (+) E SUBTRAÇÃO(-):

$\begin{array}{r} 62 \\ -42 \\ \hline \end{array}$	$\begin{array}{r} 56 \\ -27 \\ \hline \end{array}$	$\begin{array}{r} 38 \\ -30 \\ \hline \end{array}$	$\begin{array}{r} 80 \\ -51 \\ \hline \end{array}$	$\begin{array}{r} 37 \\ -32 \\ \hline \end{array}$	$\begin{array}{r} 23 \\ 21 \\ + 3 \\ \hline \end{array}$	$\begin{array}{r} 21 \\ 60 \\ + 18 \\ \hline \end{array}$	$\begin{array}{r} 53 \\ 24 \\ + 11 \\ \hline \end{array}$	$\begin{array}{r} 20 \\ 26 \\ + 51 \\ \hline \end{array}$	$\begin{array}{r} 14 \\ 23 \\ + 51 \\ \hline \end{array}$
--	--	--	--	--	--	---	---	---	---

3 FORME CONJUNTOS DE 2 EM 2 E DESCUBRA SE É PAR OU ÍMPAR:

 <p>NUMERAL: _____ PAR OU ÍMPAR? _____</p>	 <p>NUMERAL: _____ PAR OU ÍMPAR? _____</p>
 <p>NUMERAL: _____ PAR OU ÍMPAR? _____</p>	 <p>NUMERAL: _____ PAR OU ÍMPAR? _____</p>

4) MAMÃE FEZ 24 BOMBONS EM FORMA DE COELHINHOS E 12 OVOS. QUANTOS DOCES DE PÁSCOA MAMÃE FEZ?

CÁLCULO

RESPOSTA

5) MEU AMIGO TEM UMA COLEÇÃO COM 88 FIGURINHAS. DEU 35 DELAS AO SEU PRIMO. QUANTAS FIGURINHAS RESTOU PARA ELE?

CÁLCULO

RESPOSTA



TURMA 3º ANO –4º QUINZENA ATIVIDADES REMOTAS DE 05/04 a 16/04/2021

ALUNO(A): _____
PROFESSORA: _____
DISCIPLINA: HISTÓRIA

DIREITOS E DEVERES

A DECLARAÇÃO UNIVERSAL DOS DIREITOS DA CRIANÇA, DE 1959, GARANTE A TODA CRIANÇA O DIREITO À IGUALDADE SEM DISTINÇÃO DE RAÇA OU RELIGIÃO, DANDO A ELA O DIREITO A PROTEÇÃO, FÍSICA, MENTAL E SOCIAL.

TODA CRIANÇA TEM DIREITO A UM NOME, NACIONALIDADE, ALIMENTAÇÃO, SAÚDE, MORADIA, LAZER, EDUCAÇÃO, RESPEITO NA FAMÍLIA E NA SOCIEDADE, BEM COMO A PROTEÇÃO CONTRA ABANDONO E EXPLORAÇÃO AO TRABALHO.

TODA CRIANÇA TEM DIREITO A CRESCER, TER RESPEITO, MAS ELA TAMBÉM TEM DEVERES. SER EDUCADO, IR À ESCOLA, TER SUAS RESPONSABILIDADES EM CASA, RESPEITAR AS PESSOAS NA ESCOLA, SER CORDIAL, CUMPRIR COM SEUS DEVERES ESCOLARES, SENDO COOPERATIVO COM OS COLEGAS, PROFESSORES E FUNCIONÁRIOS.

a) COPIE DO TEXTO QUATRO(4) DIREITOS DA CRIANÇA?

.....
.....
.....

B) VOCÊ CONCORDA COM OS DEVERES QUE A CRIANÇA DEVE TER EM RELAÇÃO A ESCOLA? EXPLIQUE.

.....
.....
.....

- Os direitos que você tem e que estão sendo respeitados na sua escola.
- Marque com um X:

- Ter bons professores.
- Ter um lugar na sala de aula.
- Estudar em ambiente limpo.
- Ser respeitado em suas opiniões.
- Participar das atividades escolares.
- Receber explicações para o que não entendeu.



Pinte os deveres que você respeita:

- Conservo a sala de aula e a escola sempre limpas.
- Estudo com atenção.
- Não falto às aulas.
- Trato com respeito as pessoas da escola.
- Sou cordial e educado.
- Cumpro meus deveres escolares.
- Coopero com meus colegas e professor.



1- CIRCULE A PRIMEIRA SÍLABA DOS DIREITOS QUE A CRIANÇA TEM:


EDUCAÇÃO

PAZ

CARINHO

AMOR

PROTEÇÃO



RESPEITO

ESPERANÇA

AMIZADE

2- ESCREVA EM ORDEM ALFABÉTICA OS DIREITOS DA CRIANÇA ACIMA:

.....
.....

3-VOCÊ GOSTA DE SER CRIANÇA? JUSTIFIQUE SUA RESPOSTA?

.....
.....

4-QUAIS SUAS BRINCADEIRAS PREFERIDAS?

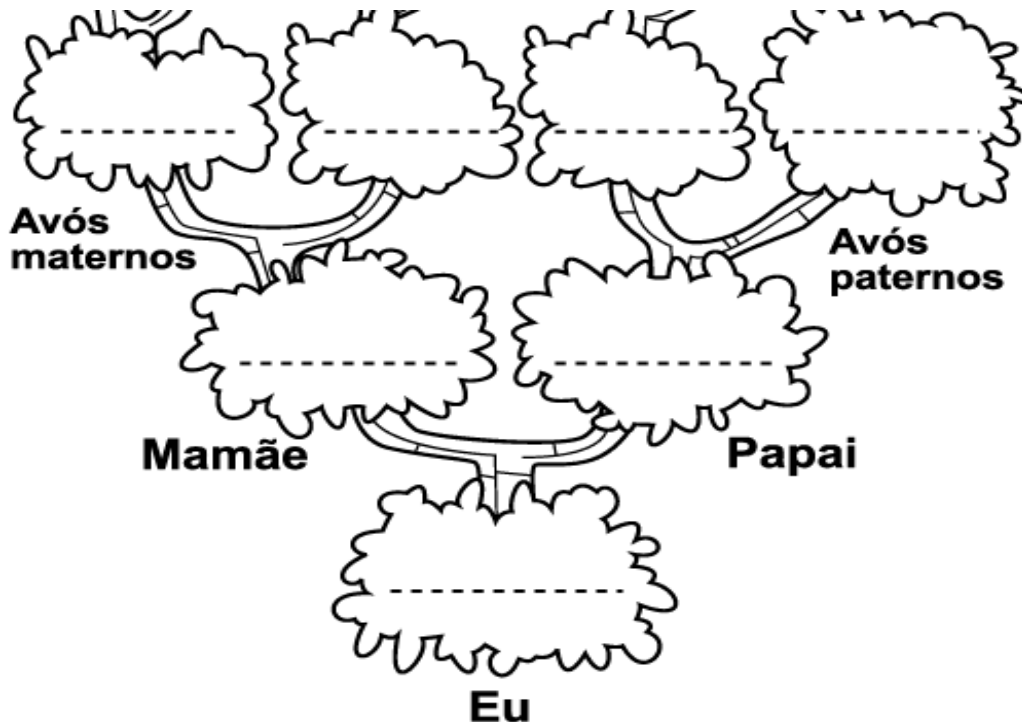
.....



TURMA 3º ANO - ATIVIDADES REMOTAS AVALIATIVAS DE 05/04 A 16/042021

ALUNO(A): _____
PROFESSORA: _____
DISCIPLINA: HISTÓRIA

1) COMPLETE A ÁRVORE GENEALÓGICA COM SEU GRUPO FAMILIAR:



2) QUEM SÃO NOSSOS PARENTES? MARQUE UM X.

() COLEGA

() AVÓS

() MÃE

() VIZINHO

() TIOS

() PROFESSORA

() PAI

() IRMÃO

() PRIMO

3) ESCREVA UM TEXTO SOBRE A SUA FAMÍLIA:

.....

.....

.....

.....

.....

.....

.....

.....




ESCOLA MUNICIPAL LAURO LUIZ
Ensino Fundamental - Anos Iniciais
RUA 13 de Maio, Nº 311 Fone: (45) 3233-1222
CAMPO BONITO CEP: 85.450-000 PARANÁ

TURMA 3º ANO - 4º QUINZENA ATIVIDADES REMOTAS DE 05/04 a 16/04/2021

ALUNO(A): _____
PROFESSORA: _____
DISCIPLINA: GEOGRAFIA

Cidades

Cidades, cidades, municípios,
um estado vêm formar.
Cidades altas, cidades baixas.
De cima é bom te olhar.



Cidades pequenas,
cidades grandes,
municípios e capitais.
Cheias de fábricas,
ou com grandes fazendas.
Mas nunca são iguais.



No campo é cidade rural.
Onde o ar é puro, cheiro bom.
No centro é zona urbana.
Com prédios, fábricas,
ruas calçadas e asphaltadas.
Sem falar da poluição.



Cidades turística, cidade histórica
Industrial, comercial e mineradora,
todas elas bem diferentes.
Mas todas encantadoras.

Graça Batituci

1- QUAL É O NOME DO POEMA?

.....

2- QUAL É O NOME DA AUTORA DO POEMA?

.....

3- LEIA O POEMA CIDADES E ENUMERE CORRETAMENTE.

(1) ZONA URBANA (2) ZONA RURAL

() POLUIÇÃO

() RUAS COM ASFALTO E CALÇADAS

() AR PURO

() PRÉDIOS

4- ESCREVA O QUE TEM EM NOSSA CIDADE DE CAMPO BONITO NA ÁREA DE:

a) SAÚDE:.....
.....

b) COMÉRCIO:.....
.....

c) EDUCAÇÃO:.....
.....

5- NO POEMA CIDADES FALA SOBRE CIDADES GRANDE E PEQUENAS, AGORA
ESCREVA O QUE VOCÊ SABE SOBRE A NOSSA CIDADE, COMO ELA É?

.....
.....
.....

6- LEIA COM ATENÇÃO TODAS AS ESTRÓFES DO POEMA CIDADES E ESCREVA QUAIS
OS TIPOS DE CIDADES SÃO CITADAS NELE.

.....
.....
.....



ESCOLA MUNICIPAL LAURO LUIZ
Ensino Fundamental - Anos Iniciais
RUA 13 de Maio, Nº 311 Fone:(45) 3233-1222
CAMPO BONITO CEP: 85.450-000 PARANÁ

TURMA 3º ANO - ATIVIDADES REMOTAS AVALIATIVAS DE 05/04 A 16/042021

ALUNO(A): _____
PROFESSORA: _____
DISCIPLINA:GEOGRAFIA

1) MARQUE UM (X) NO QUE CORRESPONDE A ZONA URBANA E ZONA RURAL:

  	ZONA URBANA	ZONA RURAL
ESTRADAS DE TERRA		
MUITAS CASAS E PRÉDIOS		
CARROS, ÔNIBUS, CAMINHÕES...		
CASAS SIMPLES		
CARROS DE BOI E CARROÇAS		
GRANDES AVENIDAS		
MUITAS LOJAS		
POUCOS MORADORES		
MUITAS PLANTAÇÕES		
RUAS ASFALTADAS E MOVIMENTADAS		
FUMAÇA DE FABRICAS		
CRIAÇÃO DE GADO		

2)O MUNICÍPIO É DIVIDIDO EM ZONA RURAL(CAMPO) E ZONA URBANA(CIDADE). A NOSSA ESCOLA ESTÁ LOCALIZADA NA:

() ZONA RURAL () ZONA URBANA

3) COMPLETE AS FRASES COM AS PALAVRAS ABAIXO:

RUAS - CIDADE - PRAÇAS - AVENIDAS

O BAIRRO É FORMADO POR UM CONJUNTO DE, E

.....

ELE É UMA PARTE DA



TURMA: 3º ANO _____ ATIVIDADES REMOTAS DE 05/04 A 16/04/2021

ALUNO(A): _____
PROFESSORA: _____
DISCIPLINA: CIÊNCIAS

Ciências

A água

A água é o bem mais precioso do planeta.

Todos os seres vivos necessitam de água para viver.

Nós utilizamos a água para quase tudo em nossa vida. Ela serve para beber, lavar, cozinhar, entre tantas outras coisas.

A água é usada nas indústrias, nas casas, escolas, hospitais e em todo lugar onde há pessoas.

Fazer o bom uso da água é dever de todos! O planeta agradece!

1 - Marque a resposta certa.

a) Segundo o texto, qual é a maior riqueza do planeta?

() Os seres vivos

() As indústrias

() A água



2) Complete de acordo com o texto.

A água serve para _____, _____, _____,
entre tantas outras coisas.

UTILIZANDO A ÁGUA

Escreva uma frase ao lado de cada ilustração a utilidade da água:

(banho)

(gerar energia elétrica)

(beber)

(lazer)

(cozinhar)



ESCOLA MUNICIPAL LAURO LUIZ
Ensino Fundamental - Anos Iniciais
RUA 13 de Maio, Nº 311 Fone:(45) 3233-1222
CAMPO BONITO CEP: 85.450-000 PARANÁ

TURMA: 3º ANO _____ ATIVIDADES AVALIATIVAS DE CIÊNCIAS 05/04 A 16/04/2021

ALUNO(A): _____
PROFESSORA: _____
DISCIPLINA: **CIÊNCIAS**

Classificando os animais segundo suas características: Em relação a alimentação:

1 – O que são animais CARNÍVOROS? Assinale a resposta correta.

- () São animais que se alimentam de outros animais.
() São animais que se alimentam de plantas,
() São animais que se alimentam tanto de plantas como de animais.

2 – O que são animais ONÍVOROS? Assinale a resposta correta.

- () São animais que se alimentam de outros animais.
() São animais que se alimentam de plantas,
() São animais que se alimentam tanto de plantas como de animais.

3 – O que são animais HERBÍVOROS? Assinale a resposta correta.

- () São animais que se alimentam de outros animais.
() São animais que se alimentam de plantas,
() São animais que se alimentam tanto de plantas como de animais.

COMO NASCEM OS ANIMAIS

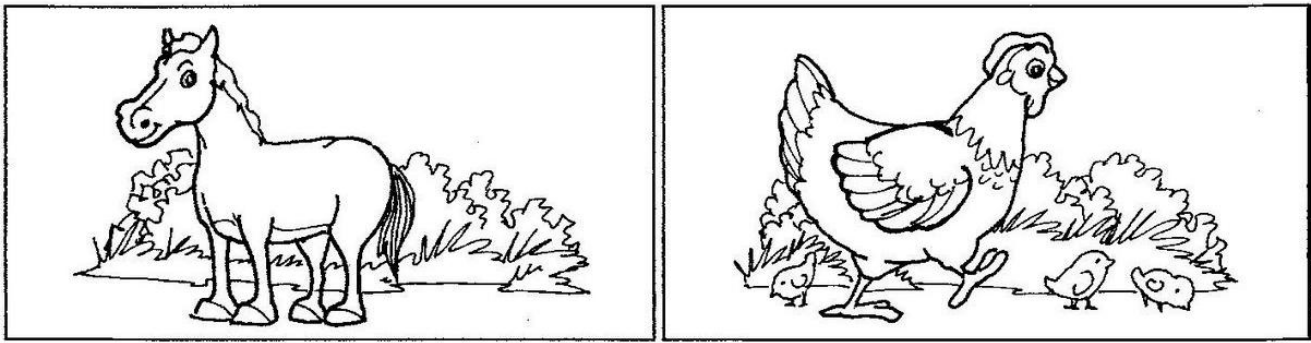
OVÍPAROS: São animais que botam ovos e dos ovos nascem seus filhotes.

VIVÍPAROS: São animais que desenvolvem e nascem de dentro da barriga da mãe.









4- Escreva nome de animais que nascem de ovos.

5 – Escreva nome de animais que desenvolvem e nascem de dentro da barriga da mãe.

6 – Circule o animal que se desenvolve e nasce de dentro da barriga da mãe.



7 – Escreva abaixo de cada animal a forma como ele se locomove:

VOA	NADA	PULA	ANDA
			
_____	_____	_____	_____
			
_____	_____	_____	_____

8 – Escreva o nome de dois animais que se locomovem em ambiente:

Terrestre (Terra)	Aquático (Água)	Aéreo (Ar)

9 – Descubra as palavras e complete as frases.

① s e r s v i v s ② n s c m
 ③ m o r e m ④ l o c m o v e m

- ⊙ Os animais são.....
- ⊙ Eles....., crescem, se reproduzem e.....
- ⊙ Eles se, mas de forma diferente.



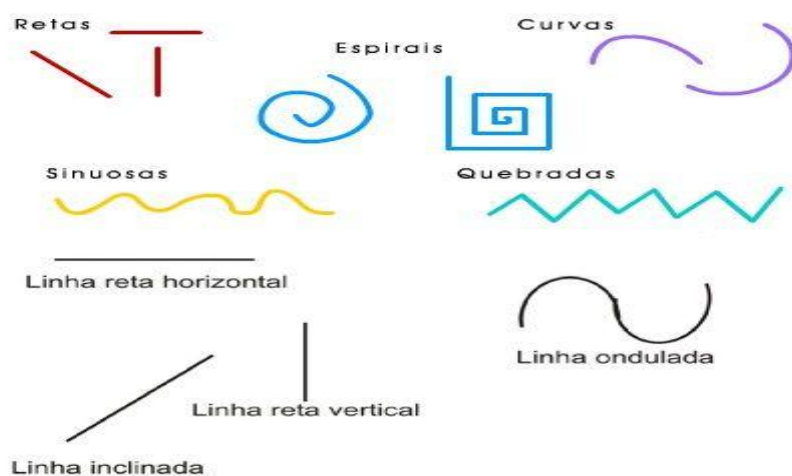
ESCOLA MUNICIPAL LAURO LUIZ
Ensino Fundamental - Anos Iniciais
RUA 13 de Maio, Nº 311 Fone:(45) 3233-1222
CAMPO BONITO CEP: 85.450-000 PARANÁ

TURMA 3º ANO - ATIVIDADES REMOTAS DE 05/04 A 16/04

ALUNO(A): _____
PROFESSORA: ELIANE DE CAMARGO DOMINIAK E MARGO
DISCIPLINA: ARTE

TIPOS DE LINHAS

NA LINGUAGEM VISUAL, AS LINHAS PODEM VARIAR DE DIREÇÃO, TAMANHO, ESPESSURA E COR



Corcovado, Havaí, Austrália, Indonésia, ganharam cores nas pinturas de Veiga (Foto: Divulgação/Tom Veiga)

<http://globoesporte.globo.com/al/noticia/2013/12/cores-linhas-e-ondas-artista-traduz-paixao-pelo-surfe-em-obras-de-arte.html> em 16 de março de 2021.

NA PINTURA ACIMA VOCÊ OBSERVOU QUE O ARTISTA UTILIZOU VÁRIAS FORMAS DE LINHAS. AGORA VOCÊ SERÁ O ARTISTA E DESENHARÁ UMA PAISAGEM USANDO AS DIFERENTES FORMAS DAS LINHAS.

VAMOS COLORIR UTILIZANDO AS CORES PRIMÁRIAS E SECUNDÁRIAS. O ARTISTA ROMERO BRITO UTILIZOU VÁRIOS TIPOS DE LINHAS PARA REALIZAR A SUA OBRA "O GATO"

