



ESCOLA MUNICIPAL LAURO LUIZ
Ensino Fundamental - Anos Iniciais
RUA 13 de Maio, Nº 311 Fone:(45) 3233-1222
CAMPO BONITO CEP: 85.450-000 PARANÁ

TURMA 4º ANO ____ - ATIVIDADES REMOTAS DE 30/08 A 03/09/2021

ALUNO(A): _____

PROFESSOR(A): **CLAUDETE APARECIDA SIMIONI**

DISCIPLINA: **PORTUGUÊS**

Leia o texto da página seguinte retirado do livro “**Diário de um Banana**” depois responda às questões a seguir:

- 1) Com suas palavras, produza um parágrafo contando o que acontece nesse dia da vida de Greg, o menino do texto.

- 2) Como é a sua vida em relação aos jogos? Você joga? O que usa para isso? Videogame, celular, computador, tablet, jogos de memória, dominó, ou outros? Como funciona sobre o tempo? Seus pais deixam o quanto você quiser ou tem um tempo combinado? Conte sobre isso, fazendo um pequeno texto.


Diário de um Banana

Terça-feira

Não sei se já falei isso antes, mas eu sou SUPERBOM no videogame. Aposto que, no mano a mano, eu venceria qualquer um da minha turma.

Infelizmente, o papai não dá muito valor às minhas habilidades. Ele está sempre no meu pé, querendo que eu saia e faça alguma coisa "ativa".

Então, hoje, depois do jantar, quando o meu pai começou a me chatear para sair, eu tentei explicar como dá para praticar esportes como futebol e basquete com o videogame, sem ficar todo suado e com calor.



Mas, como sempre, o papai não sacou a minha lógica.

Papai é um cara bem esperto em geral, mas quando se trata de senso comum, às vezes eu tenho minhas dúvidas.



Tenho certeza de que ele desmontaria meu videogame se conseguisse descobrir como, mas, por sorte, as pessoas que constroem essas coisas fazem elas à prova de pais.



Sobre o autor

Jeff Kinney nasceu nos Estados Unidos e é autor e ilustrador da série de livros **Diário de um Banana**, sucesso em vários países. Ele também cria jogos on-line. Segundo Jeff, muitas das histórias vividas pelo personagem do diário vêm de sua própria infância, enquanto outras são frutos de sua imaginação.





ESCOLA MUNICIPAL LAURO LUIZ
Ensino Fundamental - Anos Iniciais
RUA 13 de Maio, Nº 311 Fone:(45) 3233-1222
CAMPO BONITO CEP: 85.450-000 PARANÁ

TURMA 4º ANO - ATIVIDADES REMOTAS DE 30/08 A 03/09/2021

ALUNO(A): _____

PROFESSORA: VANESSA CASSO E JOCELI
DISCIPLINA: MATEMÁTICA

SITUAÇÕES PROBLEMAS:

1- RESOLVA AS SITUAÇÕES PROBLEMAS ABAIXO, SEGUINDO AS ORIENTAÇÕES;

Paulinho tem 96 bolas de gude, Pedrinho tem 37 bolas de gude a mais que Paulinho, e Junior tem 85. Quantas bolas de gude têm os três juntos?

Cálculo	Resposta:

Numa quitanda há meia centena de melancias, 3 centenas e 7 dezenas de laranjas e 2 centenas de abacates. Quantas frutas há na quitanda?

Cálculo	Resposta:

Uma escola tem 1 536 alunos de 1º ao 5º ano e 1878 de 6º ao 9º. Quantos alunos há na escola?

Cálculo	Resposta:





ESCOLA MUNICIPAL LAURO LUIZ

Ensino Fundamental - Anos Iniciais

RUA 13 de Maio, Nº 311 Fone:(45) 3233-1222
CAMPO BONITO CEP: 85.450-000 PARANÁ

TURMA 4º ANO _____ - ATIVIDADES REMOTAS DE 30/08 A 03/09/2021

ALUNO(A): _____
PROFESSOR(A): **CLAUDETE APARECIDA SIMIONI**
DISCIPLINA: **CIÊNCIAS**

Capítulo 2 do livro de ciências: **NÃO À EXTINÇÃO.**

Ler o texto “ **A triste história do dodô**” que começa na página 22 e termina na 23.

Responda:

1. Quem é Dodô?

LEIA OS TEXTOS DA PÁGINA 24 e 25

- **Preservar é preciso**
- **Saiba mais sobre o mico-leão-dourado**

2. O que significa dizer que um animal está em extinção?

3. Pesquise no livro ou em outros lugares, nomes de animais que estão em extinção e escreva no espaço abaixo , você pode também desenhar ou colar figuras se quiser.



ESCOLA MUNICIPAL LAURO LUIZ

Ensino Fundamental - Anos Iniciais

RUA 13 de Maio, Nº 311 Fone:(45) 3233-1222
CAMPO BONITO CEP: 85.450-000 PARANÁ

TURMA 4º ANO _____ ATIVIDADES REMOTAS DE 30/08 A 03/09/2021

ALUNO(A): _____

PROFESSORA: _____

DISCIPLINA: HISTÓRIA

RELAÇÃO ENTRE CAMPO E CIDADE

1- Complete a cruzadinha, conforme as questões do 1 ao 6;

CRUZADINHA

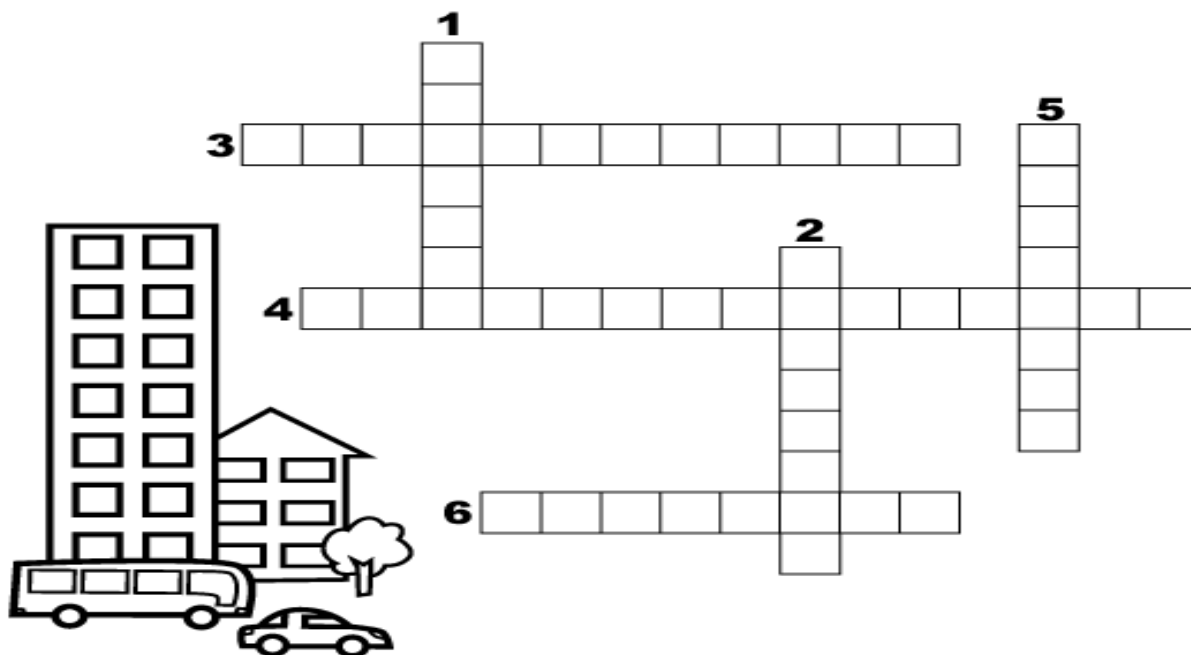


www.smartkids.com.br

-Instruções:

Para brincar com o jogo da Cruzadinha basta imprimir esta página, depois preencha os quadros com as palavras correspondentes de cada frase. Boa diversão!

1. Onde moram muitas pessoas...
2. Lugar onde se compra remédio...
3. Comprar a comida é no...
4. Para abastecer o carro vamos ao...
5. Pessoas doentes vão ao...
6. Passeamos nos finais de semana no...





ESCOLA MUNICIPAL LAURO LUIZ

Ensino Fundamental - Anos Iniciais

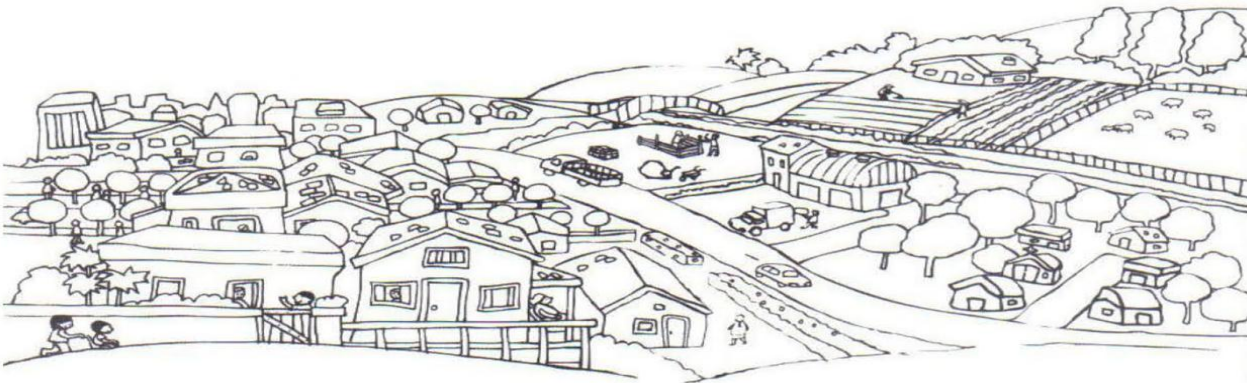
RUA 13 de Maio, Nº 311 Fone:(45) 3233-1222
CAMPO BONITO CEP: 85.450-000 PARANÁ

TURMA 4º ANO - ATIVIDADES REMOTAS DE 30/08 A 03/09

ALUNO(A): _____
PROFESSORA: VANESSA CASSOL
DISCIPLINA: GEOGRAFIA

NATUREZA E AS TRANSFORMAÇÕES NELA FEITO PELO HOMEM

1- Observe a atividade abaixo, e responda conforme explica; colorir as paisagens após realizá-la;



a) Há transformações nesta paisagem?

b) O que o homem fez nesta paisagem?

④ Marque com um x o que tem na zona rural e na zona urbana.

	ZONA URBANA	ZONA RURAL
Estradas de terra		
Muitas casas e prédios		
Carros, ônibus, caminhões...		
Casas simples		
Carros de boi e carro		
Grandes avenidas		
Muitas lojas		
Poucos moradores		
Muitas plantações		
Ruas asfaltadas e movimentadas		
Fumaça de fabricas		
Criação de gado		

ALUNO(A): _____
PROFESSOR(A): _____
DISCIPLINA: **ARTE**

Cores quentes e cores frias

As cores possuem seus valores de luminosidade. Algumas são mais alegres mais vivas, essas classificamos de cores quentes. Elas lembram o sol, o fogo e, transmitem o estímulo, o calor, a aventura. Por isso elas são derivadas do vermelho.

As cores que são mais escuras e tristes classificamos como cores frias. Elas lembram o frio, a sombra, a calma. Essas cores são derivadas do azul.

Há cores que são equilibradas como: o amarelo. Os tons de roxo podem ser classificados como quentes ou frios, pois apresentam tanto o azul como o vermelho.



TURMA 4º ANO - ATIVIDADES REMOTAS

ALUNO(A): _____
PROFESSOR: MAYCON
DISCIPLINA: **EDUCAÇÃO FÍSICA**

Atividade – Queimada 1 contra 1

O jogo de queimada é praticado por dois times, cujo objetivo é eliminar o adversário atingindo-os ("queimando-os") com a bola. Para essa brincadeira vamos jogar um contra um, e precisaremos de uma bola macia, pode ser de meia. Também devemos marcar o campo de jogo com uma linha no meio (se possível realizar a brincadeira fora de casa). Usando a bola o jogador deverá tentar acertar as pernas do seu oponente sem ultrapassar a linha do meio. Se conseguir acertar as pernas do outro terá uma vitória, se errar será a vez do outro tentar "queimar" seu adversário.

Observação: todos os materiais citados podem ser trocados por outros similares.