



ESCOLA MUNICIPAL LAURO LUIZ
Ensino Fundamental - Anos Iniciais
RUA 13 de Maio, Nº 311 Fone: (45) 3233-1222
CAMPO BONITO CEP: 85.450-000 PARANÁ

ALUNO(A):

SALA DE RECURSO - TURMA B-ATIVIDADES REMOTAS DE 20/09 A 23/09

1- ENUMERE OS DIAS DA SEMANA SEGUINDO A SEQUÊNCIA:




2- ESCREVA OS DIAS DA SEMANA, NA ORDEM CORRETA, ABAIXO:

1.	<input type="text"/>	2.	<input type="text"/>	3.	<input type="text"/>
4.	<input type="text"/>	5.	<input type="text"/>	6.	<input type="text"/>
		7.	<input type="text"/>		


3- QUE DIA DA SEMANA É HOJE? PINTE DE VERMELHO.

DOMINGO	SEGUNDA-FEIRA	TERÇA-FEIRA
QUARTA-FEIRA	QUINTA-FEIRA	SEXTA-FEIRA
SÁBADO		


4- O PRIMEIRO DIA DA SEMANA É:



5- O ÚLTIMO DIA DA SEMANA É:



6- QUAL É O DIA DA SEMANA QUE ESTÁ ENTRE TERÇA-FEIRA E QUINTA-FEIRA?



CONTE OS DIAS DA SEMANA:

DOMINGO

SEGUNDA

TERÇA


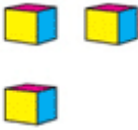
QUARTA

QUINTA

SEXTA

SÁBADO

QUAL É O NÚMERO?

DEZENAS	UNIDADES	
		<input type="text"/>

DEZENAS	UNIDADES	
		<input type="text"/>

QUEM VEM ENTRE?

5 7

22 24

40 42

35 37



PINTE DE AZUL OS CÍRCULOS DO MESMO TAMANHO



7- COMPLETE A SEQUÊNCIA DOS NUMERAIS NOS VAGÕES DO TREM DA CEBOLINHA.

