



**ESCOLA MUNICIPAL LAURO LUIZ**  
*Ensino Fundamental - Anos Iniciais*  
RUA 13 de Maio, Nº 311 Fone: (45) 3233-1222  
CAMPO BONITO CEP: 85.450-000 PARANÁ

SALA DE RECURSO - TURMA B - ATIVIDADES REMOTAS DE 23/08 A 27/08

ALUNO(A): \_\_\_\_\_

PROFESSORA: PAMELA FICAGNA

- 1- LEIA O TEXTO ABAIXO, E PINTE AS PALAVRAS QUE ESTÃO NO DIMINUTIVO E CIRCULE AS QUE ESTÃO NO AUMENTATIVO.

**SORVETINHO, SORVETÃO  
SORVETINHO DE LIMÃO  
QUEM NÃO TEM UM DINHEIRINHO  
NÃO TOMA SORVETE, NÃO!**

- 2- PASSE AS PALAVRAS ABAIXO PARA O AUMENTATIVO E PARA O DIMINUTIVO:

- a) BICHO: \_\_\_\_\_  
b) CARRO: \_\_\_\_\_  
c) COELHO: \_\_\_\_\_  
d) CHINELO: \_\_\_\_\_  
e) DEDO: \_\_\_\_\_  
f) PEIXE: \_\_\_\_\_

- 3- PASSE AS PALAVRAS ABAIXO PARA O DIMINUTIVO:

- a) BARATA: \_\_\_\_\_  
b) CHINELO: \_\_\_\_\_  
c) ESCOVA: \_\_\_\_\_  
d) VASSOURA: \_\_\_\_\_  
e) PATO: \_\_\_\_\_  
f) QUADRADO: \_\_\_\_\_

- 4- PASSE AS PALAVRAS ABAIXO PARA O AUMENTATIVO:

- a) ABRAÇO: \_\_\_\_\_  
b) PESCOÇO: \_\_\_\_\_  
c) PÉ: \_\_\_\_\_  
d) CAFÉ: \_\_\_\_\_  
e) GATO: \_\_\_\_\_  
f) PEIXE: \_\_\_\_\_

LARANJINHA	BARATINHA	LETRINHA	CÃOZINHO	VAQUINHA	JOGUINHO
VIZINHO	CAVALINHO	BOQUINHA	GATINHA	BOLINHA	CESTINHA
PERNINHA	RAINHA	MOINHO	FLORZINHA	PLANTINHA	MOCINHO


- 5- CIRCULE AS PALAVRAS QUE NÃO ESTÃO NO DIMINUTIVO:

6- CIRCULE AS PALAVRAS QUE NÃO ESTÃO NO AUMENTATIVO:

GATÃO	MAMÃO	LIVRÃO	FEIJÃO	SABÃO	CARRÃO
CANÇÃO	DEDÃO	BRAÇÃO	CACHORRÃO		

7- COMPLETE A CRUZADINHA USANDO AS PALAVRAS QUE ESTÃO EMBAIXO.

# S CRUZADINHA LEGAL SS





- |             |             |                 |               |
|-------------|-------------|-----------------|---------------|
| 1. osso     | 7. pessoa   | 13. travessa    | 19. travessão |
| 2. sorvete  | 8. Vanessa  | 14. sabiá       | 20. sapato    |
| 3. pêssigo  | 9. vassoura | 15. travesseiro | 21. pássaro   |
| 4. sedex    | 10. serrote | 16. suco        | 22. sino      |
| 5. passas   | 11. massa   | 17. carrossel   | 23. Cássio    |
| 6. sabonete | 12. sol     | 18. salada      | 24. sopa      |

ALUNO(A): \_\_\_\_\_

PROFESSORA: PAMELA FICAGNA

1- CASCÃO GANHA DO SEU PAI VÁRIAS MOEDAS TODA SEMANA. ENTÃO VAMOS AJUDÁ-LOS A CONTAR E SABER QUANTO ELE JUNTOU EM 4 SEMANAS.





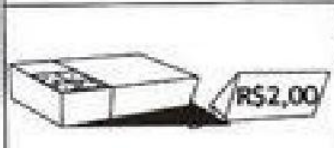
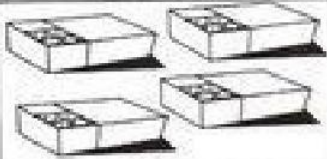


1ª semana		R\$ <input type="text"/>
2ª semana		R\$ <input type="text"/>
3ª semana		R\$ <input type="text"/>
4ª semana		R\$ <input type="text"/>

a) QUANTO FOI O TOTAL QUE CASCÃO JUNTOU?

2- GABRIEL E FLÁVIA FORAM A UMA LOJA DE BRINQUEDOS E COMPRARAM ALGUNS PRODUTOS.

OBSERVE OS PRODUTOS E OS PREÇOS. COMPLETE O QUADRO E, DEPOIS, RESOLVA:

Preço	Comprei	Gastei
		$5 + 5 = \square$ R\$ = <input type="text"/>
		$4 + 4 + 4 = \square$ R\$ = <input type="text"/>
		$2 + 2 + 2 + 2 = \square$ R\$ = <input type="text"/>

a) GABRIEL COMPROU UM JOGO DE DOMINÓ E UMA BOLA. QUANTO GABRIEL GASTOU?

b) FLÁVIA COMPROU UMA BONECA E UM JOGO DE DOMINÓ. QUANTO FLÁVIA GASTOU?

c) QUEM GASTOU MAIS? MARQUE COM UM X.

Flávia	Gabriel
--------	---------

d) SE VOCÊ FOSSE A LOJA DE BRINQUEDOS, O QUE COMPRARIA? ESCREVA NO ESPAÇO A BAIXO E SOME QUANTO IRIA GASTAR.